



Добрая Дорога Ответства
ДДД

«Интеллектуальная игра по ПДД «Авторинг»»





Добрая
орога
етства
Д Д Д

1-й раунд

«ДОРОЖНЫЕ ЗНАКИ»





Добрая дорога детства



1



3



1. Какой из этих знаков обозначает место, где можно переходить дорогу?

Ответ:





Добрая Дорога детства
ДДД



2. Какой знак запрещает движение на велосипеде?



Ответ:





Добрая Дорога Детства



3. Какой знак запрещает движение пешеходов?



1.



2.



3.



4.

Ответ:





Добрая Дорога детства



4. Каким знаком обозначают «Пешеходную дорожку»?



Ответ:





Добрая Дорога Детства



5. Какими цифрами обозначены знаки, запрещающие движение на велосипедах?

1



2



3



Ответ:





Добрая Дорога
Д Д Д
ответства

2-й раунд

«ВЕРНО ЛИ, ЧТО...»



1. Верно ли, что этот знак означает:
неровная дорога?

()



2. Верно ли утверждение: идя по тротуару
нужно придерживаться левой стороны?

()


3. Верно ли, что этот знак означает: машина
движущая первой навстречу, должна
проехать первой?

()



4. Верно ли, что недалеко находится больница?

()



5. Верно ли утверждение: «шофёр» в переводе с французского означает «истопник» ?

()




6. Верно ли утверждение: этот знак показывает место перехода через дорогу?

()



4. Верно ли, что недалеко находится больница?

()



5. Верно ли утверждение: «шофёр» в переводе с французского означает «истопник» ?

()




6. Верно ли утверждение: этот знак показывает место перехода через дорогу?

()



7. Верно ли, что этот знак не запрещает движение пешеходов?

()



8. Верно ли, что этот знак означает: рядом есть детские учреждения(школа, детский сад)?

()



9. Верно ли утверждение: на переднем сиденье автомобиля разрешено ездить с 10-ти лет?

()

10. Верно ли утверждение: в России левостороннее движение?

()






Добрая Дорога детства
ДАДА

3-й раунд «ТРЕТИЙ ЛИШНИЙ»





1



3

1. Какой знак лишний? Почему?





Добрая дорога детства



1



3

2. Какой знак лишний? Почему?





Добрая Дорога Детства



1



3

3. Какой знак лишний? Почему?





Добрая Дорога детства



1



3




4. Какой знак лишний? Почему?






Добро Дорога детства
Д Д Д



1



3


5. Какой знак лишний? Почему?



ГОИНАЛ



Укажите номера тех пешеходов, которые нарушают Правила дорожного движения





Добрая Дорога
Д Д Д
етства

МОЛОДЦЫ!

Спасибо за игру!

