



Математик а

Математическая разминка


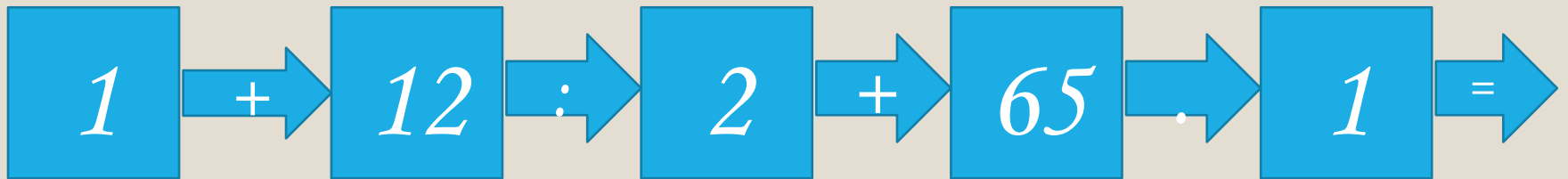
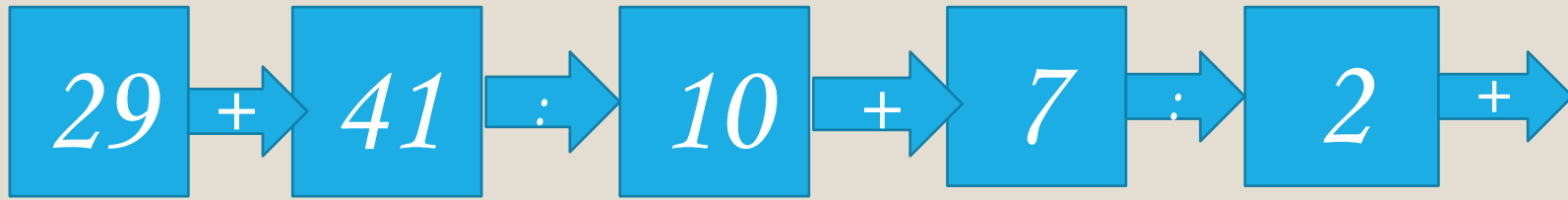
Выполни карточки на учи.ру

4 "И" 26 учеников

Математика

Математическая разминка 15.04





Выполни задания в рабочей тетради

Длина аллеи 540 м. От двух концов аллеи побежали одновременно навстречу друг другу Петя и его собака Пират. Через 2 мин Петя надел на Пирата поводок. С какой скоростью бежал Петя, если скорость Пирата была 150 м/мин?



Выполни задания в рабочей тетради

Выполните действия.

$$\begin{array}{r} 30679 \\ + 6875 \\ \hline 208 \\ 14 \end{array}$$

$$\begin{array}{r} 908013 \\ - 19014 \\ \hline \end{array}$$

$$\begin{array}{r} 36 \\ \cdot 154 \\ \hline \end{array}$$

$$\begin{array}{r} 48 \\ \cdot 96 \\ \hline \end{array}$$

$$6587305$$

$$36082812$$