

Прибавить и вычесть
число 3.
Решение текстовых задач
стр. 106-107
Урок № 53



Школа России
Математика 1 класс



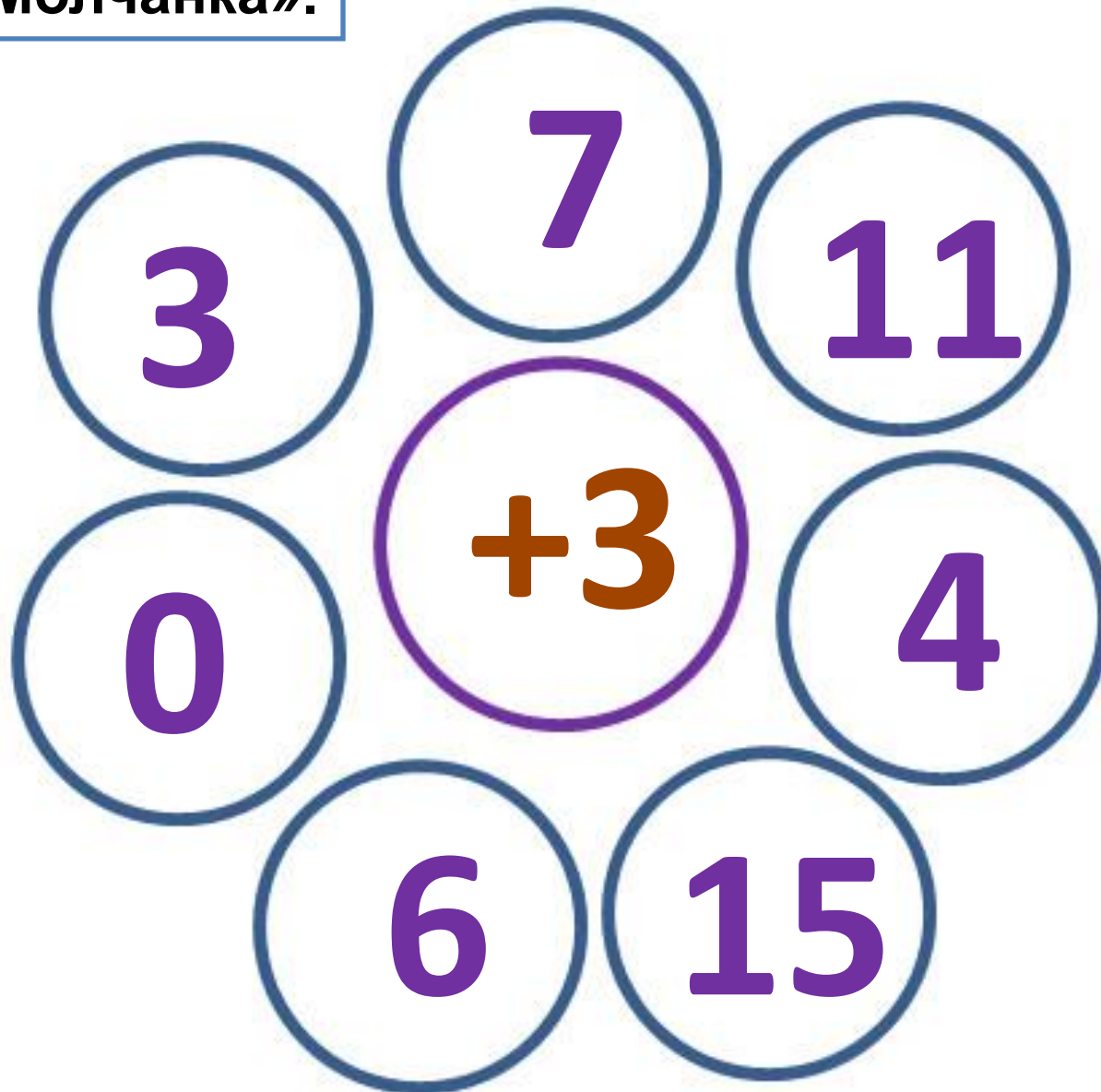
**Прозвенел для нас звонок
Начинается урок.
Мы за парты дружно сели
И на доску поглядели.
Мы пришли сюда учиться,
Не лениться, а трудиться.
Работаем старательно,
Слушаем внимательно.
Мы хороший дружный класс
Всё получится у нас!**

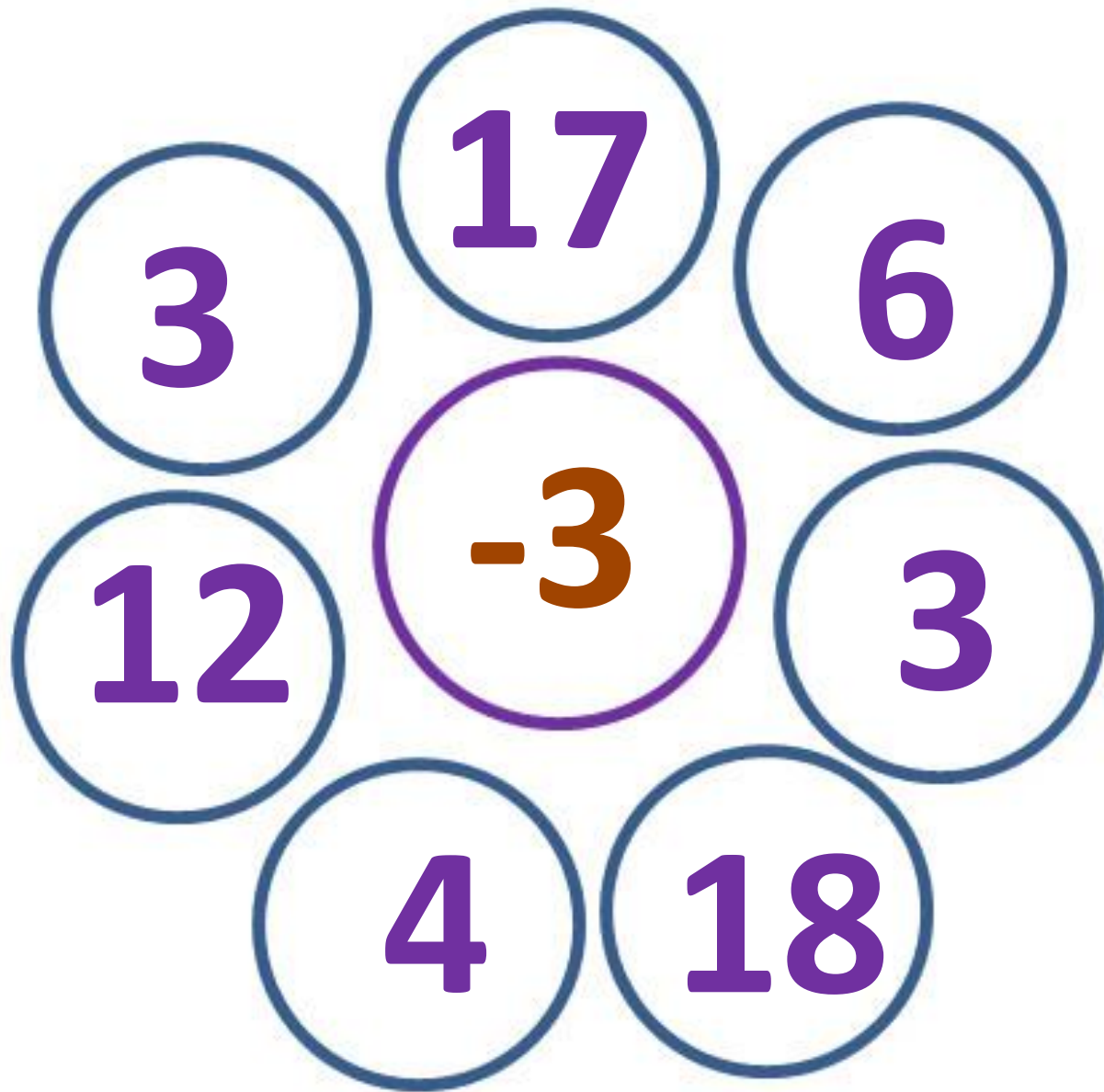




Устный счёт

Игра «Молчанка».





Расположи числа в порядке убывания.



4 9 6 3 0 2 5

9 6 5 4 3 2 0

На двух полках стояло по 7 книг. С первой полки
взяли 2 книги, а со второй 1 книгу. На какой полке
больше осталось книг?



5



6



В одну бочку входит 7 ведёр воды, а в другую столько же, но без одного ведра. Сколько вёдер воды входит в другую бочку?


7

?



6

Новый материал



Разложи 3 яблока на две тарелки.





1 способ: $1 + 2$



2 способ: $2 + 1$



Сколько яблок нужно добавить на каждую тарелку, чтобы в них стало по 3 яблока ?



Как можно прибавить число 3 по частям?



$$+ 3$$

$$+ 1 + 1 + 1$$

$$+ 1 + 2$$

$$+ 2 + 1$$

Как можно отнять число 3 по частям?



- 3

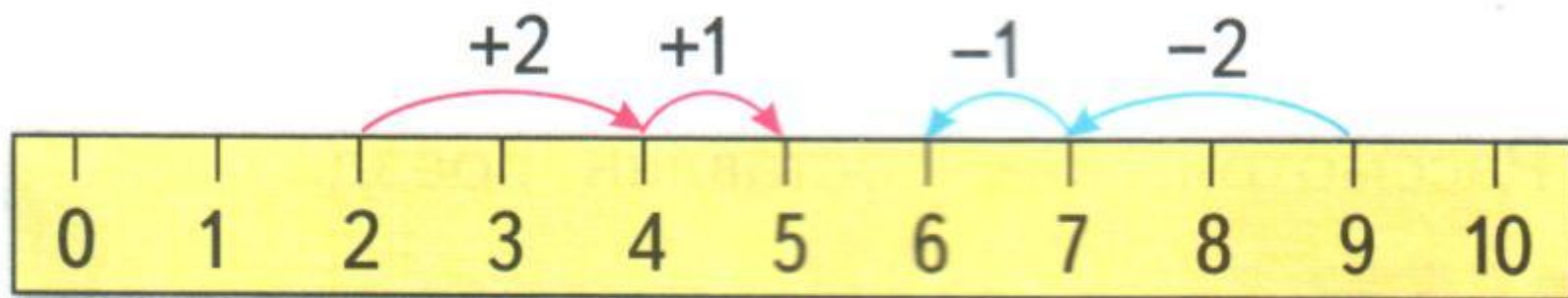
- 1 - 1 - 1

- 1 - 2

- 2 - 1

1. $2 + 3 = \square$

$9 - 3 = \square$



$$\begin{array}{r} 4 + 3 \\ \hline 4 + 2 + 1 \end{array}$$

$$\begin{array}{r} 10 - 3 \\ \hline 10 - 2 - 1 \end{array}$$

$$\begin{array}{r} 6 + 3 \\ 9 - 3 \end{array}$$

Чему будем учиться на уроке?

Найди наибольшую сумму.



$$2 + 4$$


$$6 + 3$$

$$7 + 3$$

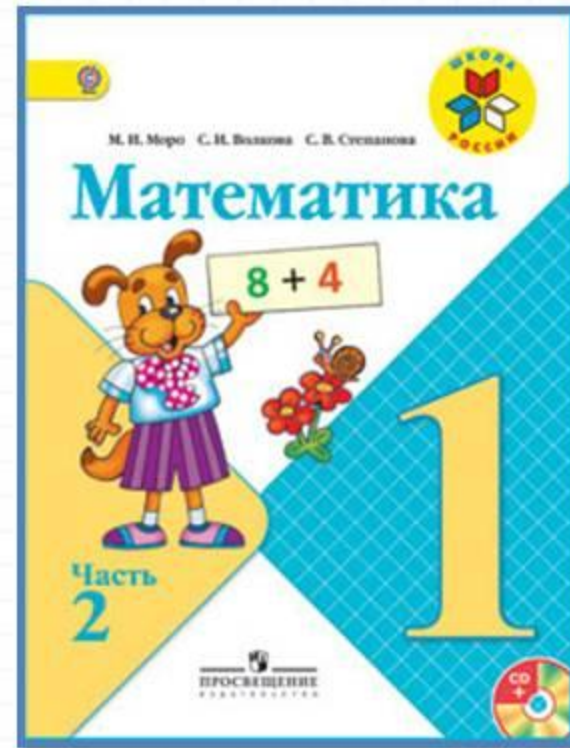
$$4 + 3$$

$$5 + 2$$

**Раз, два, три, четыре, пять –
Все умеем мы считать.
Раз! Подняться, подтянуться.
Два! Согнуться, разогнуться.
Три! В ладоши три хлопка,
Головою три кивка,
На четыре – руки шире,
Пять – руками помахать,
Шесть – за парту тихо сесть.**




Работа по учебнику



стр. 106 -
107

Будем учиться прибавлять 3 к данному числу и вычитать из данного числа 3.



$$\begin{array}{r} 7 + 3 \\ 7 + 2 + 1 \end{array}$$

$$\begin{array}{r} 7 + 3 \\ 7 + 1 + 2 \end{array}$$

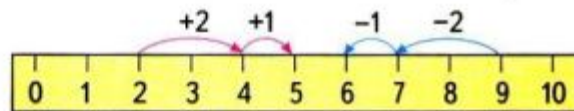


$$\begin{array}{r} 6 - 3 \\ 6 - 2 - 1 \end{array}$$

$$\begin{array}{r} 6 - 3 \\ 6 - 1 - 2 \end{array}$$

1. $2 + 3 = \square$

$9 - 3 = \square$



$$\begin{array}{r} 4 + 3 \\ 4 + 2 + 1 \end{array}$$

$$\begin{array}{r} 10 - 3 \\ 10 - 2 - 1 \end{array}$$

$$\begin{array}{r} 6 + 3 \\ 9 - 3 \end{array}$$

2. Увеличь на 3 каждое из этих чисел:

7, 2, 6, 1, 3, 4, 5.

3. Уменьши на 3 каждое из этих чисел:

10, 8, 7, 5, 9, 6, 3, 4.

НАРИСУЙ
И
ПРОДОЛЖИ
УЗОР:



Будем учиться прибавлять 3 к данному числу и вычитать из данного числа 3.



$$\begin{array}{r} 7 + 3 \\ \hline 7 + 2 + 1 \end{array}$$

$$\begin{array}{r} 7 + 3 \\ \hline 7 + 1 + 2 \end{array}$$

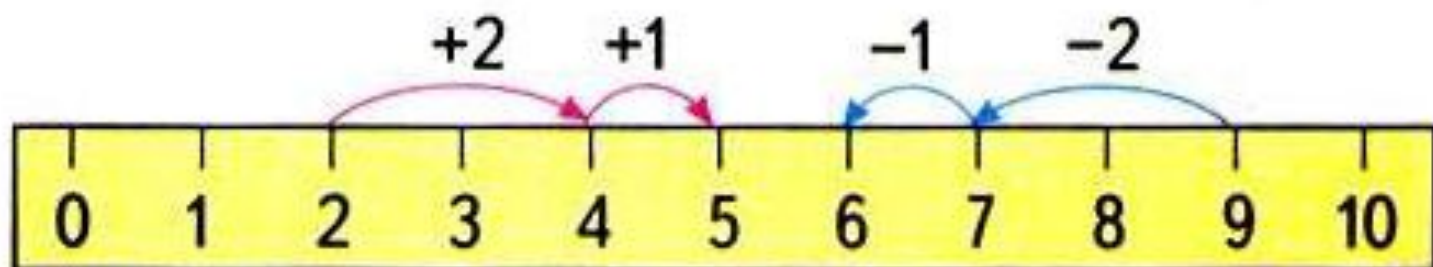


$$\begin{array}{r} 6 - 3 \\ \hline 6 - 2 - 1 \end{array}$$

$$\begin{array}{r} 6 - 3 \\ \hline 6 - 1 - 2 \end{array}$$

1. $2 + 3 = \square$

$9 - 3 = \square$



$$\begin{array}{r} 4 + 3 \\ \hline 4 + 2 + 1 \end{array}$$

$$\begin{array}{r} 10 - 3 \\ \hline 10 - 2 - 1 \end{array}$$

$$\begin{array}{r} 6 + 3 \\ 9 - 3 \end{array}$$

2. Увеличь на 3 каждое из этих чисел:
7, 2, 6, 1, 3, 4, 5.

3. Уменьши на 3 каждое из этих чисел:
10, 8, 7, 5, 9, 6, 3, 4.

4. Варя склеила 5 фонариков для ёлки.



Юра склеил 3 фонарика. Сколько всего ...?

5. Вася сделал 4 хлопушки.



Коля сделал 2 хлопушки. Сколько всего ...?

6. В коробке было 8 ёлочных игрушек.



Когда их вешали на ёлку, 2 игрушки разбились. Сколько игрушек осталось?

Игра в слова

Используя буквы **О, П, Р, С, Т**, составь разные слова из 3 букв; 4 букв; 5 букв.
Например: **СОРТ**.

Катя вырезала из бумаги 3 большие снежинки и 2 маленькие. Сколько всего снежинок вырезала Катя?

КАКАЯ
ФИГУРА
ПРОПУЩЕНА?



4. Варя склеила 5 фонариков для ёлки.



Юра склеил 3 фонарика. Сколько всего ...?

5. Вася сделал 4 хлопушки.



Коля сделал 2 хлопушки. Сколько всего ...?

6. В коробке было 8 ёлочных игрушек.



Когда их вешали на ёлку, 2 игрушки разбились. Сколько игрушек осталось?

Игра в слова

Используя буквы **О, П, Р, С, Т**, составь разные слова из 3 букв; 4 букв; 5 букв. Например: **СОРТ**.

Физкультминутка

**Еж спешил к себе домой,
Нес запасы он с собой.
Через кочки еж скакал,
Быстро по лесу бежал.
Вдруг он сел и изменился –
В шарик круглый превратился.
А потом опять вскочил
И к детишкам поспешил.**



Работа в тетради

стр.
38



$\square + 3$

$\square - 3$


• Нарисуй схему к каждой задаче. Реши задачи.


1) У Коли было 5 р. Он купил карандаш за 3 р. Сколько рублей у него осталось?


Ответ:

2) На полянке было 4 зайца, а стало на 2 больше. Сколько зайцев стало на полянке?


Ответ:

•  $4 + 3 = \square$

 $4 + 1 + \square = 7$

 $9 - 3 = \square$

$9 - 1 - \square = 6$

•  $\textcircled{5}$

$3 + 2$	$8 - 2$	$9 - 2$	$6 - 0$
$4 + 2$	$7 - 2$	$8 - 2$	$4 + 3$

$\textcircled{6}$ $\textcircled{7}$

• Закрась все четырёхугольники красным цветом.





$4 + 3 = \square \square$



$4 + 1 + \square = 7$

$9 - 3 = \square \square$

$9 - 1 - \square = 6$

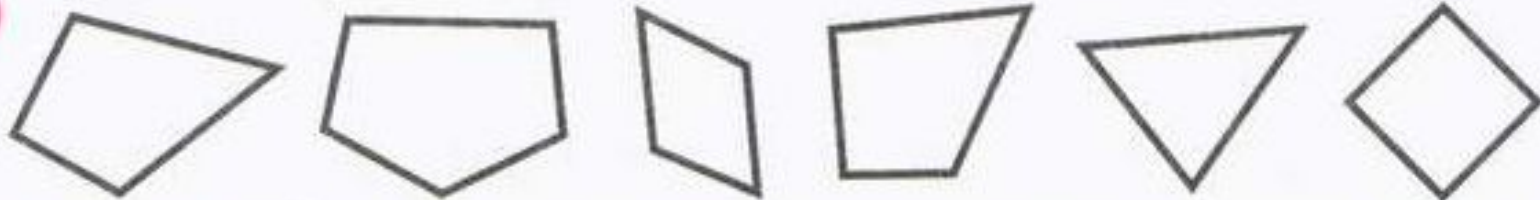
5

$3 + 2$	$8 - 2$	$9 - 2$	$6 - 0$
$4 + 2$	$7 - 2$	$8 - 2$	$4 + 3$

6

7

Закрась все четырёхугольники красным цветом.



Рефлексия

**Мы узнали...,
-Мы учились...,
-Мы смогли...,
-У нас не получилось...,
-На уроке было легко...,
-На уроке было трудно...,
-На следующем уроке необходимо поработать над... .**



