

Тема урока



ПОСТРОЕНИЕ ЧЕРТЕЖА ПИЖАМНЫХ БРЮК.

УЧИТЕЛЬ ПРОФЕССИОНАЛЬНО- ТРУДОВОГО ОБУЧЕНИЯ

АЛЕКСАНДРОВА ИРИНА АЛЕКСЕЕВНА

ГСОУ КОРРЕКЦИОННАЯ ШКОЛА ИНТЕРНАТ

VIII ВИДА

Цели:



1. Познакомиться с особенностью построения чертежа брюк.
2. Выполнить расчеты для построения чертежа пижамных брюк.
3. Научиться выполнять построение чертежа.

Пижама состоит из изделий:

плечевое изделие:

.....

поясное изделие:

.....



Задание. Прочитать словарные слова.



- П . Ж . МА
- К . М . ЛЕК .
- С . РО . КА
- П . Ж . МНЫЕ . Р . КИ
- П . Л . ВИНКА
- ПЛ . Ч . ВОЕ
- П . Я . НОЕ И . ДЕЛ . Е

Проверь себя.



- 1. Детали пижамной сорочки - это.....
- 2. Детали пижамных брюк - это.....
- 3. Прочитать мерки:

Ст, Сб, Вс, Дб, Дтк, Шнб

- 4. Полностью записывают мерки.....
- 5. В половинном размере записывают мерки.....
- 6. В положении сидя снимают мерку.....

Задание. Показать на выкройке.

1. Детали:

- Передняя половинка
- Задняя половинка

2. Контурные срезы.



Практическая работа.



**ПОСТРОЕНИЕ ЧЕРТЕЖА
ПИЖАМНЫХ БРЮК В
МАСШТАБЕ 1:4.**

Инструменты: масштабная линейка, карандаш, ластик, альбом.



МЕРКИ

- Ст = ..
- Сб = ..
- Вс = ..
- Дб = ..
- Дтк
- Шнб

ПРИБАВКИ

Пб = 4см

Пвс = 3см

Разгрузминутка.

- **Четыре**
- **чёрных**
- **чертёнка**
- **чертили**
- **чернилами**
- **чертёж**

Улыбнись,
и всё получится!



Построение сетки.

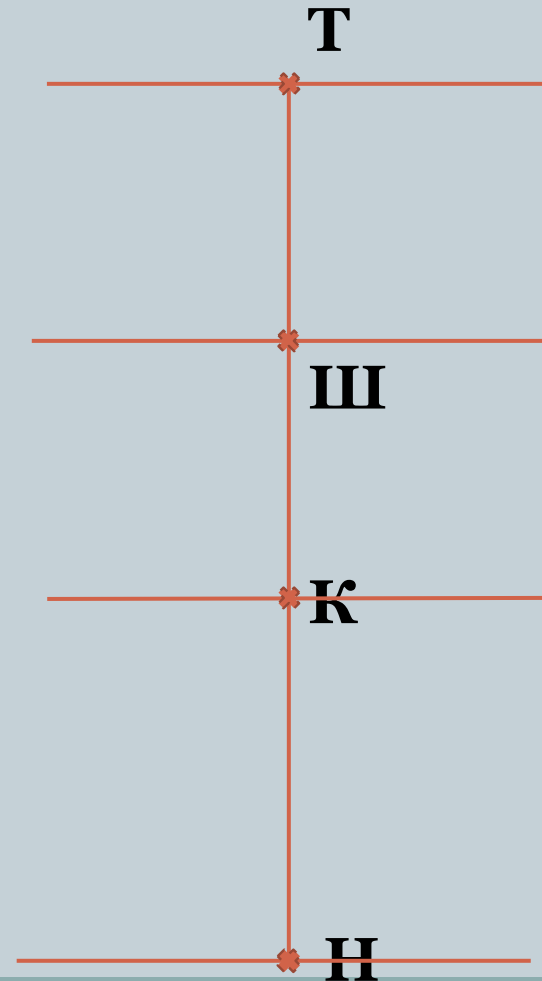
1. Точка **Т**

2. **ТН = Дб** ↓

3. **ТШ** ↓ **Вс + Пвс**
... + 3 = ...

4. **ТК** ↓ **Дтк = ...**

5. Горизонтальные линии
через точки **Т, Ш, К, Н** ←



Построение линий среднего среза и среза сидения.

6. ШШ₁ = ШШ₂ 

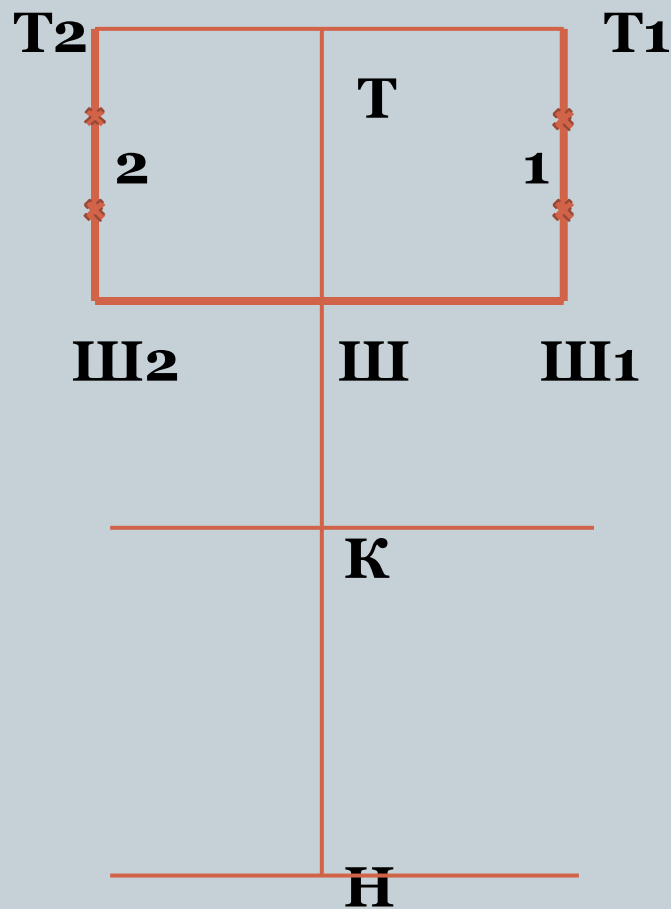
(С_б + П_б) : 2 = (...+4):2 = ...

7. Ш₁Т₁ 

Ш₂Т₂ 

8. Ш₁Т₁:3 точка 1

9. Ш₂Т₂:3 точка 2



Построение линий среднего среза и среза сидения.

10. Ш₁Ш₃ = 5см →

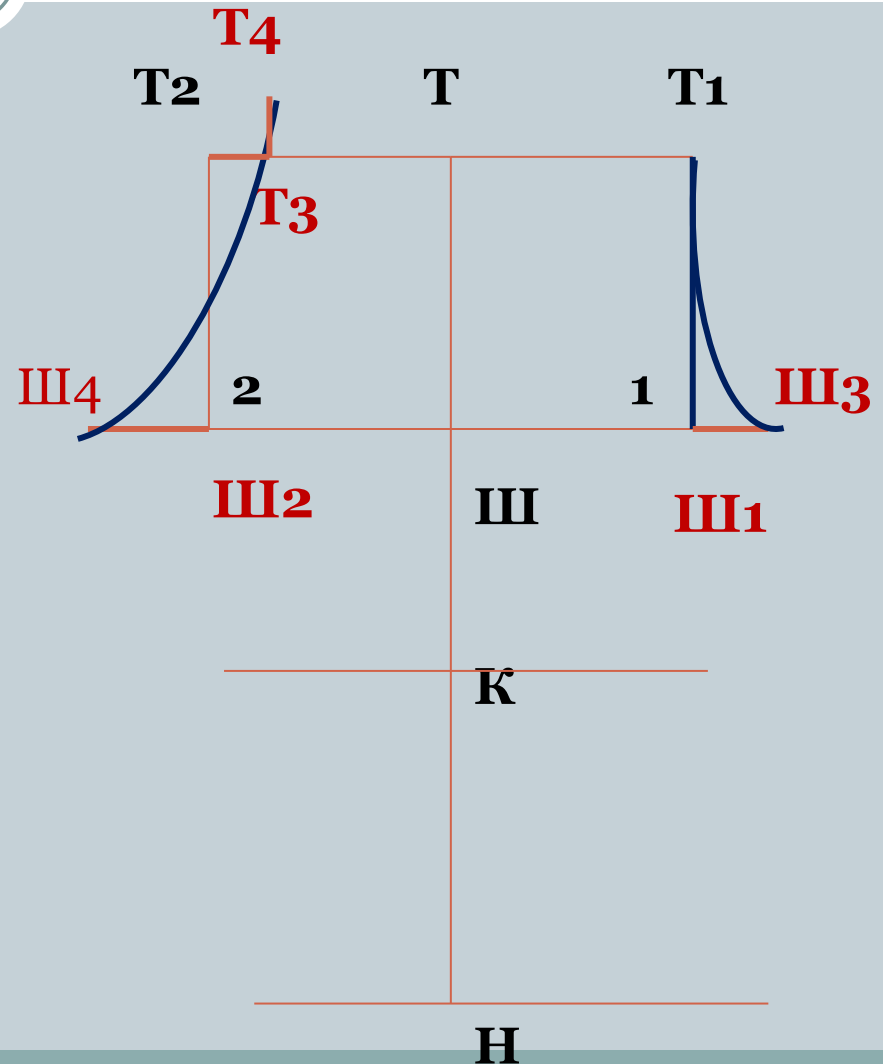
11. Ш₂Ш₄ = 10см ←

12. Т₁Т₃ – линия
среднего среза

13. Т₂Т₃ = 2см →

14. Т₃Т₄ = 3см ↑

15. Т₄Т₃ 2 Ш₄ -линия
среза сидения

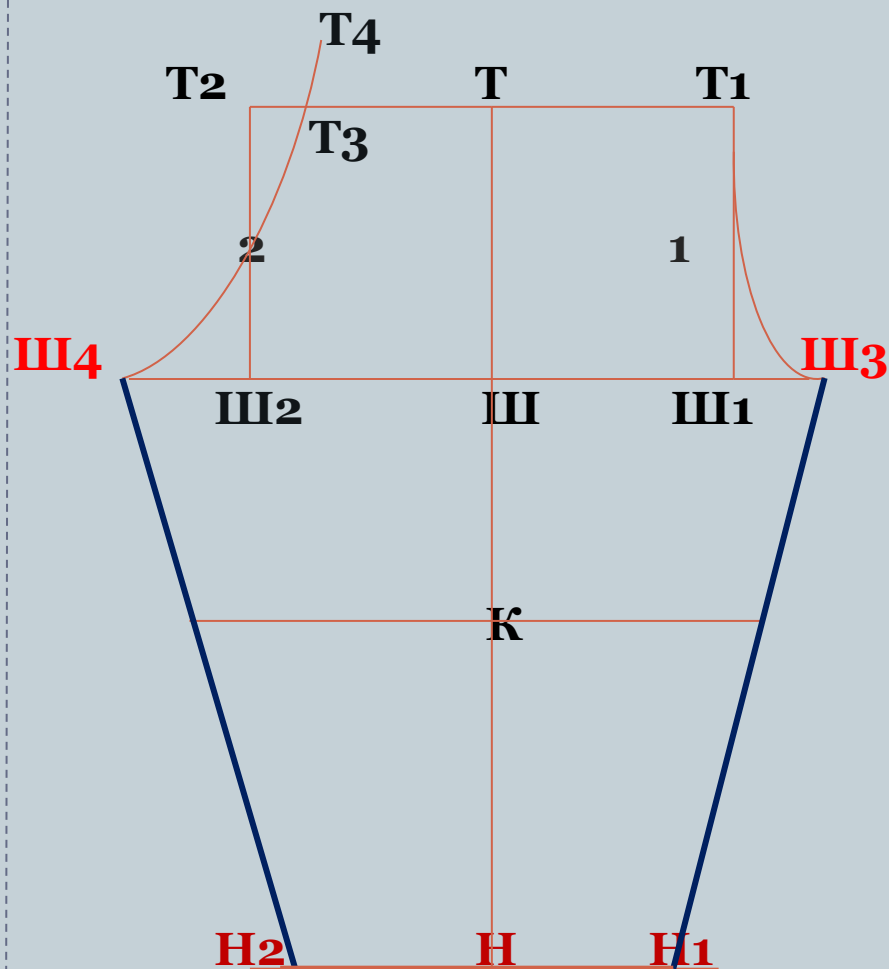


Построение линий шаговых срезов.

16. $НН_1 = ШНб = \dots$

17. $НН_2 = ШНб + 2 = ..$

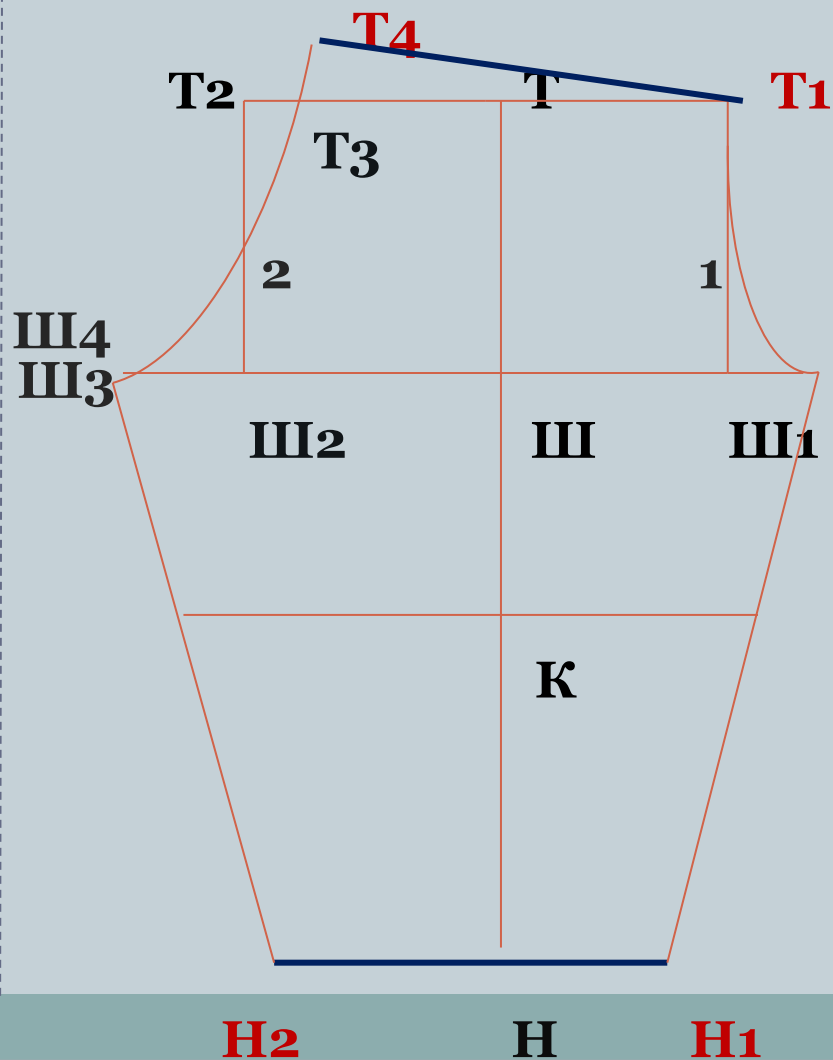
18. $Ш_3Н_1$
 $Ш_4Н_2$



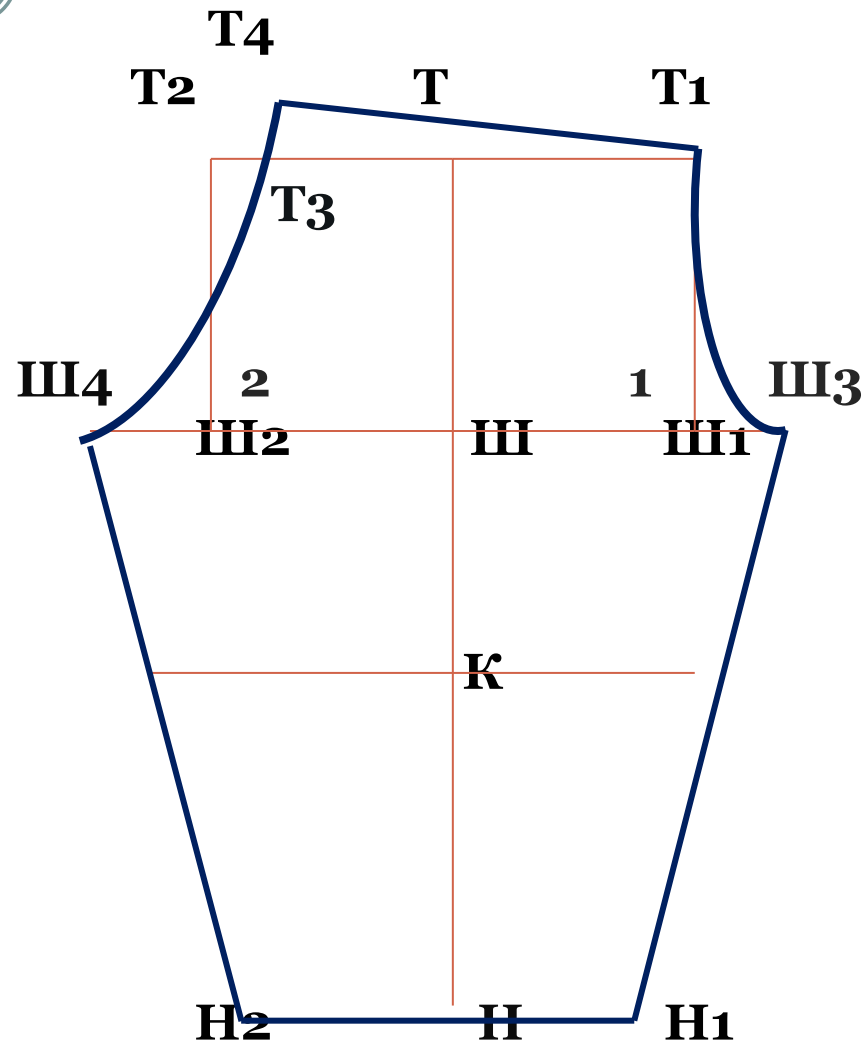
Построение линии талии и линии низа.

19. T_4T_1 – линия талии

20. H_1H_2 – линия низа



Обвести контур чертежа.



Ваше настроение после урока?

