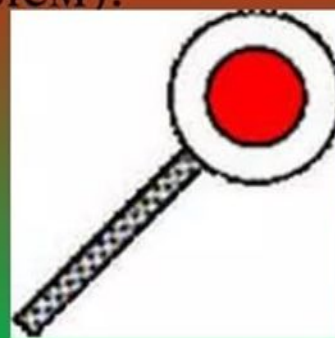


# Регулировщик.

## Основных положений у регулировщика три.

Когда регулировщик стоит на перекрестке большое значение имеет то, какой стороной он к Вам повернулся.

Для лучшей видимости сигналов регулировщик может применять жезл или диск с красным сигналом (световозвращателем).



## Вопрос №1

Какому сигналу светофора соответствует этот сигнал регулировщика?



- А.** зелёному
- В.** красному
- С.** жёлтому

## Вопрос №2

Найди, какой жест регулировщика соответствует зелёному сигналу светофора?



1

2

3

**A. №1**

**B. №2**

**C. №3**

# Вопрос №3

## Разрешено ли в этой ситуации движение велосипедисту?



- A.** Разрешено только направо.
- B.** Запрещено.
- C.** Разрешено в любом направлении.

# Вопрос №4

Разрешён ли велосипедисту поворот направо?



- A.** Да, уступив дорогу пешеходам.
- B.** Нет.
- C.** Разрешён только разворот.

# Вопрос №5

## Что означает этот жест регулировщика?



- A.** Вы должны остановиться.
- B.** Вы должны ехать быстрее.
- C.** Не стоит отвлекаться на сигналы регулировщика.

# Вопрос №6

Кому разрешено движение?




**A.** зелёному и красному автомобилям

**B.** Только зелёному

**C.** Велосипедисту и синему автомобилям

## Вопрос № 7

Определите кому движение запрещено?




- A.** Синему автомобилю
- B.** Грузовому автомобилю
- C.** Велосипедистам



# Вопрос №8

Кому разрешено движение?



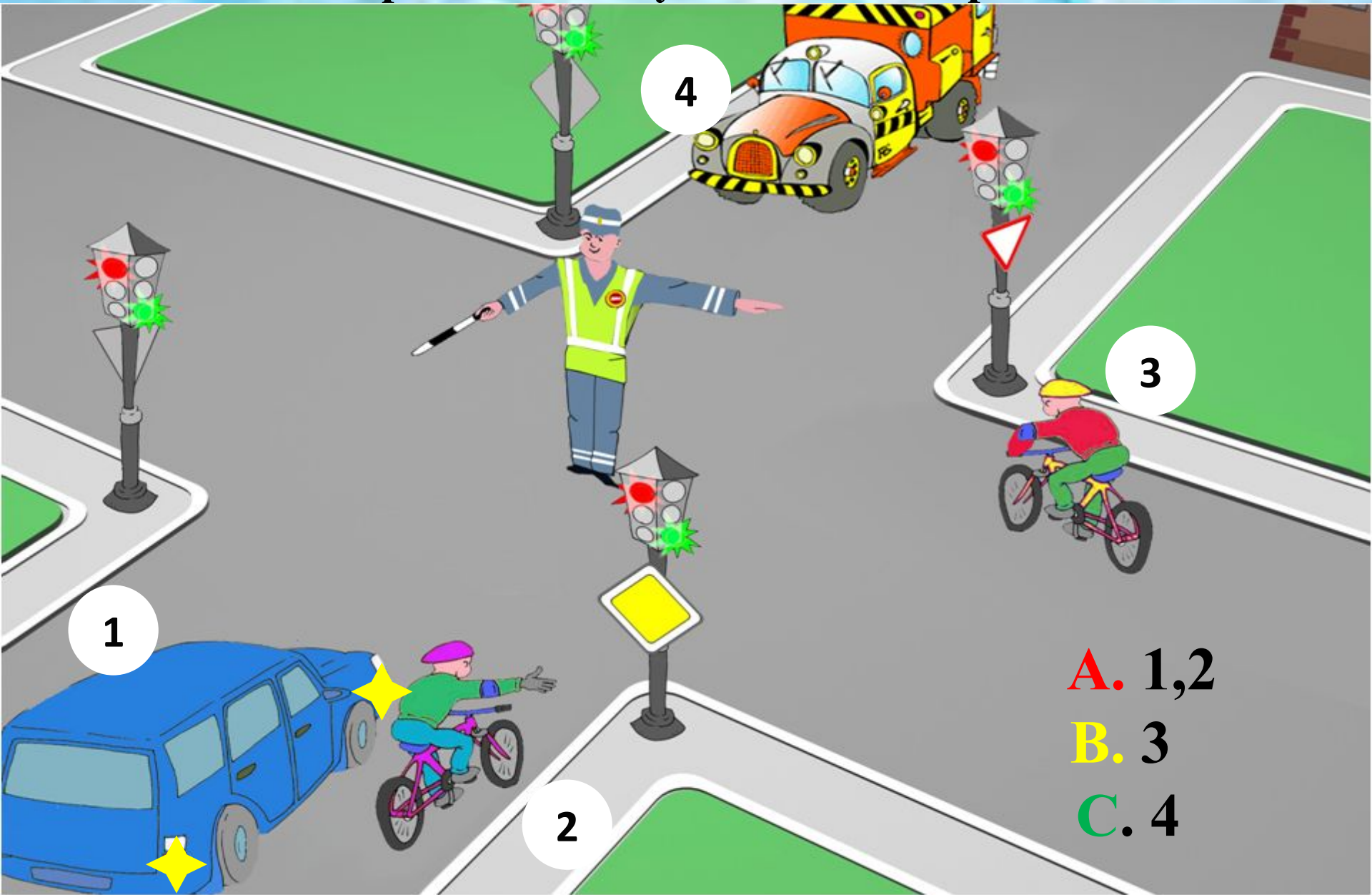
**A.** зелёному и красному автомобилям

**B.** Только зелёному

**C.** Велосипедисту и синему автомобилям

# Вопрос № 9

Определите кому движение запрещено?



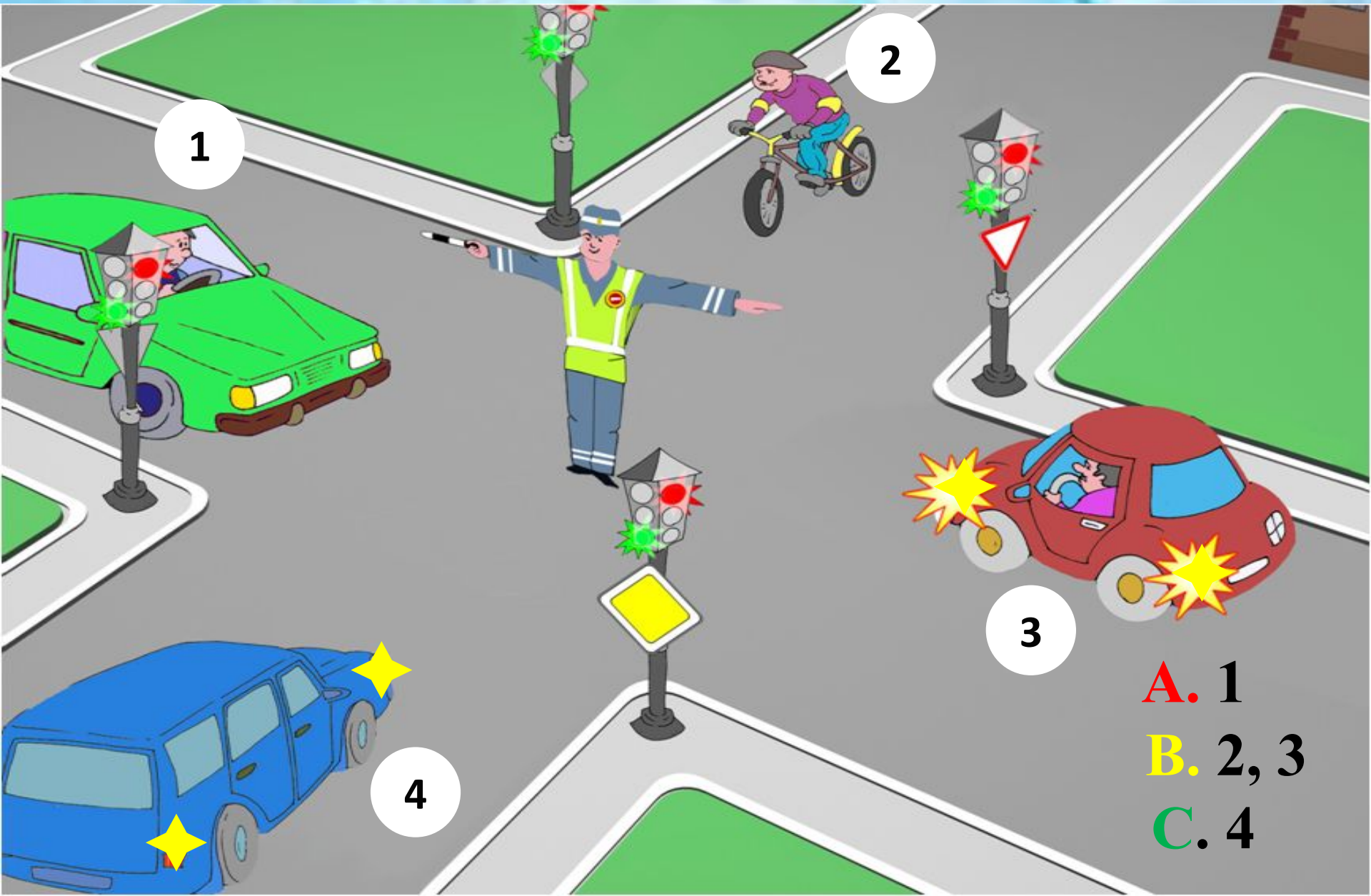
A. 1,2

B. 3

C. 4

# Вопрос № 10

Определите кому движение разрешено?



1

2

3

4

A. 1

B. 2, 3

C. 4

**Соблюдая ПДД-**



**НЕ ОКАЖЕШЬСЯ**

**В БЕДЕ!**