



06.05



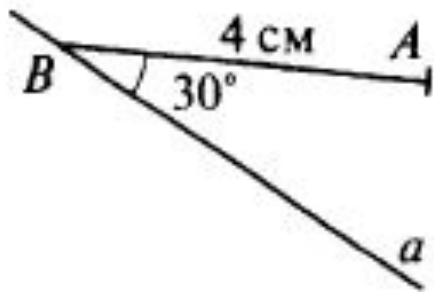
**Расстояние от точки до прямой.
Расстояние между параллельными прямыми.
Решение задач.**



Самостоятельная работа.

Решение задач.

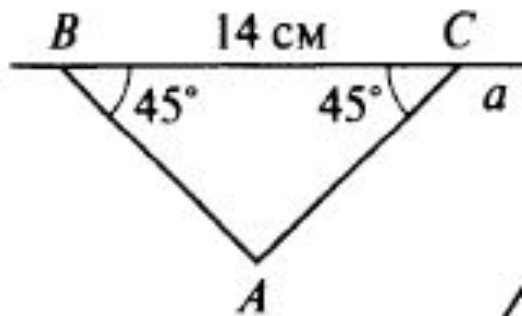
№1



Найти: расстояние от точки A до прямой a



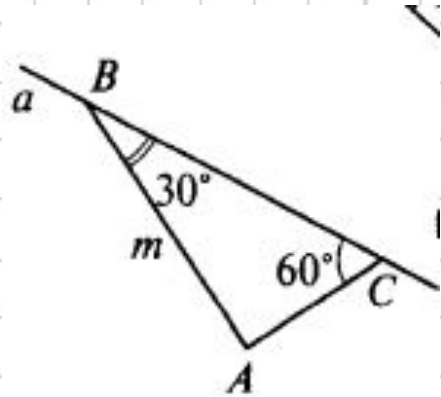
№2



Найти: расстояние от точки A до прямой a



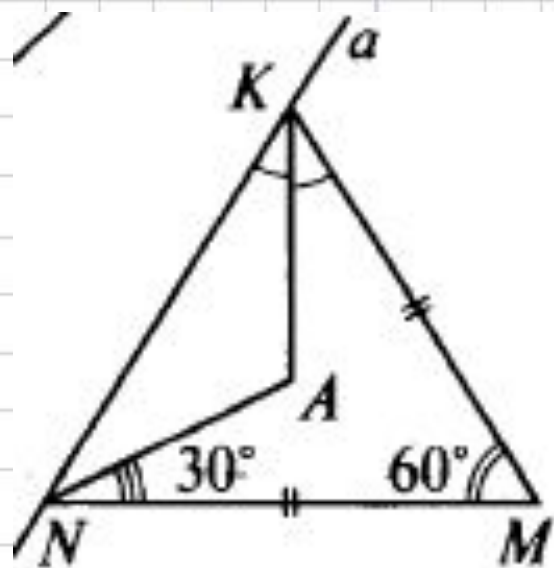
№3



Найти: расстояние от точки A до прямой a



№4



Дано: $KA = 7$ см

Найти: расстояние от точки A до прямой a



Домашнее задание
П.38 вопросы 14-19
Самостоятельная работа



Удачи в
изучении
математики

