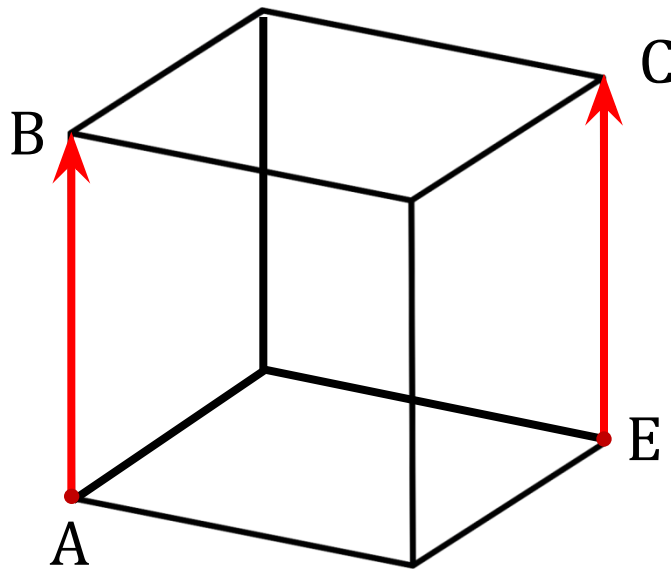


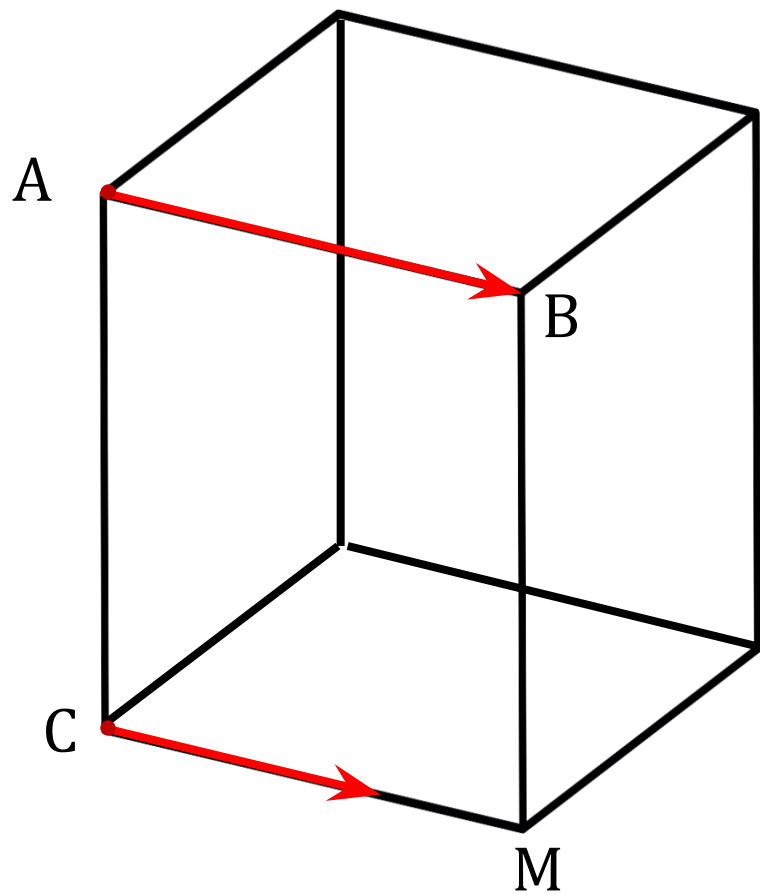


Определение

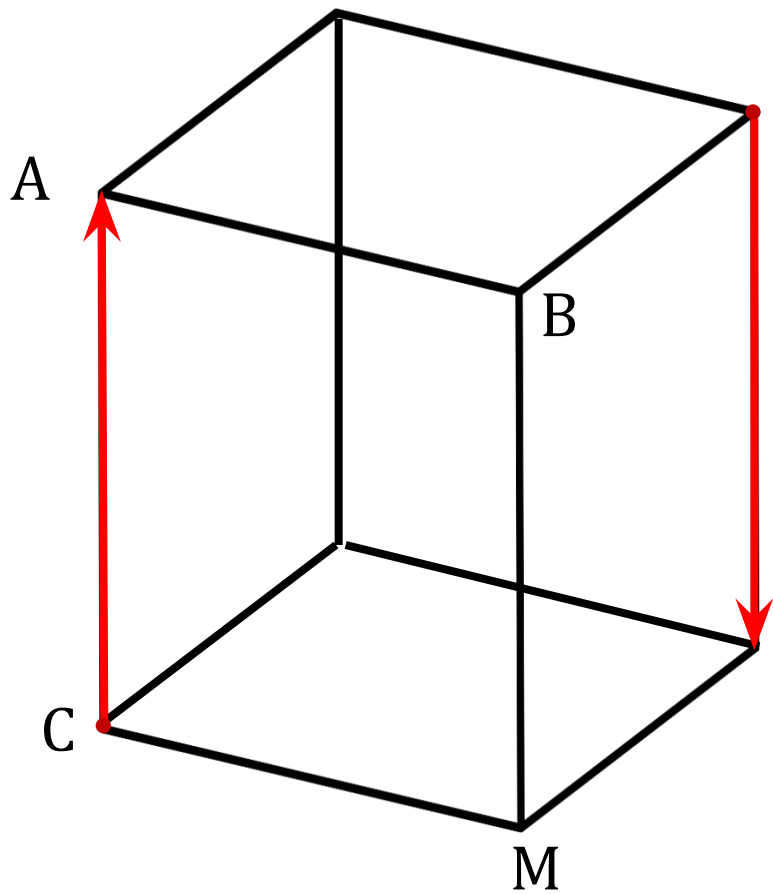
Векторы называются **равными**, если они **сонаправлены** и их **длины равны**



$$\overrightarrow{AB} = \overrightarrow{EC}$$




$$\vec{AB} = \vec{EC}$$



$$\overrightarrow{AB} = \overrightarrow{EC}$$

M



$$\vec{AB} = \vec{EC}$$



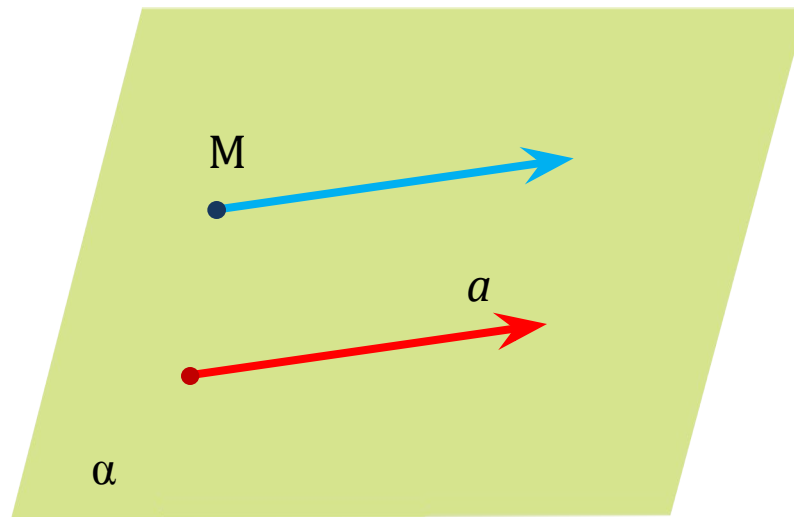
От любой точки пространства можно отложить вектор, равный данному, и притом **только один**

$$\overrightarrow{AB} = \overrightarrow{EC}$$

$$\overrightarrow{AB} = \overrightarrow{EC}$$

Доказательство:

$$\overrightarrow{AB} = \overrightarrow{EC}$$



Задача 1

Дано: ABCD — тетраэдр

$$AB = AD = DC = BC = DD = AC$$

$$M \in AB, AM = MB$$

$$N \in AD, AN = ND$$

$$P \in CD, CP = PD$$

$$Q \in BC, BQ = QC$$

Задание:

а) выписать пары равных векторов

б) определить вид четырехугольника MNPQ

Решение:

~~$\vec{AB} = \vec{EC}$~~

~~$\vec{AB} = \vec{EC}$~~

~~$\vec{AB} = \vec{EC}$~~

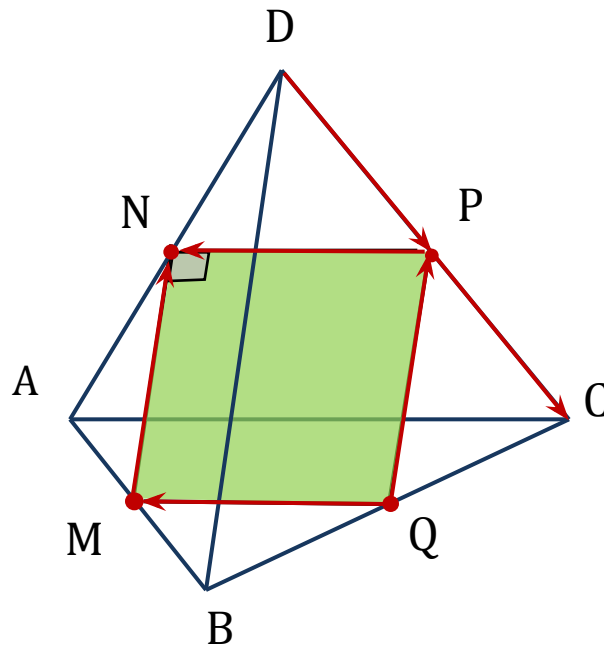
~~$\vec{AB} = \vec{EC}$~~

~~$\vec{AB} = \vec{EC}$~~

~~$\vec{AB} = \vec{EC}$~~

~~$\vec{AB} = \vec{EC}$~~

~~$\vec{AB} = \vec{EC}$~~



б) $NP \parallel AC, QM \parallel AC$

$MN \parallel DB, QP \parallel DB$

$MN = DB = PN = QM,$

$DB \perp AC \Rightarrow MN \perp NP \Rightarrow$

\Rightarrow **MNPQ** —

квадрат