

**Случаи
вычитания 11-**


стр.82

УСТНЫЙ СЧЁТ



Собери фрукты с ответом 11.

 $8+7$

 $7+3$

 $5+6$

 $12-1$

 $9+2$

 $9+5$

 $6+6$

 $7+6$

 $10-1$

 $8+3$

 $9+3$

 $7+4$



В ящике **15** кг яблок, а в корзине на **10** кг меньше.
Сколько кг яблок в корзине?

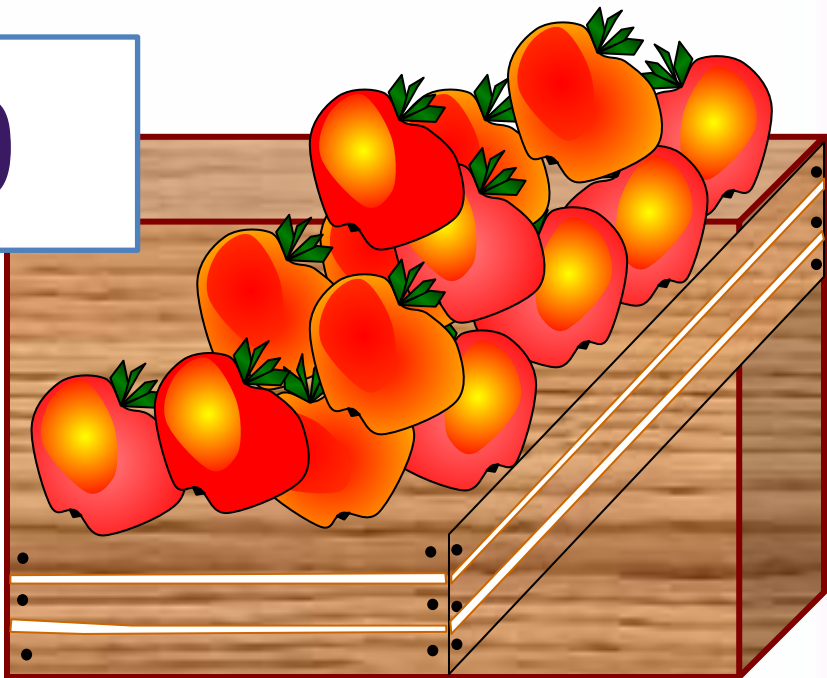

5

$$15 - 10 = 5$$


КГ Сколько всего кг яблок в ящике и корзине
вместе?



$$15 + 5 = 20$$



После того как Петя решил **6** примеров, ему осталось решить **9**. Сколько примеров нужно решить Пете ?




15

$$9 + 6 = 15$$

3 девочки нарисовали двух кошек и зайца. Что рисовала Ася, если Катя с Асей и Лена с Асей рисовали разное?



**Ася -
зайца.**



Состав числа

11

9

8

7

6

11



2

3

4

5

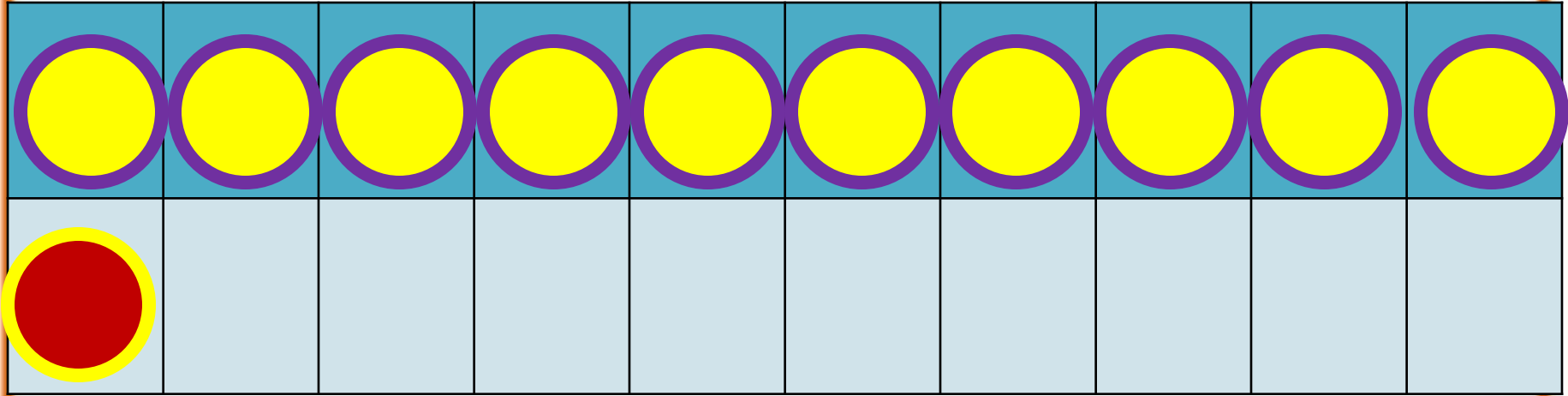
РАБОТА ПО УЧЕБНИКУ



Стр. 82

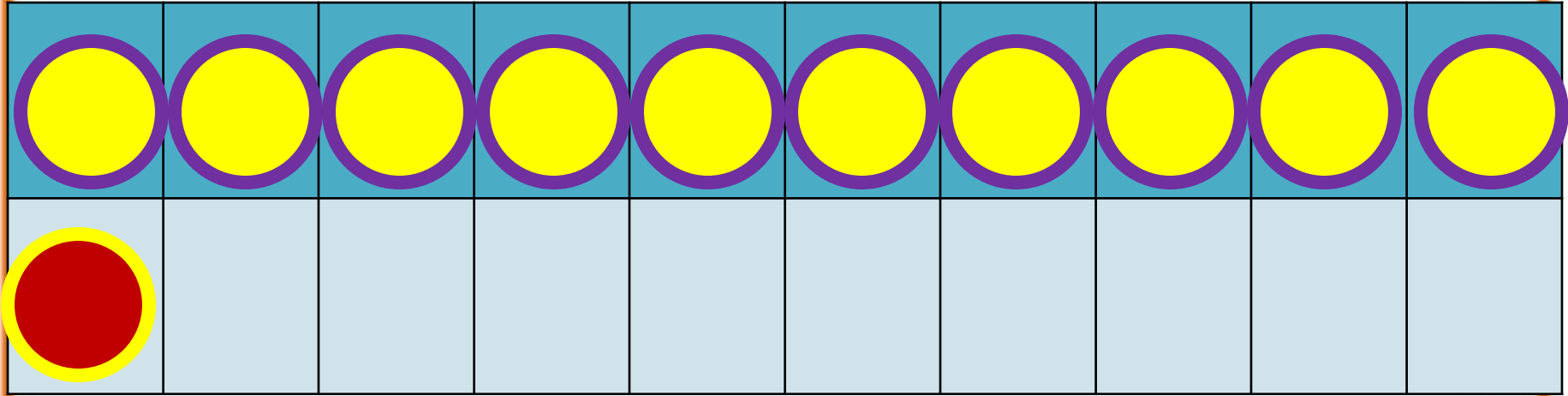
НОВЫЙ МАТЕРИАЛ





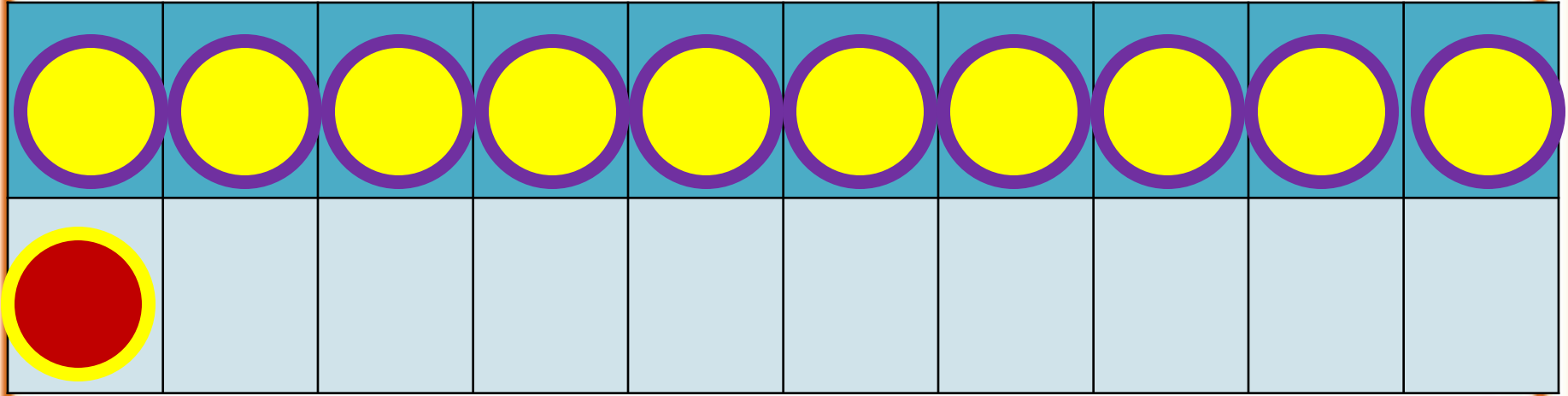
$$11 - 2$$

$$11 - 1 - 1$$



$$11 - 3$$



$$11 - 1 - 2$$



$$11 - 4$$

$$11 - 1 - 3$$

РАБОТА ПО УЧЕБНИКУ



Объясни, как из числа 11 вычесть 4.

11	
2	
3	
4	
5	



$$\begin{array}{r} 11 - 4 \\ \hline 11 - 1 - 3 \end{array}$$

Вычисли и запомни.

$11 - 2$	$11 - 3$	$11 - 4$	$11 - 5$
$11 - 9$	$11 - 8$	$11 - 7$	$11 - 6$

Запомни!

$$11 - 2 = 9$$

$$11 - 3 = 8$$

$$11 - 4 = 7$$

$$11 - 5 = 6$$

$$11 - 6 = 5$$

$$11 - 7 = 4$$

$$11 - 8 = 3$$

$$11 - 9 = 2$$

1. Объясни разные способы решения.

$$11 - 5 = 6$$



$$11 - 5 = 6$$



2. $12 - 2 + 4$

$13 - 3 - 2$

$10 + 5 - 1$

$12 - 2 + 5$

$14 - 4 - 5$

$17 - 7 + 6$

$12 - 2 + 7$

$16 - 6 - 3$

$10 - 8 + 8$

3. Сделай рисунки к задачам и реши их.

1) Петя нарисовал 6 больших квадратов и 4 маленьких. Он раскрасил 7 квадратов. Сколько квадратов осталось нераскрашенными?

2) Саша принёс 6 морковок, а Оля — 4. Они отдали кроликам 8 морковок. Сколько морковок осталось?