

# Тема Великая Отечественная

20.03 – 319

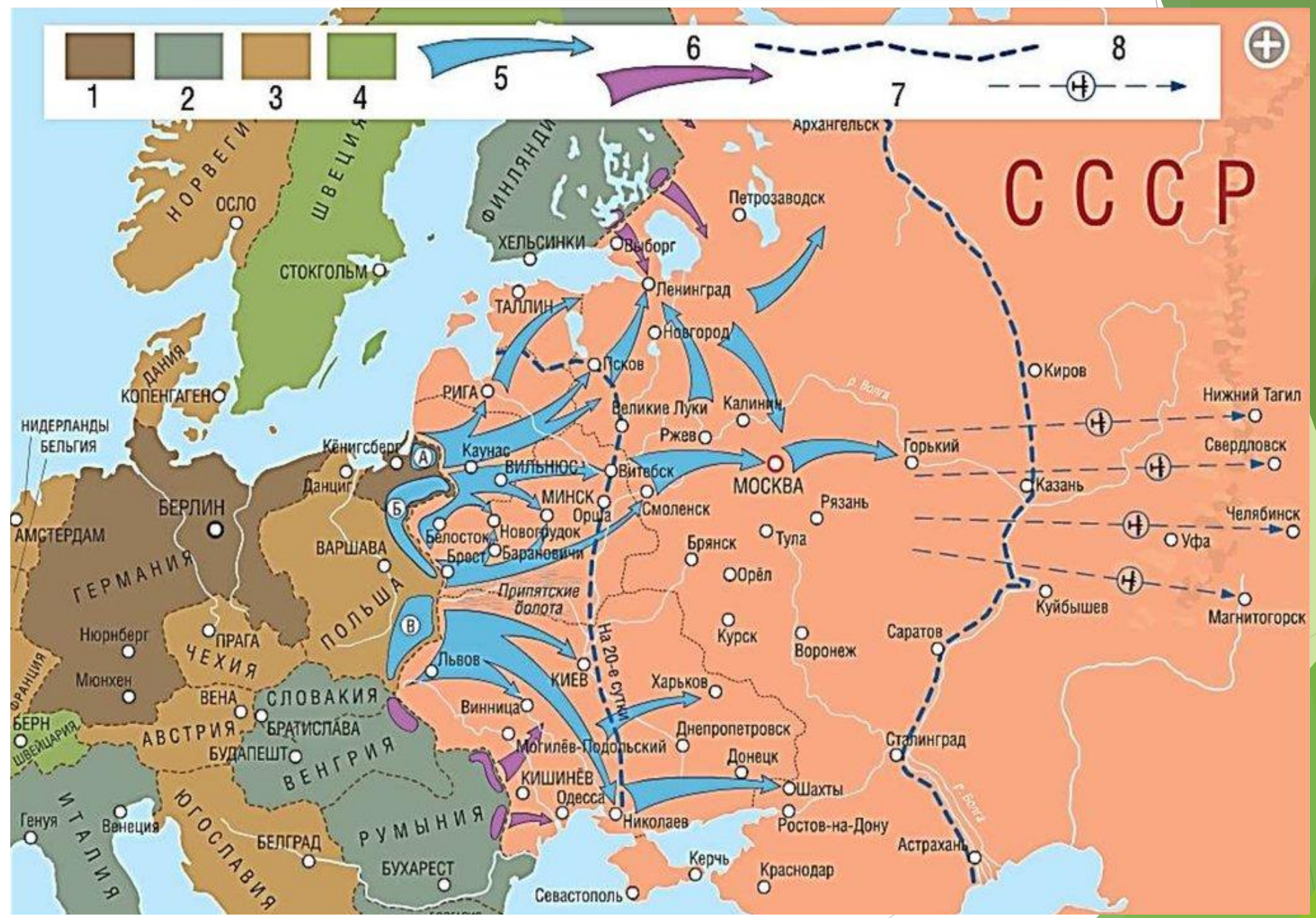
Практическая работа состоит из 4 заданий:

1. План Барбаросса
2. Начало войны – карта 1
3. Битва за Москву - карты 2 и 3
4. Коренной перелом ( Сталинград и Курск) - карты 4 и 5

Ваша задача ответить на вопросы к картам. Вопросы помеченные звёздочкой – обратитесь к инету.

Срок сдачи – 29 марта

# 1 Задание. План Барбароссы ( Блицкриг)



1. С помощью карты определите статус европейских держав к июню 1941 года:

1. Оккупированы Германией полностью или частично
2. Союзники Германии
3. Нейтральные государства

Австрия

Бельгия

Болгария

Венгрия

Дания

Италия

Нидерланды

Норвегия

Польша

Румыния

Словакия

Финляндия

Франция

Чехия

Швейцария

Швеция

Югославия

2. Определите намерения Германии по плану Барбаросса в отношении советских городов

1. Захват в первые три недели войны
2. Захват в результате дальнейшего наступления
3. Уничтожение с помощью авиации

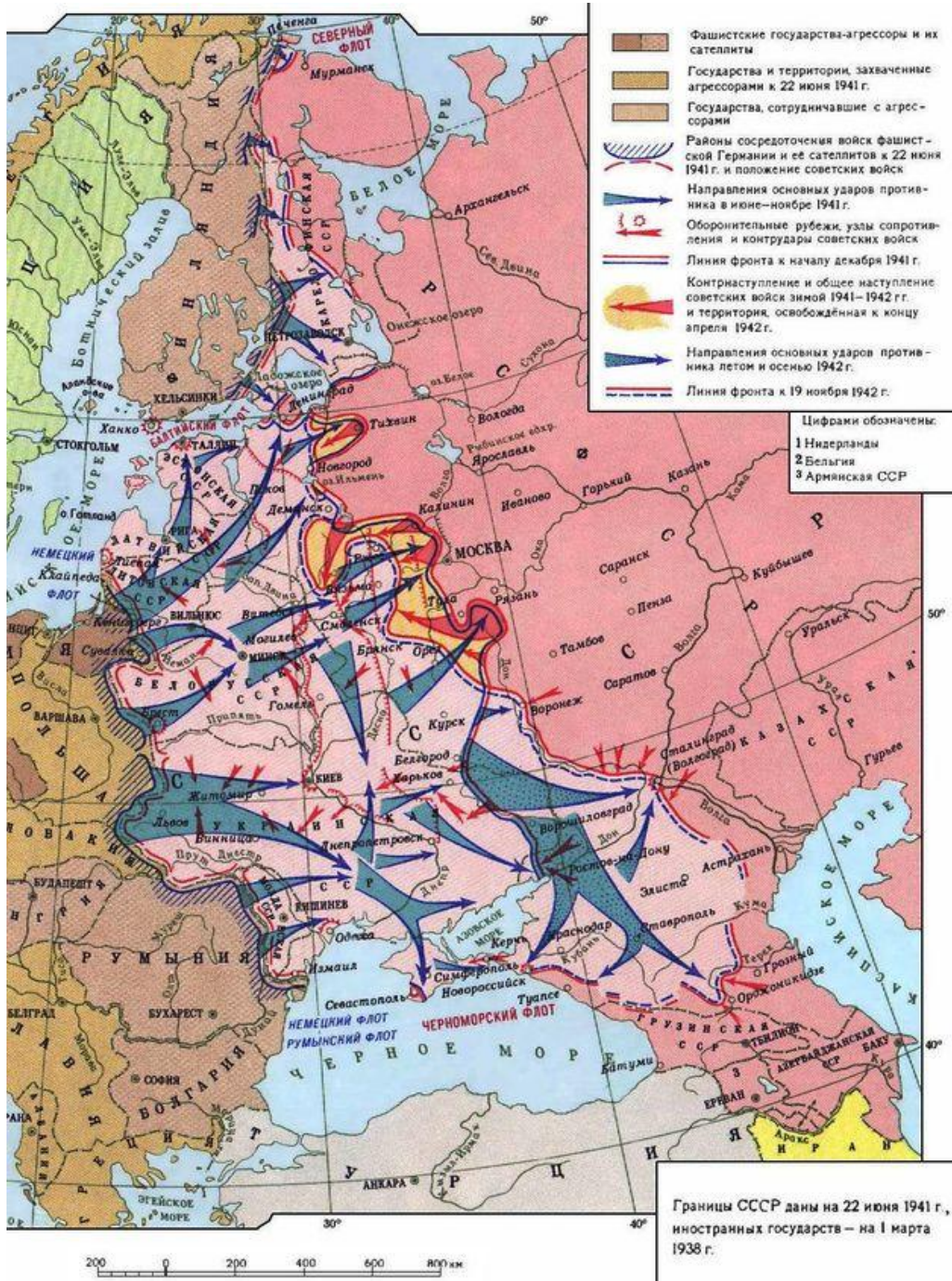
Горький	Львов
Донецк	Магнитогорск
Киев	Минск
Краснодар	Москва
Ленинград	Рига
Челябинск	Свердловск

3. Выберите территории, которые Германия собиралась оккупировать согласно плану Барбаросса:

- Белоруссия
- Западная Сибирь
- Казахстан
- Прибалтика
- Северный Кавказ
- Украина
- Урал
- Центральная Россия



## 2 Задание. Карта 1. Начало войны.

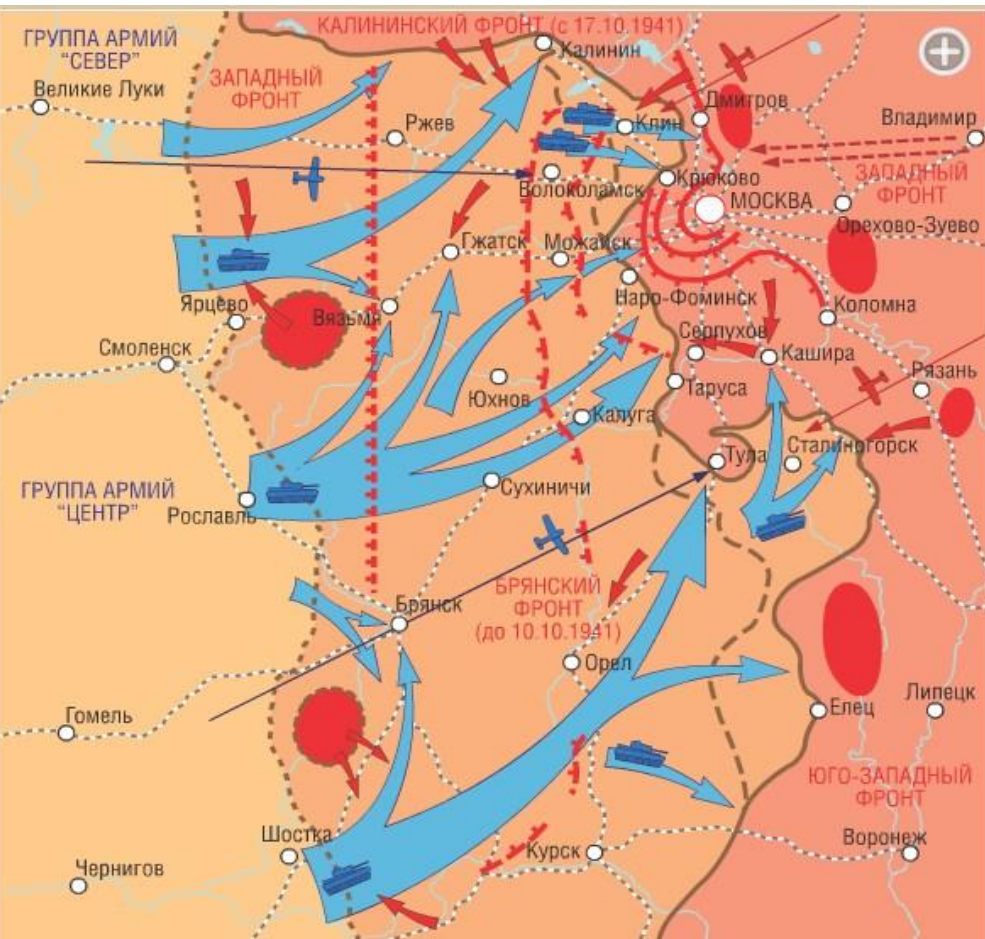


## Задания к карте 1.

1. Назовите территории, захваченные фашистами к ноябрю 1941 года, а так же важные города.
2. Назовите город, который 8 сентября 1941 был взят в кольцо, немцы перекрыли к нему все сухопутные пути.
3. Назовите город, через который проходил кратчайший путь на Москву. Здесь летом 1941 развернулось двухмесячное сражение и наступление немцев на Москву было задержано.
4. 22 июня по радио к советскому народу обратился Вячеслав Молотов. Какими словами закончилась его речь? Впоследствии эти слова стали крылатой фразой.\*
5. Когда началась война, Сталин приказал в своём кабинете повесить 2 портрета. Чьи это портреты?\*
6. У Сталина в Подмосковье было две дачи: ближняя и дальняя. На ближней он работал. А что было на дальней даче с сентября 1941 года?\*
7. В августе 1941 года Гитлер беседовал с Муссолини, рассказывая ему о своих планах покорения мира. Муссолини иронически заметил: "С такими аппетитами скоро ничего не останется покорять, кроме Луны!" Подумайте, где проходила эта беседа ( место, географическое название республики) и почему это стало возможным в августе 1941 года?\*

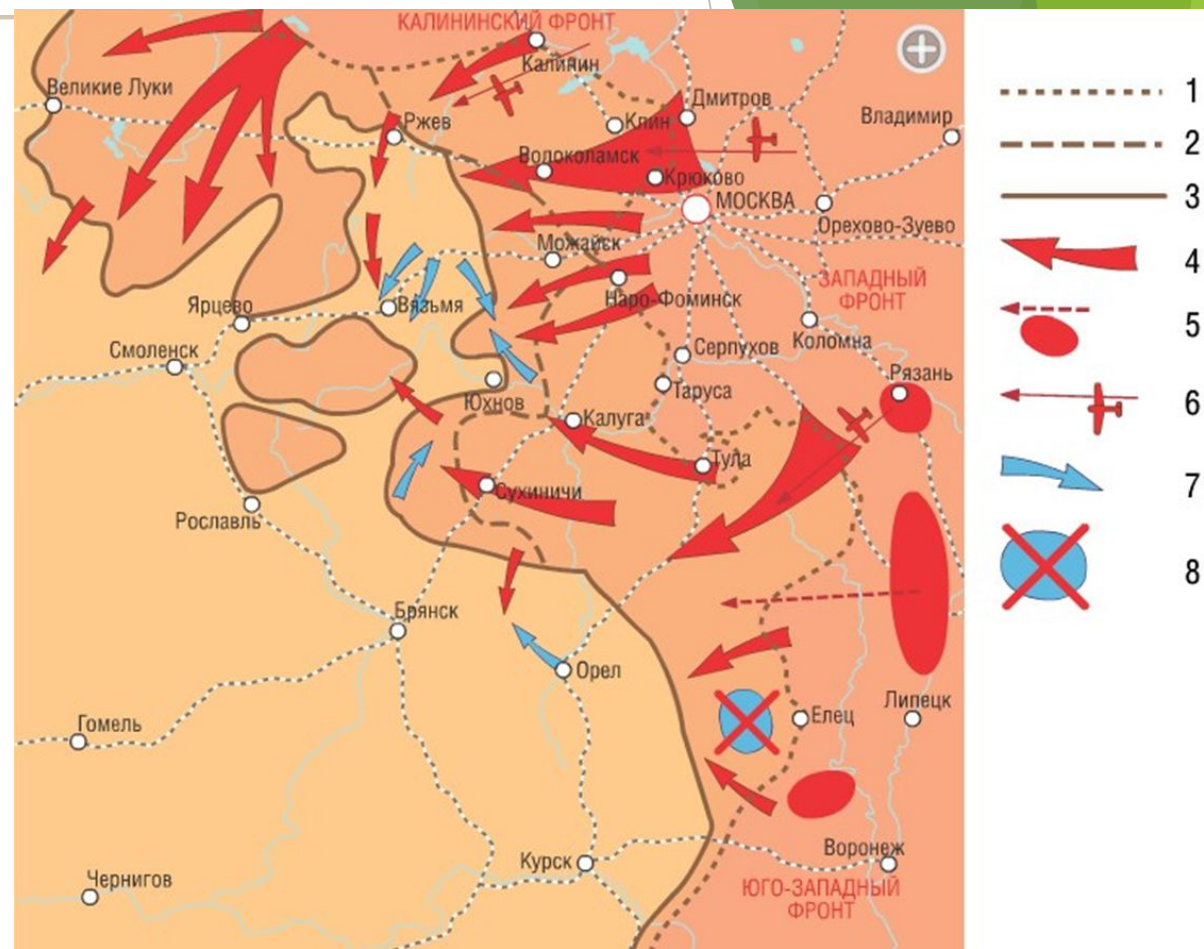


Карта 2. Наступление на Москву.  
Оборонительный этап



3 задание

Карта 3. Контрнаступление советских войск.



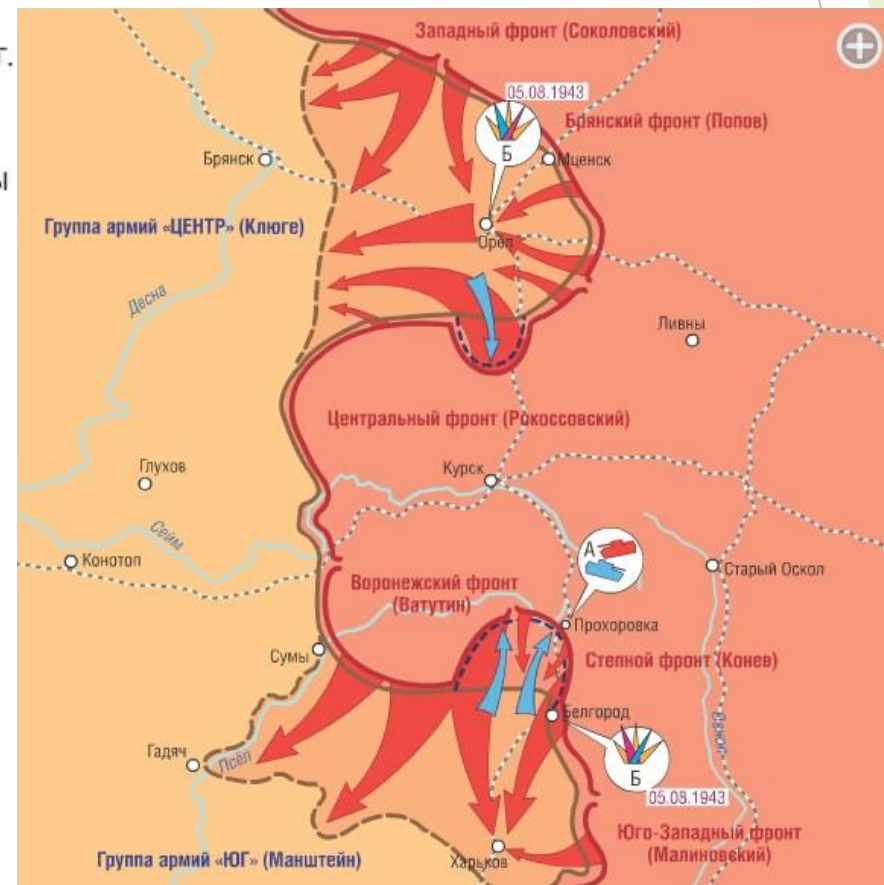
### 3. Задание к карте 2 и 3

1. **30 сентября** немецкие войска начинают наступление на Москву. Как называется эта немецкая операция?\* И что означало для Советского союза взятие столицы?
2. Какая немецкая танковая группировка развёртывалась на данном участке?
3. Назовите города, в районе которых советские войска попадают в окружение.
4. Армии каких фронтов к концу ноября остановили немецкое наступление.
5. **5-6 декабря** начинается второй этап Битвы на Москву. Дайте краткую характеристику этапу, используя карту 3.
6. Как вы думаете, почему топливо для танков Гудериана пришлось сбрасывать на парашютах?\*
7. Определите значение Битвы за Москву для дальнейшего хода войны (вспомните про сроки плана Барбаросса)
8. 3 июля 1941 года в обстановке строжайшей секретности с одного из московских вокзалов вышел поезд специального назначения. Поезд направлялся в город Тюмень. Кто ехал в этом поезде?\*
9. С 24 октября по 13 ноября наступила оперативная пауза в наступлении немцев. 7 ноября в Москве прошёл военный парад. Командовал парадом генерал Артемьев, а кто принимал парад?\*(запечатлён на фото)





## 4 Задание. Карта 4 и 5. Сталинград. Курская дуга.



## Вопросы к карте 4

1. Город Сталинград для Гитлера стал важной целью летом 1942 года. Помимо того, что город носил имя Сталина, фашисты рвались на Кавказ. В Кабарде (район Северного Кавказа) – молибден, в Осетии – цинк, а что в Грозном?
2. Летом 1942 года шли оборонительные бои за Сталинград. Назовите место, где бои приняли особо ожесточённый характер\*.
3. **19 ноября** начинается контрнаступление советских войск. Как называется эта военная операция?\*
4. Силами каких фронтов осуществлялось контрнаступление советских войск? Назовите фамилию командующего 6 – ой армии вермахта ( в документах НКВД имел псевдоним Сатрап), чья армия попала в кольцо в районе города Калач-на-Дону.
5. По приказу Гитлера создана новая группа армий “Дон”. Кто её возглавил и для чего она была создана?
6. Когда и как закончилась Сталинградская битва? Каково главное значение Сталинградской битвы?

### ДОПОЛНИТЕЛЬНО

7. 31 января 1942 года в штабе 64 армии донского фронта принимали одного маршала, который произнёс 2 тоста: о непобедимости Красной армии и непобедимости русского народа. Как звали командарма?
8. Узнав о сдаче Паулюса под Сталинградом, Гитлер воскликнул: Настоящий мужчина должен застрелиться! Это же само собой разумеется! И добавил: “Лично меня больше всего огорчает..... “ Что больше всего огорчает фюрера?

## Вопросы к карте 5.

1. В начале апреля 1943 внимание было сосредоточено на так называемом Курском выступе, который образовался в ходе мартовских боёв на юго-западном стратегическом направлении. **15 апреля 1943** Гитлер подписал план операции под названием “Цитадель”. Согласно плану создавалось 2 ударные группировки общей численностью 900 тысяч человек. Назовите их.
2. Назовите главную цель немецкой операции “Цитадель”.
3. Согласно плану стратегической обороны к июню 1943 года в районе Курского выступа были сосредоточены войска трёх советских фронтов. Назовите их.
4. Назовите центральное сражение Курской битвы с **12 по 16 июля 1943** и его итог.
5. 16 июля начинаются наступательные операции на орловском направлении “Кутузов”, на харьковско-белгородском “Румянцев”. В честь освобождения в городах впервые сделали это. Что?