

Задание №: 1

Великий ученый Исаак Ньютон открыл закон всемирного тяготения в XVII веке. Согласно преданию, ученый испытал озарение, когда он отдыхал под деревом, и ему на голову упало яблоко.

Покажите, как в этом примере проявляется действие исторических категорий: закономерности, необходимости, случайности.

Установите соответствие путём перетаскивания маркеров элементов правого списка к маркерам левого списка:

А: 3

падение яблока

1

историческая закономерность

Б: 1

открытие закона всемирного тяготения

2

историческая необходимость

В: 2

открытие закона Ньютоном


3

историческая случайность

Ваш ответ:

А	Б	В
3	1	2

 Очистить

 Далее

Таймер обратного отсчёта

2 59

Следующее →

1

2

3

4

5

6

7

8

9

10

11

12

13

14

15

16

17

18

19

20

21

22

23

24

25

Задание №: 2

В.О.Ключевский писал о происхождении древнерусского государства и влиянии на него норманнского фактора:

«Я не против вопроса о происхождении имени Русь и первых русских князей, а только против того положения, что в этом вопросе ключ к разъяснению начала русской национальной и государственной жизни».

Выберите один аргумент, расширяющий аргументацию автора

Выберите один правильный ответ:

- "Призвание варягов – единичное событие. Создание государства – длительный и сложный процесс. Невозможно процесс приравнивать к событию, каким бы важным оно не было."
[➤ Далее](#)
- "Призванные варяги не имели отношение к созданию государства, они были «находниками», пришельцами, а об их культурном уровне и говорить нечего." (Б.А.Рыбаков)
- "Никаких пришельцев-основателей государства не было вообще. Сведения о них носят легендарный характер."
- "Призванный на Русь Рюрик не был варягом (норманном), а имел восточнославянское происхождение." (М.В.Ломоносов)

Таймер обратного отсчёта

2 59

← Предыдущее

Следующее →

1

2

3

4

5

6

7

8

9

10

11

12

13

14

15

16

17

18

19

20

21

22

23

24

25

Оценка результатов и компетенций

Томская Алина Сергеевна ▾

[Главная](#) / [Тестирование](#) / [Выполнение заданий](#)

Задание №: 3

Н.М.Карамзин утверждал: «Москва своим самодержавием обязана ханам».

Подходящий аргумент, усиливающий точку зрения автора

Выберите один правильный ответ:

- Ордынские ханы поддержали Москву в борьбе против Твери, благодаря чему ярлык на Великое княжение закрепился именно за Москвой.
- Чтобы усилиться и победить Орду, Московское княжество должно было объединить русские княжества под эгидой сильной самодержавной власти.
- Иван Калита сделал основой своей политики близкие отношения с Ордой, с помощью которой устранил своих соперников.
- Для того, чтобы встать во главе русских княжеств, московские князья должны были усвоить методы управления, принятые в Орде.

Таймер обратного отсчета

2 59

Задание №: 4

«Ее королевское величество Свейское уступает ... его царскому величеству и наследникам Российского государства в вечное владение от короны свейской завоеванные провинции: Лифляндию, Эстляндию, Ингерманландию и часть Карелии.... Его же царское величество обещает короне Свейской возвратить ... Великое княжество Финляндское... Сверх того его царское величество обещает ее королевскому величеству и королевству Свейскому сумму двух миллионов ефимков ... заплатить».

Приведенный выше фрагмент международного договора означает:

Выберите один правильный ответ:

- заключение перемирия со Швецией из-за угрозы Русско-Турецкой войны
- установление российской гегемонии в Восточной Европе
- прекращение состояния войны между Россией и Швецией, длившегося с 1700 г., закрепление за Россией бывших шведских владений в восточной Прибалтике
- восстановление суверенитета России над территориями в Прибалтике, утраченными в результате Смутного времени

[▶ Далее](#)

Таймер обратного отсчета

2 58

[← Предыдущее](#)

[Следующее →](#)

- 1
- 2
- 3
- 4
- 5
- 6
- 7
- 8
- 9
- 10
- 11
- 12
- 13
- 14
- 15
- 16
- 17
- 18
- 19
- 20
- 21
- 22
- 23
- 24
- 25

Оценка результатов и компетенций

Томская Алина Сергеевна ▾

Главная / Тестирование / Выполнение заданий

Задание №: 5

Рассчитайте сумму выкупного платежа за земельный надел в Московской губернии, если известно, что до отмены крепостного права сумма крестьянского оброка в данной губернии составляла 10 руб. при том, что эти 10 руб. должны составить 6% от суммы выкупного платежа.

Ответ запишите в рублях, округлив до 2х знаков после запятой

Впишите свой вариант ответа:

Очистить



$$\begin{matrix} X - 100\% \\ 10 - 6\% \end{matrix} \Rightarrow \frac{100 \cdot 10}{6} = 166.666...67$$

Задание №: 6

Выступая в Государственном совете 28 января 1861 г., Александр II отмечал:

«Дело об освобождении крестьян, которое поступило на рассмотрение Государственного совета, по важности своей я считаю жизненным для России вопросом, от которого будет зависеть развитие ее силы и могущества. Я уверен, что вы все, господа, столько же убеждены, как и я, в пользе и необходимости этой меры. У меня есть и другое убеждение, а именно, что откладывать этого дела нельзя... Всякое дальнейшее промедление может быть пагубно для государства».

Выберите аргумент, подтверждающий данную позицию

Выберите один правильный ответ:

- Во второй четверти XIX в. феодализм в России вступил в полосу кризиса. Проявлением его явилось поражение России в Крымской войне, которое показало, что крепостное право – главная причина военно-технической отсталости страны.
[➤ Далее](#)
- «При всех издержках крепостничества именно оно было главной скрепой, удерживающей внутреннее единство нации».
- Крепостничество являлось органичной и необходимой составляющей российской действительности, результатом слабого развития индивидуализма.
- «Нет сомнения, что крепостное право в нынешнем его положении у нас есть зло, для всех ощутительное и очевидное, но прикасаться к нему теперь было бы делом, еще более губительным».



← Предыдущее

Следующее →

1 2 3 4 5 6 7 8 9 10 11 12 13 14 15 16 17 18 19 20 21 22 23 24 25

🏠 Главная / Тестирование / Выполнение заданий

Задание №: 7

Характеризуя революцию 1905-1907 года, В.И. Ленин писал, что она «...пробудила от сна самую крупную и самую отсталую страну Европы и создала революционный народ, руководимый пролетариатом».

Аргументы, ДОСТАТОЧНЫЕ для подтверждения данной точки зрения

Выберите несколько правильных ответов:

- На рубеже XIX–XX вв. активизировалась деятельность либеральной интеллигенции, оппозиционной самодержавию.
- Рабочий класс был немногочисленным, но политически активным, именно стачечное движение «втянуло» в революцию широкие народные массы.
- Крестьянский вопрос был одной из наиболее насущных проблем конца XIX-начала XX века, проблема крестьянского малоземелья могла решиться только массовым участием крестьян в революции.
- На кардинальных переменах в социальном и политическом устройстве, установлении республики и свержении самодержавия настаивали, в основном, социалистические партии, социальной базой которых был пролетариат.

Оценка результатов и компетенций

Томская Алина Сергеевна ▾

🏠 Главная / Тестирование / Выполнение заданий

Задание №: 8

Понятие «Продовольственная диктатура» относится к «Военному коммунизму» как

Выберите несколько правильных ответов:

- «Создание кооперативов» к «Перестройке»
- «Пятилетние планы» к «Командно-административной экономике»
- «Индустриализация» к «Коллективизации»
- «Индивидуальная трудовая деятельность» к «Реформе Косыгина»

Таймер обратного отсчёта

2 : 59

Задание №: 9

Выводы, которые сделаны на основании данных таблицы

Соотношение сил сторон к началу ВОВ	СССР	Германия и ее союзники
Люди (млн.)	3	4.4
Орудия и минометы (тыс. шт.)	39,4	39
Танки и штурмовые орудия (тыс. шт.)	11	4
Боевые самолеты, тыс. шт.	9.1	4,4

Таймер обратного отсчёта

2 59

Выберите несколько правильных ответов:

- Без сил союзников Германии не удалось достичь бы стратегического перевеса над СССР по всем показателям.
- Орудий и минометов и у СССР, и у Германии явно не хватало для обеспечения нужд армии.
- СССР в 2,75 раза превосходил Германию в количестве танков и штурмовых орудий.
- Численность армии СССР составляла всего около 68% от армии Германии и ее союзников.

Задание №: 10

На основе прочитанного текста сделайте выводы о том, какие противоречия возникли в описываемой ситуации и как они разрушали устоявшуюся советскую идеологическую систему.

«Молодые люди с прическами “под Тарзана”, одетые как попугаи, так называемые стиляги, разгуливают по центральным улицам Москвы и других крупных городов». Это возмущенное заявление Первого секретаря ЦК ВЛКСМ <сделанное в 1954 году> привлекло внимание к росту среди советской молодежи популярности элементов западной массовой культуры. Именно во время «оттепели» Коммунистическая партия запустила общественную кампанию против этого явления, казавшегося ей вторжением «буржуазной» молодежной культуры, одним из проявлений «холодной войны».

(с) Г. Цикульский, PhD истории, отрывок из научной статьи

Выберите один правильный ответ:

- В послевоенные годы часть населения стремилась к либерализации и демократизации культуры, что отразилось на росте прозападных настроений молодежи, чуждых советской идеологии.
[➤ Далее](#)
- Поездки Хрущева в Америку привели к росту интереса молодежи к западной культуре. Впоследствии это дестабилизировало советскую систему.
- Косвенным образом борьба со стилягами была направлена против Хрущева, так как консерваторы в руководстве КПСС были недовольны процессами демократизации страны.
- Кампания против «стиляг» противоречила истинным целям холодной войны, мешала советскому союзу бороться с настоящими «угрозами» режиму.



← Предыдущее

Следующее →

Задание №: 11

Соотнесите политические и социально-экономические события и процессы с их причинами или следствиями

Установите соответствие путём перетаскивания маркеров элементов правого списка к маркерам левого списка:

ПРИЧИНЫ

- А:3** образование НАТО и эскалация холодной войны
- Б:2** индустриализация и коллективизация в СССР
- В:4** высокий уровень концентрации производства и капиталов в Российской империи начала XX века
- Г:1** улучшение имиджа России как полноправного участника международной торговли

СЛЕДСТВИЯ

- 1** вступление России в ВТО
- 2** необходимость создания мощного военного промышленного комплекса
- 3** рост влияния СССР и установление социалистических режимов в Восточной Европе
- 4** отсутствие законодательных и административных норм, регулирующих создание монополистических объединений

Таймер обратного отсчёта

2 59

Ваш ответ:

А	Б	В	Г
3	2	4	1

Очистить ➔ Далее

← Предыдущее

Следующее →

Задание №: 12

В результате несчастного случая на производстве человек утратил зрение. Остальные органы чувств функционируют. Двигательная активность сохранилась.

Дополнительные признаки, при наличии которых человек останется дееспособным:

Выберите несколько правильных ответов:



- Человек не утратил способности изъявлять свою волю любым возможным для него способом
- Определен и назначен судом законный представитель, который может выполнять юридически значимые действия за человека
- Человеку доступна возможность через помощника или с помощью технических средств знакомиться с содержанием юридически значимых документов
- Человек не утратил способности говорить
- Человек не утратил способности писать
- Человек правильно осознает происходящее вокруг и содержание своих действий

← Предыдущее

Следующее →

Задание №: 13

"Михаил Андреевич, владелец однокомнатной квартиры, и Самуил Яковлевич заключили договор найма жилого помещения, и по инициативе наймодателя в него было включено следующее условие: «В случае возникновения спорных ситуаций стороны обязуются не обращаться за их разрешением в суд, а разрешать их исключительно путем переговоров».

Выберите верные утверждения

Выберите несколько правильных ответов:

- Любой из участников может обратиться в суд и оспорить упомянутое условие.
- Упомянутое условие лишает стороны возможности обращаться в суд.
- Упомянутое условие позволяет обратиться в суд, но не позволяет использовать договор в качестве доказательства в суде.
- По тем положениям, которые не связаны с упомянутым условием, можно обратиться за защитой в суд.
- Упомянутое условие ничтожно и не влияет на остальное содержание договора.



← Предыдущее

Следующее →

Задание №: 14

Установите соответствие жизненных ситуаций и правовых институтов (правоохранительные органы), в которые можно обратиться за их разрешением

Установите соответствие путём перетаскивания маркеров элементов правого списка к маркерам левого списка:

А: 2

Депутаты Государственной думы обнаружили противоречие между Конституцией и федеральным законом

Б: 6

Завершено расследование и выявлены доказательства совершения преступления средней тяжести. Требуется определить вину подозреваемого и назначить наказание

В: 5

Супруги хотят расторгнуть брак, они не определились, с кем останется их ребенок, не достигший возраста 10 лет

Г: 1

Человек хочет доказать свое право собственности на землю, и ему нужна квалифицированная юридическая помощь

Д: 3

Адвокат хочет обжаловать приговор, вынесенный судом по уголовному делу за преступление средней тяжести

Е: 4

Пожилой человек составил завещание и хочет его удостоверить

1

АДВОКАТ

2

КОНСТИТУЦИОННЫЙ СУД

3

СУД СУБЪЕКТА ФЕДЕРАЦИИ

4

НОТАРИУС

5

МИРОВОЙ СУД

6

РАЙОННЫЙ СУД



Задание №: 15

Отрывок из мультфильма описывает отношения собственности.

"...

Пёс Шарик про теленка: – А вот интересно: чей он?

Кот Матроскин: – Как чей? Он – наш!

Шарик: – А вот и не наш! Корова чья? Государственная! Мы ведь её напрокат брали. Значит, и теленок – государственный!

Кот: – Шарик, помолчи, пожалуйста. Корова государственная, а всё, что она дает: молоко или телят – это уже наше. Вот ты, дядя Фёдор, посуди: вот если холодильник напрокат берем. Он чей?

Дядя Фёдор: – Государственный!

Кот: – Правильно, дядя Фёдор. А мороз, который он вырабатывает чей?

Дядя Фёдор: – Мороз наш. Мы его для мороза и берем.

"..."

Какие юридически значимые действия, были совершены, в описанной ситуации, при условии, что закон нигде не был нарушен?

Выберите несколько правильных ответов:

- Передача коровы во владение
- Заключение договора купли-продажи
- Заключение договора аренды
- Передача коровы в распоряжение
- Передача коровы в пользование

Таймер обратного отсчёта

2 : 59

Задание №: 16

Лица, являющиеся участниками трудовых правоотношений

Выберите несколько правильных ответов:

- Доцент в высшем учебном заведении, проходящий каждые три года процедуру конкурсного отбора
- Персональный помощник инвалида по зрению, который платит ему из собственных средств
- Фотожурналист, который делает случайные фотографии знаменитостей и продает их редакциям бульварных изданий
- Переводчик разместил объявление в интернете и принимает на перевод тексты от разных заказчиков
- Швея – хозяйка ателье, арендовала помещение, провела ремонт, позвала других швей, каждая принесла свои инструменты. За аренду и рекламу платят вместе, заказы принимают индивидуально
- Военнослужащий по контракту, находящийся в заграничной командировке
- Футболист профессионального футбольного клуба, привлеченный по контракту на один игровой сезон
- Аспирант, который подрабатывает библиотекарем в своем институте



← Предыдущее

Следующее →

Задание №: 17

Работник автосервиса после замены масла двигателя вытер руки ветошью и выбросил ее в контейнер для отходов, стоящий неподалеку от помещения. Прохожий закурил и выбросил непотушенную спичку в контейнер. Произошло небольшое возгорание, прохожий испугался, но не пострадал.

В данном инциденте виноват:

Выберите один правильный ответ:

- Оба виноваты умышленно
- Прохожий, его вина неосторожная
- Работник автосервиса, его вина умышленная
- Прохожий, его вина умышленная
- Оба виноваты по неосторожности ➤ Далее
- Работник автосервиса, его вина неосторожная

Таймер обратного отсчёта



← Предыдущее

Следующее →

- 1
- 2
- 3
- 4
- 5
- 6
- 7
- 8
- 9
- 10
- 11
- 12
- 13
- 14
- 15
- 16
- 17
- 18
- 19
- 20
- 21
- 22
- 23
- 24
- 25

Оценка результатов и компетенций

Томская Алина Сергеевна ▾

🏠 Главная / Тестирование / Выполнение заданий

Задание №: 18

Соотнесите виды налогов с их классификацией

Установите соответствие путём перетаскивания маркеров элементов правого списка к маркерам левого списка:

Виды налогов в РФ

A:1

Налог на имущество организаций

B:2

Налог на доходы физических лиц

B:3

Земельный налог

Классификация налогов согласно ст.13-15 НК РФ

1

Региональные

2

Федеральные

3

Местные

Ваш ответ:

A	B	B
1	2	3

🔄 Очистить

➔ Далее

Таймер обратного отсчёта



2:59

Задание №: 19

Утверждения, **противоречащие** принципам экологического права

Выберите несколько правильных ответов:

- Защита окружающей среды имеет приоритетное значение перед удовлетворением экономических интересов.
- Российская Федерация заинтересована в защите окружающей природной среды и ее компонентов не только на своей территории, но и в сопредельных странах.
- Любая хозяйственная деятельность считается опасной для природы, пока не будет выявлено обратное.
- Природопользование, добыча природных ресурсов осуществляются на безвозмездной основе.
- Допустимо такое воздействие хозяйственной и иной деятельности на природную среду, которое находится в пределах требований в области охраны окружающей среды.
- При прочих равных условиях следует отдавать приоритет сохранению природных ландшафтов, комплексов и экологических систем перед их использованием.



← Предыдущее

Следующее →

Задание №: 20

Конституцией РФ закреплена свобода экономических отношений.

Вместе с тем, законодательство регулирует вопросы экономической деятельности, а именно:

Выберите несколько правильных ответов:

- обеспечение деятельности рынков финансов и ценных бумаг
- установление минимальных гарантий предпринимателям, защита их от рисков и разорения
- развитие конкуренции
- установление цен на товары и услуги
- запрещение тех видов экономической деятельности, которые приводят к нарушению закона, противоречат основам порядка и нравственности
- определение структуры экономики и объемов производства продукции по всем отраслям



← Предыдущее

Следующее →

Оценка результатов и компетенций

Томская Алина Сергеевна ▾

🏠 Главная / Тестирование / Выполнение заданий

Задание №: 21

Высказывание Ришелье *«Дайте мне шесть строчек, написанных рукой самого честного человека, и я найду в них что-нибудь, за что его можно повесить»* характеризует правосознание его автора как

Выберите один правильный ответ:

- деформированное правовым нигилизмом
- деформированное правовым идеализмом
- абсолютно адекватное
- деформированное правовым цинизмом
- научное конформистское

➤ Далее

Таймер обратного отсчёта



2 : 59

Задание №: 22

В современных философских концепциях присутствует различное представление об условиях счастливой жизни современного человека. Прочитайте текст французского мыслителя Ж. Бодрийяра.


Мы находимся в ситуации потребления, которая является нашей повседневностью, где все направлено на создание удобства и развлечения. Единственным желанием человека становится достижение счастья, определяемого как отсутствие напряженности и постоянное упрощение деятельности. Труд, досуг, природа, культура, всё это порождавшее раньше тоску и сложность в реальной жизни, в современных городах, смешано в одном и том же движении вечного шопинга и стремлении соответствовать моде!

Условием счастья для современного человека, по мнению автора, является

Выберите один правильный ответ:

- ликвидация необходимости трудовой деятельности, благодаря денежным пособиям
- жизнь в большом городе
- бесконечное потребление товаров и культ изобилия ➤ Далее
- творческая деятельность человека в области культуры
- саморазвитие посредством интересной трудовой деятельности

← Предыдущее



Установите соответствие путём перетаскивания маркеров элементов правого списка к маркерам левого списка:

ДОВОДЫ

A:2

смысла в жизни нет

B:2

подлинный смысл жизни - в содействии разрешению назревших задач общественного развития

B:1

смысл жизни человека в реализации общечеловеческих, духовных ценностей

Г:2

существование человека определяется социально-экономическими условиями

Д:2

смысл жизни человека измеряется тем вкладом, который он внёс в прогрессивное развитие общества

Е:1

религиозное чувство предопределяет уникальность личности как конкретного начала в познании

Ж:1

полнота реализации личности, возможна только в эсхатологической перспективе

З:1

смысл жизни в постижении Бога

УЧЕНИЯ

1

русская религиозная философия

2

марксизм

Таймер обратного отсчёта

2 : 58

Задание №: 24

Верное высказывание, которое характеризует смысл жизни человека в рамках теоцентрической картины мира

Выберите один правильный ответ:

- человек заброшен в мир и его жизнь не имеет смысла
- смысл жизни человека состоит в саморазвитии посредством формирования гражданской позиции и службе на благо государства
- смысл жизни человека состоит в возможности получать удовольствие, независимо от его источника
- жизнь человека подобна жизни животного, ее смысл в реализации инстинктов
- смысл жизни человека состоит в соблюдении Божественных заповедей и служении Богу

[▶ Далее](#)



[← Предыдущее](#)

[Следующее →](#)

Задание №: 25

На практическом занятии по философии возникла дискуссия. Одни студенты полагали, что в век научно-технического прогресса, в эпоху цифровой экономики и информационного общества должна существовать исключительно научная философия. Другие студенты считали, что подобная постановка проблемы, как минимум, странна и удивительна: философия может быть и ненаучной, как могут быть ненаучными эмоции, мысли и любые другие явления нашей жизни.

Высказывание, которое могло послужить основанием для разрешения спора

Выберите один правильный ответ:

- То, что ненаучно до настоящего времени, то должно быть отброшено.*
- Ненаучные феномены и научные феномены – это равноценные начала, которые необходимы и без них мир не может восприниматься целостно.*

➤ Далее

- Наличие ненаучных знаний и событий – явление временное, науке просто необходимо время для поиска необходимых ответов на появляющиеся вопросы.*
- Только ненаучные знания и явления позволяют в полной мере чувствовать себя свободно.*
- Научные знания и явления определяют развитие общества лишь только потому, что это кому-то выгодно.*



← Предыдущее

Следующее →

1 2 3 4 5 6 7 8 9 10 11 12 13 14 15 16 17 18 19 20 21 22 23 24 25

Задание №: 26

Самодержавный правитель острова Крит хотел воспрепятствовать тому, чтобы на острове поселились иноземцы. Желая соблюсти видимость справедливости, он издал распоряжение, согласно которому всякий, желающий поселиться на острове должен, хорошо поразмыслив, высказать любое утверждение, причем после предварительного предупреждения, что от содержания этого утверждения зависит его жизнь. Распоряжение гласило: «Если пришелец скажет правду, его расстреляют. Если он скажет неправду, его повесят».

Утверждение, которое нужно сказать, чтобы стать жителем острова

Выберите один правильный ответ:

- «Я готов отдать жизнь за жителей острова» – пришелец может сохранить себе жизнь в надежде, что его оставят на острове за самоотверженность
- «Я лжец» – пришелец может сохранить себе жизнь в предположении, что правитель не сможет решить логическое противоречие
- «Я осужден к повешению» – пришелец может сохранить себе жизнь, в предположении, что правитель не захочет отступить ни от своего решения, ни от своего распоряжения
- «Я был рожден на острове и похищен с него в детстве» – пришелец может сохранить себе жизнь в предположении, что правитель признает в нем коренного жителя

➤ Далее

Таймер обратного отсчёта

2 59

← Предыдущее

Следующее →

1

2

3

4

5

6

7

8

9

10

11

12

13

14

15

16

17

18

19

20

21

22

23

24

25

Оценка результатов и компетенций

Томская Алина Сергеевна ▾

🏠 Главная / Тестирование / Выполнение заданий


Задание №: 27

"Мышление, которое можно сопоставить с представлением о рассудке, создает однозначный контекст в виде строго упорядоченной, логически организованной системы. Это упрощенная «модель» реальности, где из множества связей представлены только немногие - однозначные, внутренне непротиворечивые наиболее значимые и стабильные. Упрощение и неполнота отражения реальности этим мышлением вызваны необходимостью передавать информацию в речи без значительных искажений."

Тип мышления, о котором идет речь в высказывании

Выберите один правильный ответ:

- творческое
- мифологическое
- религиозное
- научное ➤ Далее
- обыденное



Задание №: 28

Философский парадокс — "Буриданов осёл":

Осёл стоит между двух совершенно одинаковых стогов сена. Не в силах выбрать ни один из них, он теряет время, оценивая каждый из вариантов. В результате промедления осёл становится всё голоднее, а цена решения всё возрастает.

Высказывание, которое выражает суть парадокса

Выберите один правильный ответ:

- осёл выбрал правый стог
- осёл выбрал левый стог
- сено унесло ветром
- осёл не обладает разумом
- осёл умер, так как не смог сделать выбор ➤ Далее



← Предыдущее

Следующее →

Задание №: 29

"Однако для человека всё большее значение приобретает окружающая обстановка, сотворенная при помощи техники. Фактура пластмассы или бетона, переливчатый блеск автомобиля при уличном освещении, ошеломляющее зрелище раскинувшегося внизу города из окна самолёта — всё это близкие ему реальности повседневной жизни... Всё более многочисленными становятся изделия, выпускаемые для одноразового или краткосрочного использования, начиная от картонных молочных пакетов и кончая ракетами, которые снабжают силовыми двигателями космические корабли, и это стало главной чертой нашего образа жизни." (Э.Тоффлер)

Тип общества, о котором идет речь в тексте

Выберите один правильный ответ:

- аграрное общество
- постиндустриальное общество** ➤ Далее
- общество риска
- общество трансгуманизма
- индустриальное общество



← Предыдущее

Следующее →

Задание №: 30

«Свобода и необходимость совместимы. Вода реки, например, имеет не только свободу, но и необходимость течь по своему руслу. Такое же совмещение мы имеем в действиях, совершаемых людьми добровольно... Добровольные действия проистекают из воли людей, но они проистекают из свободы, но так как всякий акт человеческой воли, всякое требование и склонность проистекают из какой-нибудь причины, а эта причина — из другой в непрерывной цепи... то они проистекают из необходимости»

Т. Гоббс

«...Человеческая свобода, обладанием которой все хвалятся, и которая состоит только в том, что люди сознают свое желание, но не сознают причин, коими они детерминируются», ибо человек «составляет часть всей природы, законом которой человеческая природа принуждена повиноваться и приспособляться к ней едва ли не бесчисленными способами»

Б. Спиноза

Высказывание, объединяющее понимание свободы и необходимости философами Т. Гоббсом и Б. Спинозой

Выберите один правильный ответ:



- В определении отношений свободы и необходимости есть связь, согласно которой одно невозможно без другого как человек без природы и наоборот, но это лишает смысла постановку вопроса о соотношении свободы и необходимости.
 - В определении отношений свободы и необходимости есть связь, согласно которой одно невозможно без другого как человек без природы и наоборот, но это не отменяет ни одно, ни другое.
- [➤ Далее](#)
- Необходимость играет приоритетную роль по отношению к свободе.
 - Свобода и необходимость несовместимы между собой: либо свобода, либо необходимость.
 - Свобода играет приоритетную роль по отношению к необходимости.

Оценка результатов и компетенций

Томская Алина Сергеевна ▾

🏠 Главная / Тестирование / Выполнение заданий

Задание №: 31

Высказывание, которое наилучшим образом передает моральный смысл выражения И. Канта: «Человек — цель, а не средство».

Выберите один правильный ответ:

- Человек ничего не должен делать сам, это должны делать за него.
- Общество, поскольку оно состоит из людей, должно исходить из коллективных приоритетов по отношению к индивидуальным.
- При осуществлении деятельности общество должно в первую очередь думать о человеке.
- Человек может делать все, что ему захочется, поскольку все в этом мире устроено для него.
- Человека можно эксплуатировать без ограничений

➤ Далее

Таймер обратного отсчёта

2 : 59

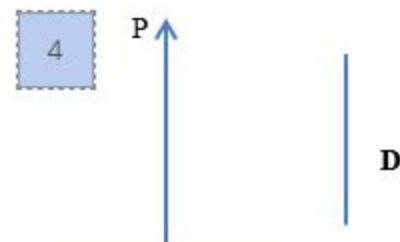
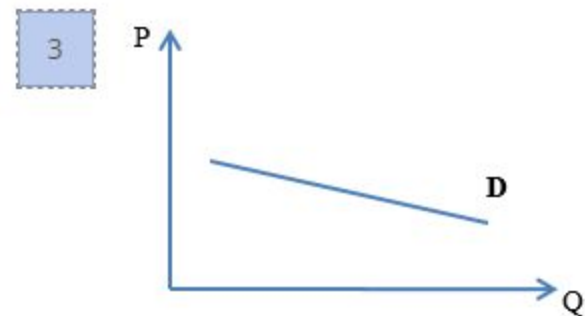
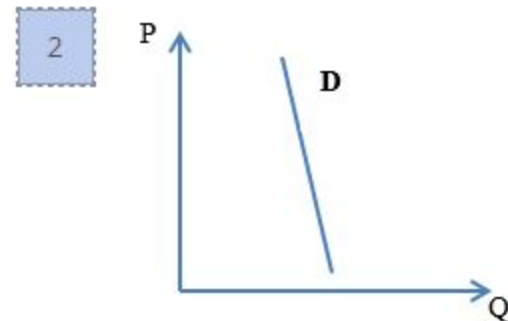
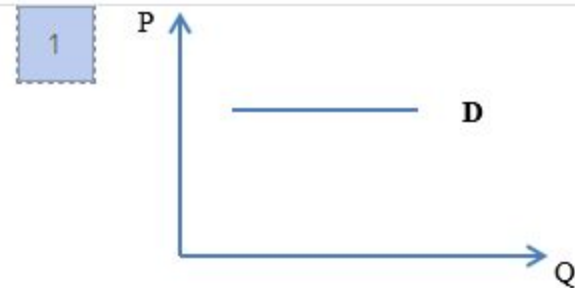
маркеров элементов правого списка к маркерам левого списка:

A: 4 жизненно важный товар

Б: 2 товар первой необходимости

В: 3 предметы роскоши

Г: 1 ситуация «все включено»



Таймер обратного отсчёта

2 59

Установите соответствие путём перетаскивания маркеров элементов правого списка к маркерам левого списка:

А:3

Уменьшение равновесной цены под влиянием ценовых ожиданий покупателей

Б:4

Уменьшение равновесной цены под влиянием развития технологий (использования новых технологий производства)

В:5

Увеличение равновесной цены под влияние роста количества покупателей

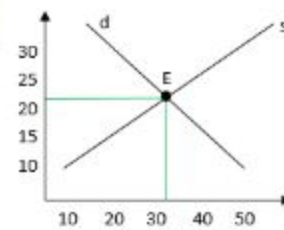
Г:2

Увеличение равновесной цены под влиянием роста издержек на производство

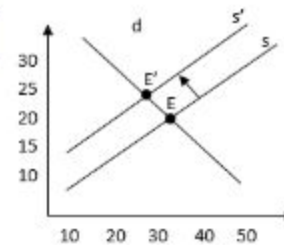
Д:1

Статическое равновесие, равновесные цена и выпуск установлены

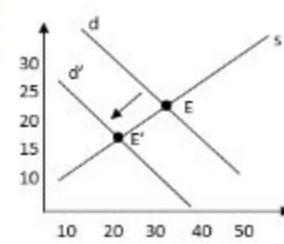
1



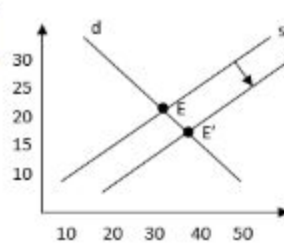
2



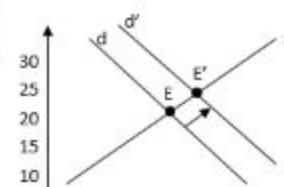
3



4



5



Таймер обратного отсчёта

2 57

Оценка результатов и компетенций

Томская Алина Сергеевна ▾

🏠 Главная / Тестирование / Выполнение заданий

Задание №: 34

Выберите сделки, которые будут включены в ВВП **текущего года**

Выберите несколько правильных ответов:

- стипендия студента
- фирма выпускает продукцию на сумму 1 млн. руб. и хранит ее на складе
- заработная плата учителя
- семья покупает акции компании "А" на сумму 200 тыс. руб.
- фирма приобретает 5 компьютеров, уже бывших в употреблении, у другой фирмы
- семья покупает квартиру в только что построенном доме за 2500 тыс. руб.

Таймер обратного отсчёта



Задание №: 35

Распределите проявления безработицы к фрикционному или структурному типу

Установите соответствие путём перетаскивания маркеров элементов правого списка к маркерам левого списка:

Проявления безработицы

- А:2** увольнение с места сезонной работы
- Б:1** увольнение шахтеров в связи с истощением угольного разреза
- В:2** увольнение в связи с переездом в другой город
- Г:2** увольнение в связи со сменой работы
- Д:1** увольнение бухгалтеров в связи с автоматизацией их труда
- Е:1** увольнение в связи с несоответствием квалификации работника современным требованиям рабочего места

Вид безработицы

- 1** Структурная
- 2** Фрикционная



Ваш ответ:

А	Б	В	Г	Д	Е
2	1	2	2	1	1

Задание №: 36

Распределите меры налогово-бюджетной политики по типам

Установите соответствие путём перетаскивания маркеров элементов правого списка к маркерам левого списка:

Меры

A:1

сворачивание крупных строительных проектов

Б:1

снижение государственных расходов на социальную сферу

В:2

снижение ставок налога на прибыль

Г:2

введение новой федеральной целевой программы

Д:2

рост государственных расходов на строительство дорог

Е:1

повышение налогов на производство товаров

Налогово-бюджетная политика

1

Сдерживающая

2

Стимулирующая



Ваш ответ:

А	Б	В	Г	Д	Е
1	1	2	2	2	1

1

Два периода в году цена букетов/цветов оказывается существенно выше, чем в остальные дни:

7-9 марта,

30,31 августа и 1 сентября.

Выберите основные факторы повышения цен в указанные периоды

- Повышение налогов
- Ценовые факторы спроса и предложения
- Увеличение объема привозных цветов
- Падение цены товаров-заменителей цветов
- Вкусы потребителей
- Ожидания продавцов
- Количество потребителей данного товара
- Неценовые факторы спроса и предложения



2

Выберите рыночные факторы и законы, которые задействованы в данной ситуации

Количество потребителей данного товара

Неценовые факторы спроса и предложения

2 **Выберите рыночные факторы и законы, которые задействованы в данной ситуации**

Количество покупателей

Традиции

Закон предложения

Ожидания покупателей

Закон спроса

Доходы покупателей

Закон возрастания альтернативных издержек

Технология производства




3 Средняя цена цветов, продаваемых у остановки общественного транспорта, оказывается выше, чем те же самые цветы, продаваемые в точке, удаленной от общественных мест.

Выберите микроэкономические факторы, которыми можно объяснить данную закономерность

3 Средняя цена цветов, продаваемых у остановки общественного транспорта, оказывается выше, чем те же самые цветы, продаваемые в точке, удаленной от общественных мест.

Выберите микроэкономические факторы, которыми можно объяснить данную закономерность

- Высокий спрос
- Ожидания производителя
- Количество продавцов
- Месторасположение
- Реклама
- Высокое предложение
- Количество покупателей
- Издержки



4 Если государство увеличит размер импортных пошлин на ввозимые цветы и ужесточит правила ввоза, как это отразится на российском цветочном рынке?

Из предложенных вариантов определите положительные и отрицательные последствия

Установите соответствие путём перетаскивания маркеров элементов правого списка к маркерам левого списка:

4 Если государство увеличит размер импортных пошлин на ввозимые цветы и ужесточит правила ввоза, как это отразится на российском цветочном рынке?

Из предложенных вариантов определите положительные и отрицательные последствия

Установите соответствие путём перетаскивания маркеров элементов правого списка к маркерам левого списка:

A: 1

Ослабление конкуренции

1

Отрицательные

Б: 2

Развитие национального производства

2

Положительные

В: 1

Снижение стимулов к совершенствованию

Г: 1

Рост цен на цветы

Д: 2

Рост спроса на отечественные цветы

Е: 1

Рост издержек импортера



← Предыдущее

Следующее →

приступает к изготовлению продукции.

1 **Распределите издержки как явные или неявные (по основным статьям расходов)**

Установите соответствие путём перетаскивания маркеров элементов правого списка к маркерам левого списка:

Издержки

A: 2

Расходы на оборудование: покупка швейной машинки

Б: 2

Сырье и материалы: расходы на ткань, фурнитуру, электроэнергия

В: 1

Упущенный процент на капитал, с помощью которого произведена закупка всего необходимого для открытия швейной мастерской

Г: 1

Доход, который можно получить от сдачи в аренду квартиры

Д: 1

Заработная плата, которую мог получить владелец квартиры, работая на другом предприятии

Е: 2

Заработная плата сотрудников, социальные отчисления

Тип издержек

1

Неявные издержки

2

Явные издержки



2 **Допустим ситуацию, в которой бухгалтерская прибыль положительная, а экономическая прибыль при учете всех явных и неявных издержек отрицательная.**

Выберите верные варианты ответов

произведена закупка всего необходимого для открытия швейной мастерской

2

Допустим ситуацию, в которой бухгалтерская прибыль положительная, а экономическая прибыль при учете всех явных и неявных издержек отрицательная.

Выберите верные варианты ответов

- Данное ателье организовывать не рационально
- Неявные издержки больше явных
- Явные издержки больше неявных
- Владелец ателье не получил заработную плату
- Владелец и сотрудники ателье не получили прибыль
- У ателье образовался убыток после вычета всех затрат, включая альтернативные издержки
- У ателье образовался убыток после вычета всех затрат, не включая альтернативные издержки



← Предыдущее