

# ВПР

Окружающий мир

7 задание

7. Рассмотрите знаки, изображённые на рисунках, и ответьте на вопросы.

7.1. Какой из этих знаков можно встретить на дороге? Какое правило отражает этот знак?

А

Б

В



Знак (

А

7.2. Какие правила отражают два других знака? Запиши ответы в таблицу.

**Правило 1:** Идут дорожные работы

**Правило 2:** Не разорять гнёзда

**Правило 3:** Вход с мороженым запрещён


Какой из этих знаков можно встретить в музее? Какое правило отражает этот знак?



А



Б



В

1. Можно встретить знак Б.
2. Правило: В данном помещении / в музее запрещено фотографировать.

Какой из этих знаков можно встретить на дороге? Какое правило отражает этот знак?



А



Б



В

1. Можно встретить знак А.
2. Правило: Идут дорожные работы.

Какой из этих знаков можно встретить в музее? Какое правило отражает этот знак?



А



Б



В

1. Можно встретить знак Б.
2. Правило: Вход с мороженым запрещён

Какой из этих знаков можно встретить около магазина? Какое правило отражает этот знак?



А



Б



В

1. Можно встретить знак В.
2. Правило: Следует соблюдать чистоту, бросать мусор только в урну

7

Рассмотри знаки, изображённые на рисунках. Как ты думаешь, что, кроме формы, объединяет все эти знаки?

1

Ответ: все эти знаки связаны с охраной природы

---

---



1)



2)



3)

Какой из этих знаков можно встретить на проезжей части улицы около автостоянки?  
Какое правило отражает этот знак?



А



Б



В

1. Можно встретить знак А.
2. Правило: Место стоянки/парковки для автомобилей

Какой из этих знаков можно встретить в парке? Какое правило отражает этот знак?



А



Б



В

1. Можно встретить знак А.
2. Правило: По газонам не ходить!

Какой из этих знаков можно встретить в метро? Какое правило отражает этот знак?



А



Б



В

1. Можно встретить знак В.
2. Правило: Здесь расположен эскалатор.

Какой из этих знаков можно встретить в поликлинике? Какое правило отражает этот знак?



А



Б



В

1. Можно встретить знак В.
2. Правило: Здесь расположен специальный вход для людей с ограниченными возможностями передвижения.

Какой из этих знаков можно встретить в парке? Какое правило отражает этот знак?



А



Б



В

1. Можно встретить знак Б.
2. Правило: Нельзя вредить животным.


Какой из этих знаков можно встретить на дороге, улице? Какое правило отражает этот знак?



А



Б



В

1. Можно встретить знак А.
2. Правило: Подземный переход.




Какой из этих знаков можно встретить в магазине? Какое правило отражает этот знак?



А



Б



В

1. Можно встретить знак Б.
2. Правило: В данном месте запрещено фотографировать.


Какой из этих знаков можно встретить этикетке одежды? Какое правило отражает этот знак?



А



Б



В

1. Можно встретить знак В.
2. Правило: Эту вещь нельзя гладить.

Какой из этих знаков можно встретить около железной дороги? Какое правило отражает этот знак?



А



Б



В

1. Можно встретить знак Б.
2. Правило: Запрещается ходить по железнодорожным путям. Или здесь запрещено переходить железнодорожные пути.

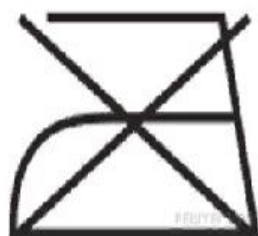
Какой из этих знаков можно встретить в театре? Какое правило отражает этот знак?



А



Б



В

1. Можно встретить знак А.
2. Правило: Фотосъемка запрещена.

Какой из этих знаков можно встретить в театре? Какое правило отражает этот знак?



А



Б



В

1. Можно встретить знак А.
2. Правило: Входить в зал с едой и напитками НЕ разрешается.

Какой из этих знаков можно встретить около водоема? Какое правило отражает этот знак?



А



Б



В

1. Можно встретить знак Б.
2. Правило: В это месте можно купаться.



1)



2)



3)

Какое правило отражает каждый из этих знаков? Напиши эти правила.

Правило 1: **Запрещается стоянка автомобилей с включённым двигателем.**

Правило 2: **Запрещается рвать цветы**

Правило 3: **Запрещается сливать в водоем отходы производства**

Какой из этих знаков можно встретить в заповеднике? Какое правило отражает этот знак?



А



Б



В

1. Можно встретить знак Б.
2. Правило: Нельзя срывать растения

Какой из этих знаков можно встретить на электрическом щитке? Какое правило отражает этот знак?



А



Б



В

1. Можно встретить знак В.
2. Правило: Осторожно! Опасность поражения электрическим током!

Внимательно рассмотри знаки, которые можно встретить соответственно в торговом центре, в парке и на этикетке одежды.

Как ты думаешь, какое правило отражает каждый из этих знаков?  
Напиши эти правила.



1)



2)




3)

**1) В это здание нельзя заходить с собаками.**

**2) Запрещено ломать ветки деревьев.**

**3) Эту вещь нельзя стирать.**

7. Внимательно рассмотри знаки, которые можно встретить соответственно на улице, в музее и на этикетке одежды. Как ты думаешь, какое правило отражает каждый из этих знаков? Напиши эти правила.



Правило 1: используй только ручную стирку

Правило 2: здесь движение только на велосипеде

Правило 3: фотографировать запрещено

Внимательно рассмотри знаки, которые можно встретить соответственно на железнодорожной станции, в торговом центре и на этикетке одежды.

Как ты думаешь, какое правило отражает каждый из этих знаков?  
Напиши эти правила.



1)



2)



3)

**1) Нельзя ходить по железнодорожным путям.**

**2) В это помещение нельзя заходить с мороженым.**

**3) Эту вещь можно стирать руками в теплой воде.**