


**Угол между векторами.
Скалярное произведение
векторов**

Цели урока:

- *Ввести понятия угла между векторами и скалярного произведения векторов.*
- *Рассмотреть формулу скалярного произведения в координатах.*
- *Показать применение скалярного произведения векторов при решении задач.*

Повторение:

- *Какие векторы называются равными?*

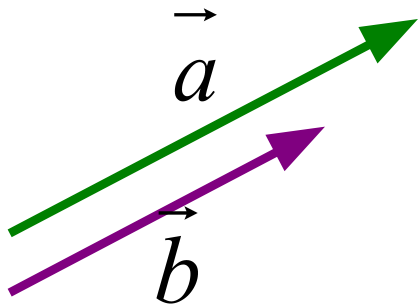


$$\vec{a} = \vec{b}, \text{ если } |\vec{a}| = |\vec{b}|; \vec{a} \uparrow\uparrow \vec{b}$$

- *Как найти длину вектора по координатам его начала и конца?*

$$|\overrightarrow{AB}| = \sqrt{(x_B - x_A)^2 + (y_B - y_A)^2 + (z_B - z_A)^2}$$

- *Какие векторы называются коллинеарными?*



$$\vec{a} \uparrow\uparrow \vec{b} \quad \text{или} \quad \vec{a} \uparrow\downarrow \vec{b}$$

$$\vec{a} = \lambda \cdot \vec{b}$$

$$\begin{cases} x_1 = \lambda \cdot x_2 \\ y_1 = \lambda \cdot y_2 \\ z_1 = \lambda \cdot z_2 \end{cases}$$

Повторение. (Устно)

Векторы в пространстве.

1) Дано: $A(-3; -2; 4)$ $B(-4; 3; 2)$

Найти: $|\vec{AB}|$

$\sqrt{50}$

2) Дано: $A(2; -3; 1)$ $B(4; -5; 0)$ $C(5; 0; -4)$ $D(7; -2; -3)$

Равны ли векторы \vec{AB} и \vec{CD} ?

$\vec{AB}\{2; -2; -1\}$

$\vec{CD}\{2; -2; 1\}$

3) Дано: ? Коллинеарны ли векторы \vec{AB} и \vec{CD} ?

$A(1; -3; 4)$

$B(9; 1; -2)$

$C(2; 0; 1)$

$D(4; -2; 2)$

$\vec{AB}\{8; 4; -6\}$

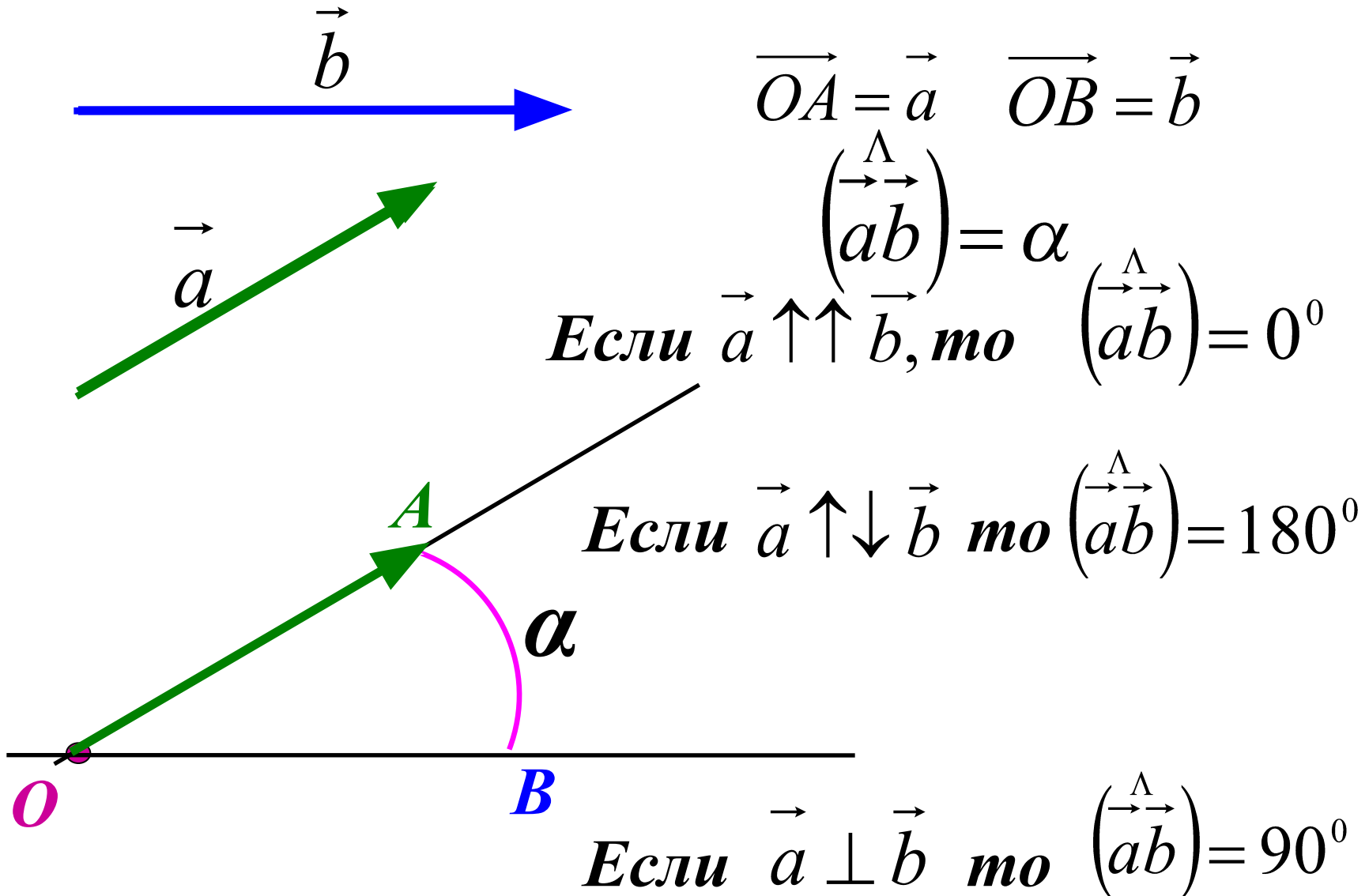
$\vec{CD}\{2; -2; 1\}$

Н

с

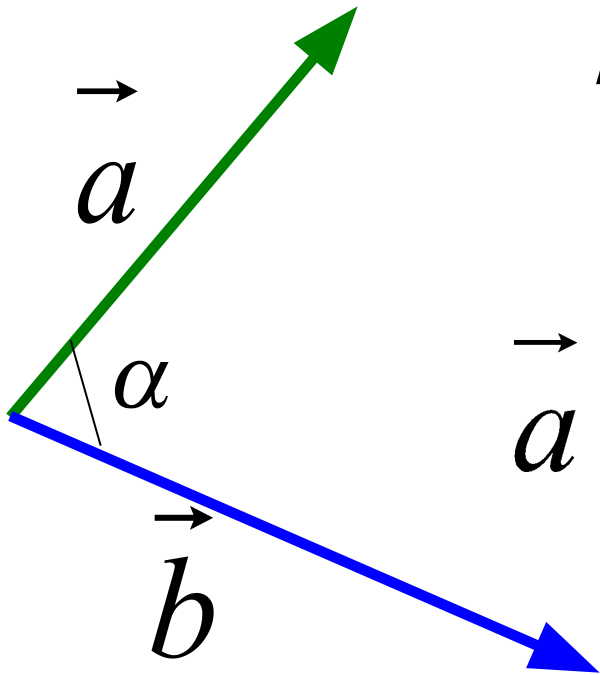
т

Угол между векторами.



Скалярное произведение векторов.

Скалярным произведением двух векторов называется произведение их длин на косинус угла между ними.



$$\vec{a} \cdot \vec{b} = |\vec{a}| \cdot |\vec{b}| \cdot \cos \alpha$$

Вспомним планиметрию...

$$\vec{a} \cdot \vec{b} = |\vec{a}| \cdot |\vec{b}| \cdot \cos \alpha$$

Если $\vec{a} \perp \vec{b}$, то $\cos 90^\circ = 0 \Rightarrow \underline{\vec{a} \cdot \vec{b} = 0}$

Если $\vec{a} \uparrow \downarrow \vec{b}$, то $\cos 180^\circ = -1 \Rightarrow \underline{\vec{a} \cdot \vec{b} = -|\vec{a}| \cdot |\vec{b}|}$

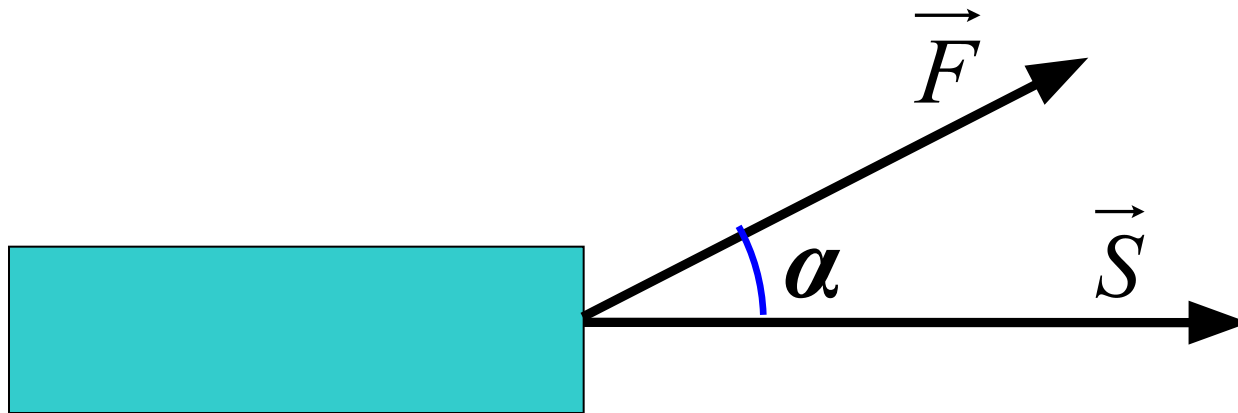
Если $\vec{a} \uparrow \uparrow \vec{b}$, то $\cos 0^\circ = 1 \Rightarrow \underline{\vec{a} \cdot \vec{b} = |\vec{a}| \cdot |\vec{b}|}$

Если $\vec{a} = \vec{b}$, то $\underline{\vec{a} \cdot \vec{b} = \vec{a} \cdot \vec{a} = |\vec{a}| \cdot |\vec{a}| = |\vec{a}|^2 = a^2}$

Скалярное произведение $\vec{a} \cdot \vec{a}$ называется

скалярным квадратом вектора

Пример применения скалярного произведения векторов в физике.



Если $(\vec{F} \vec{S}) = \alpha$, то

$$A = |\vec{F}| \cdot |\vec{S}| \cdot \cos \alpha$$

Скалярное произведение векторов.

Формула скалярного произведения векторов в пространстве.

$$\vec{a}\{x_1; y_1; z_1\} \quad \vec{b}\{x_2; y_2; z_2\}$$

$$\vec{a} \cdot \vec{b} = x_1 x_2 + y_1 y_2 + z_1 z_2$$

*Скалярное произведение двух векторов равно
сумме произведений соответствующих
координат этих векторов.*

Косинус угла между ненулевыми векторами

$$\vec{a}\{x_1; y_1; z_1\} \quad \vec{b}\{x_2; y_2; z_2\}$$

$$\cos \alpha = \frac{x_1 x_2 + y_1 y_2 + z_1 z_2}{\sqrt{x_1^2 + y_1^2 + z_1^2} \cdot \sqrt{x_2^2 + y_2^2 + z_2^2}}$$

Решение задач.

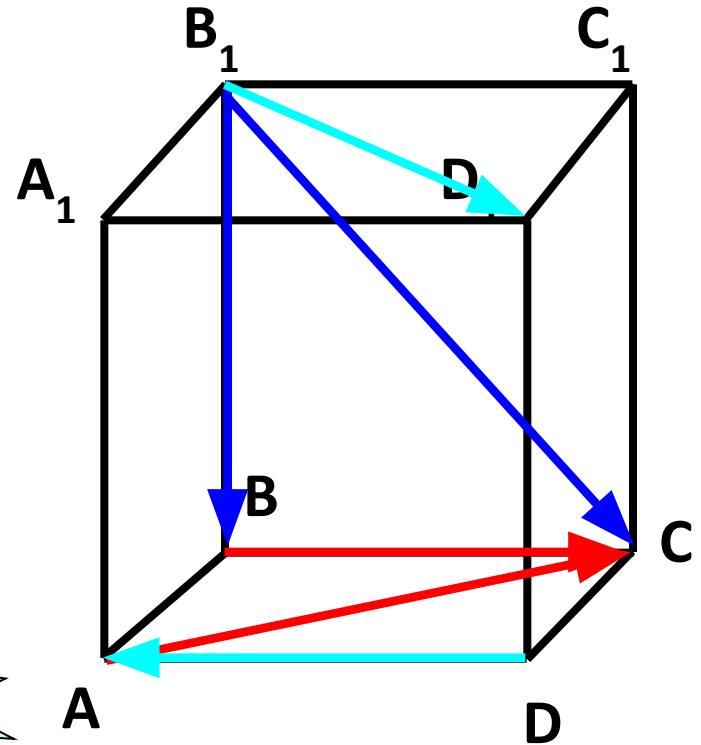
Дан куб $ABCD A_1 B_1 C_1 D_1$.

Найдите угол между векторами:

а) $\vec{B_1 B}$ и $\vec{B_1 C}$ 45°

б) \vec{BC} и \vec{AC} 45°

в) \vec{DA} и $\vec{B_1 D_1}$ 135°



№ 443 (2)

Дано: куб $ABCD A_1 B_1 C_1 D_1$;

$$AB = a$$

Найти: $\overrightarrow{BA_1} \cdot \overrightarrow{BC_1}$

1 способ:

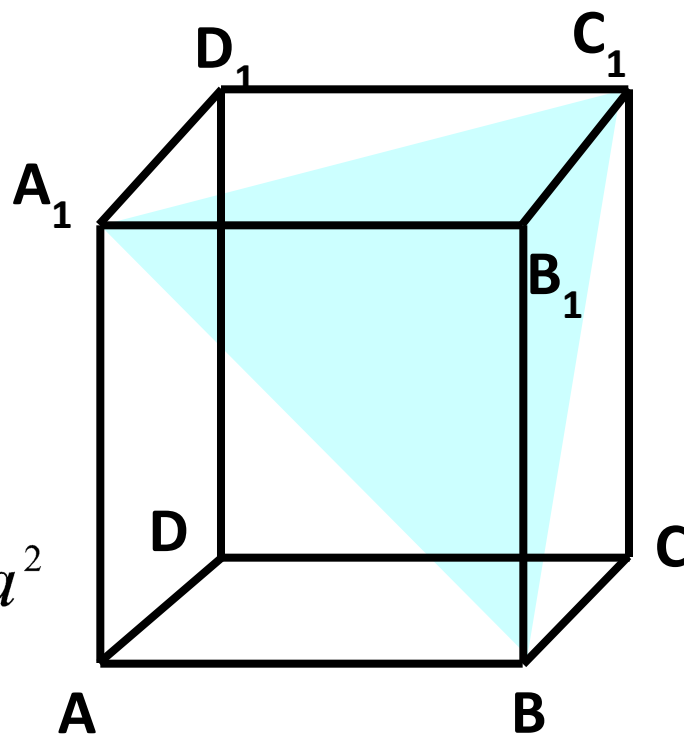
$\triangle BA_1 C_1$ – правильный

$$BA_1 = BC_1 = a\sqrt{2}$$

$$\left(\overrightarrow{BA_1}, \overrightarrow{BC_1} \right) = 60^\circ$$

$$\overrightarrow{BA_1} \cdot \overrightarrow{BC_1} = a\sqrt{2} \cdot a\sqrt{2} \cdot \cos 60^\circ = a^2$$

Ответ: a^2



Дано: куб $ABCD A_1 B_1 C_1 D_1$;
 $AB = a$

Найти: $\overrightarrow{BA_1} \cdot \overrightarrow{BC_1}$

2 способ:

$$\overrightarrow{BA_1} = \overrightarrow{BA} + \overrightarrow{AA_1}$$

$$\overrightarrow{BC_1} = \overrightarrow{BC} + \overrightarrow{CC_1}$$

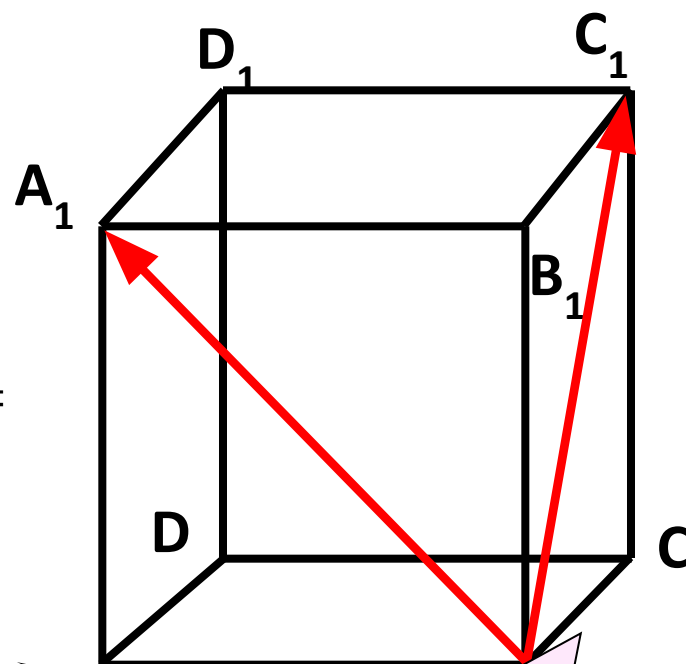
$$\overrightarrow{BA_1} \cdot \overrightarrow{BC_1} = ?$$

$$\overrightarrow{BA_1} \cdot \overrightarrow{BC_1} = (\overrightarrow{BA} + \overrightarrow{AA_1}) \cdot (\overrightarrow{BC} + \overrightarrow{CC_1}) =$$

$$= \overrightarrow{BA} \cdot \overrightarrow{BC} + \overrightarrow{BA} \cdot \overrightarrow{CC_1} + \overrightarrow{AA_1} \cdot \overrightarrow{BC} +$$

$$+ \overrightarrow{AA_1} \cdot \overrightarrow{CC_1} =$$

$$= 0 + 0 + 0 + a \cdot a \cdot \cos 0^\circ = a^2$$



Ответ: a^2

№ 443 (2)

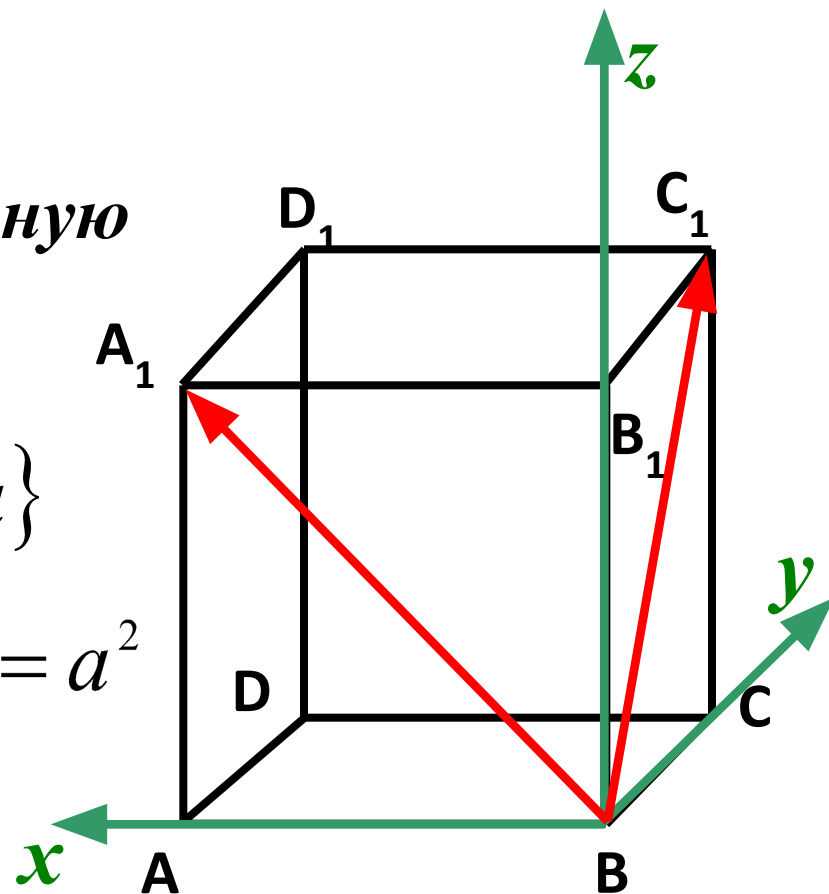
Дано: куб $ABCD A_1 B_1 C_1 D_1$;
 $AB = a$

Найти: $\overrightarrow{BA_1} \cdot \overrightarrow{BC_1}$

3 способ: Введем прямоугольную систему координат.

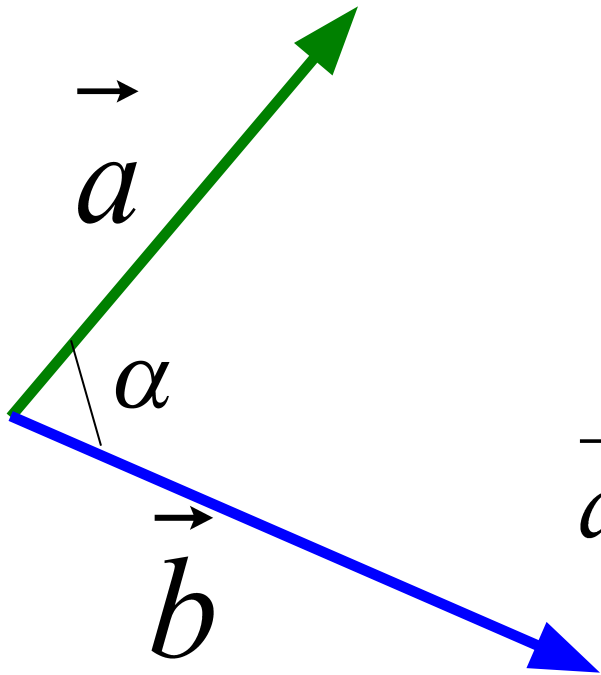
$$\overrightarrow{BA_1} \{a; 0; a\} \quad \overrightarrow{BC_1} \{0; a; a\}$$

$$\overrightarrow{BA_1} \cdot \overrightarrow{BC_1} = a \cdot 0 + 0 \cdot a + a \cdot a = a^2$$



Ответ: a^2

Скалярное произведение векторов.



$$\vec{a} \cdot \vec{b} = |\vec{a}| \cdot |\vec{b}| \cdot \cos \alpha$$

$$\vec{a}\{x_1; y_1; z_1\} \quad \vec{b}\{x_2; y_2; z_2\}$$

$$\vec{a} \cdot \vec{b} = x_1 x_2 + y_1 y_2 + z_1 z_2$$

$$\cos \alpha = \frac{x_1 x_2 + y_1 y_2 + z_1 z_2}{\sqrt{x_1^2 + y_1^2 + z_1^2} \cdot \sqrt{x_2^2 + y_2^2 + z_2^2}}$$

Домашнее задание

П.46, 47.

№ 441 (д-3), № 444, 446 (а)