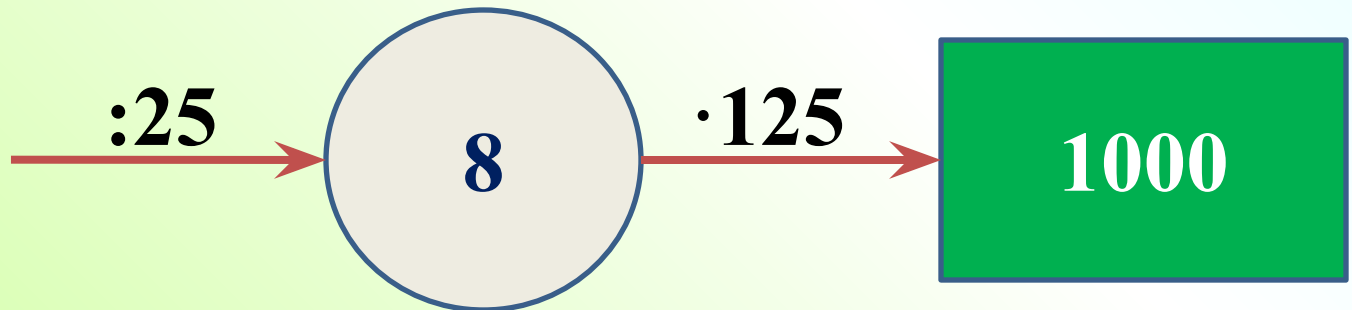
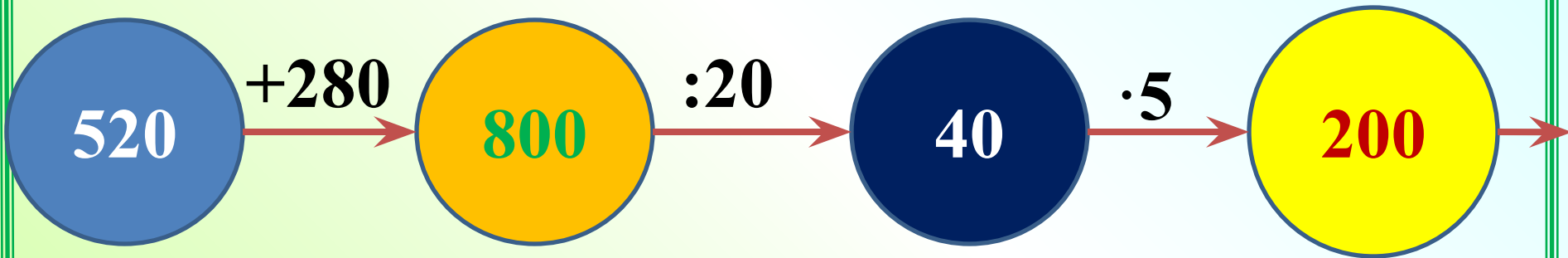
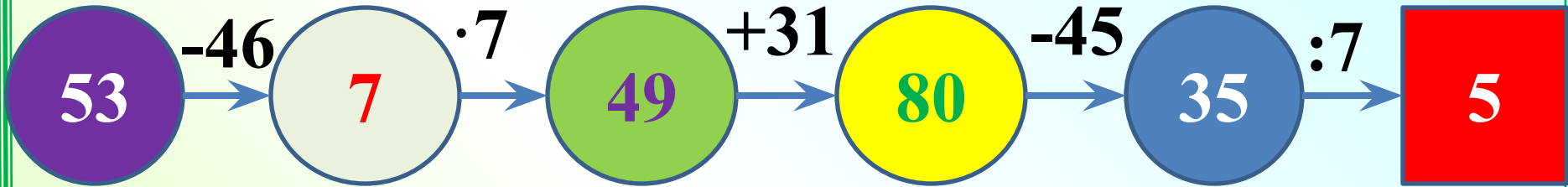


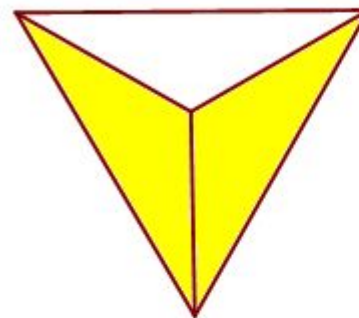
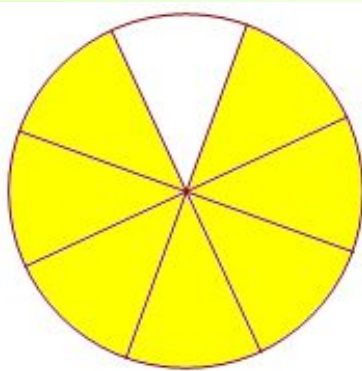

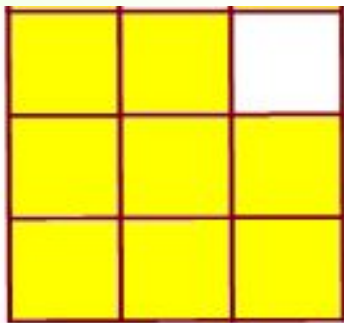
Настройся на урок



Какая часть

фигуры

закрашена?



Первое понятие дроби появилось в древнем Египте много веков назад. Современное обозначение дробей берет своё начало в древней Индии; дробная черта появилась в записи дробей лишь около **300** лет назад.

Название “числитель”
и “знаменатель” ввёл в
употребление греческий
монах учёный-
математик **Максим
Плануд.**

Для запоминания:
“Человек стоит на
земле”.



Задача № 1.

Утром, в обед и
вечером кот съел по
 $\frac{2}{3}$ сосиски. Сколько
сосисок съел кот за
день?

2

0

0

Молодцы!

$\frac{7}{6}$


X 4

$\frac{2}{3}$

$\frac{5}{3}$

$\frac{5}{2}$

$\frac{3}{3}$

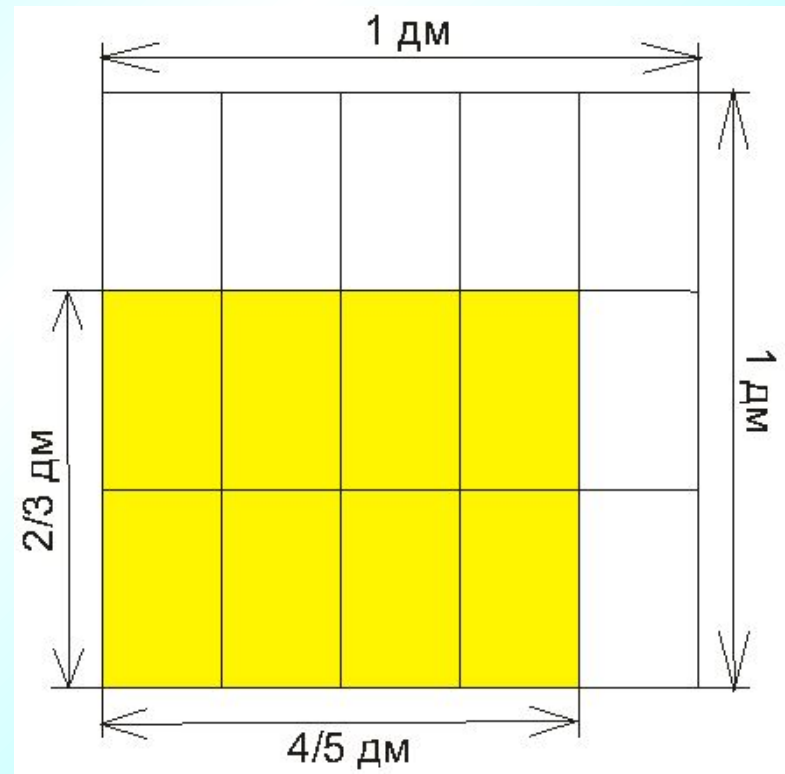


Задача 2: Длина прямоугольника $\frac{4}{5}$ дм, а ширина $\frac{2}{3}$ дм. Чему равна площадь прямоугольника?

Решение:

$$\frac{4}{5} \cdot \frac{2}{3} = \frac{8}{15}$$

Ответ: $\frac{8}{15}$ дм²



№ 969 (а, в, д, ж)

• а) $\frac{2}{21}$

• в) $\frac{3}{16}$

• д) $\frac{8}{27}$

• ж) $\frac{8}{27}$

№ 971 (а,б,в)

• а) $\frac{1}{6}$

• б) $\frac{4}{5}$

• в) $\frac{4}{15}$

На уроке я узнал...

Мне было легко...

Я пока затрудняюсь...

Я узнал новое...

*Я понял, мне необходимо
поработать над темой...*

Домашнее задание

*П. 9.4; № 972; 971(г,д,е);
965(в,г)*