


ГДЕ ЛОГИКА?



# Раунд 1

«Что общего?»

Что объединяет эти вещи?










# Раунд 2

## «Формула ВСЕГО»


Угадай, что получится





+











Раунд 3

«Бой с тенью»

Назови всех персонажей



1



2



3

# Раунд 4

## «Головоломка»



$$\text{Pumpkin} + \text{Pumpkin} + \text{Pumpkin} + \text{Pumpkin} = 36$$

$$\text{Spiderweb} + \text{Pumpkin} + \text{Spiderweb} + \text{Spiderweb} = 30$$

$$\text{Spiderweb} + \text{Witch Hat} + \text{Witch Hat} = 33$$

$$\text{Pumpkin} + \text{Spiderweb} + \text{Witch Hat} = \square$$

# Раунд 5 «Найди»

На **«Предметы»** не  
менее 10 предметов  
Хэллоуина



