


Урок математики



Засели числовые домики



Дополни до 10:

2

3

1

4



Набери 9



Набери 10



В каждом ряду назови числа по порядку:

1) начиная с самого маленького:
13, 15, 12, 17, 14, 19, 18, 16;

12, 13, 14, 15, 16, 17, 18, 19

2) начиная с самого большого:
11, 4, 10, 3, 6, 9, 7, 5, 8.

11, 10, 9, 8, 7, 6, 5, 4, 3



Сравни числа

$1 > 0$

$10 = 10$

$20 > 2$


$19 = 19$

$3 < 13$


$9 < 11$

$17 < 18$


$19 > 16$



$$10 + 5 = 15$$



$$15 - 5 = 10$$



$$15 - 10 = 5$$

Увеличь на 10:

15

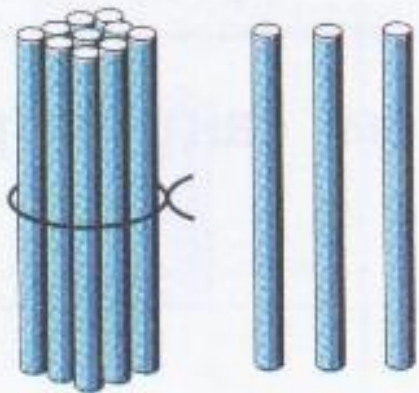
12

18

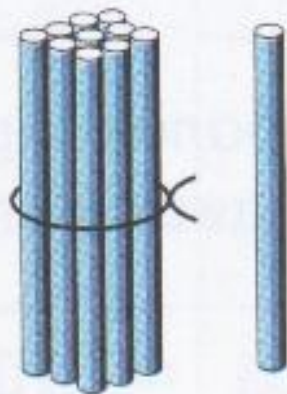
16



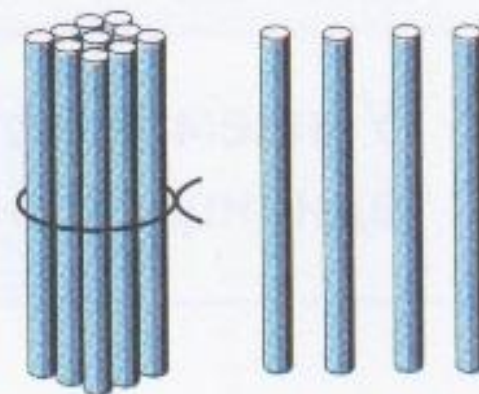
Заполни «ОКОШКИ»



$$10 + 3 = 13$$
$$13 - 3 = 10$$
$$13 - 10 = 3$$



$$10 + 1 = 11$$
$$11 - 1 = \boxed{1} \boxed{0}$$
$$11 - 10 = \boxed{1}$$



$$10 + 4 = \boxed{1} \boxed{4}$$
$$14 - 4 = \boxed{1} \boxed{0}$$
$$14 - 10 = \boxed{4}$$

Каждому конверту – свой почтовый ящик



$14 - 4$

$7 + 10$

$6 + 4$

$10 + 9$

$10 + 3$

$20 - 10$

$12 + 1$

$16 - 6$

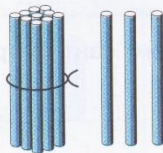
$18 - 1$

Работа по
учебнику
Стр. 52

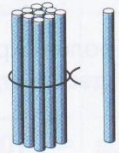




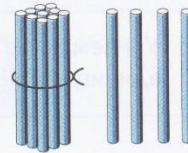
Будем учиться выполнять вычисления вида:
 $10 + 7$, $17 - 7$, $17 - 10$.



$$\begin{aligned} 10 + 3 &= 13 \\ 13 - 3 &= 10 \\ 13 - 10 &= 3 \end{aligned}$$




$$\begin{aligned} 10 + 1 &= 11 \\ 11 - 1 &= \square \\ 11 - 10 &= \square \end{aligned}$$



$$\begin{aligned} 10 + 4 &= \square \\ 14 - 4 &= \square \\ 14 - 10 &= \square \end{aligned}$$

$$\begin{array}{cccc} 1. & 10 + 5 & 16 - 6 & 12 - 10 & 10 + 10 \\ & 10 + 9 & 17 - 7 & 18 - 10 & 20 - 10 \end{array}$$

2. 1) На тарелке было 6 красных помидоров и 2 жёлтых. Сколько всего помидоров?
 2) На тарелке было 8 помидоров. Съели 5 помидоров. Сколько помидоров осталось на тарелке?



4.

Дополни до 10:				Увеличь на 10:			
8	7	9	6	5	2	8	6

5.

$3 + 7 - 2$	$16 - 6 + 3$	$20 - 1 - 9$
$6 + 4 - 9$	$17 - 10 + 1$	$20 - 10 + 8$
$2 + 8 - 3$	$14 - 4 + 6$	$20 - 10 - 4$

? $10 + 9 = \square$ $19 - \square = 10$ $19 - 9 = \square$

НАБЕРИ 9



1. $10 + 5$

$10 + 9$

$16 - 6$

$17 - 7$

$12 - 10$

$18 - 10$

$10 + 10$

$20 - 10$

2. 1) На тарелке было 6 красных помидоров и 2 жёлтых. Сколько всего помидоров?
- 2) На тарелке было 8 помидоров. Съели 5 помидоров. Сколько помидоров осталось на тарелке?

5. $3 + 7 - 2$

$6 + 4 - 9$

$2 + 8 - 3$

$16 - 6 + 3$

$17 - 10 + 1$

$14 - 4 + 6$

$20 - 1 - 9$

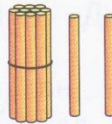
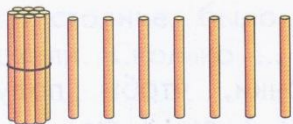
$20 - 10 + 8$

$20 - 10 - 4$

Работа в
ТПО
Стр. 26



1



$10 + 7 =$

$10 + 2 =$


$17 - 7 =$

$12 - 2 =$

$17 - 10 =$

$12 - 10 =$

2



1

У Тани 2 синих шарика и 4 красных.
Сколько всего ... ?

Ответ:

2

12 20 14 12 15 17

3

$13 - 3 - 2 =$

$8 + 2 + 5 =$

$19 - 9 - 4 =$

$4 + 6 - 3 =$

$16 - 6 - 3 =$

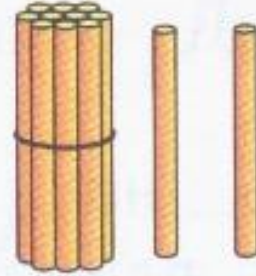
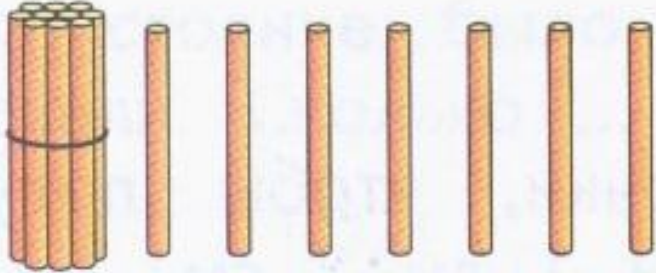
$7 + 3 + 4 =$

4

Бабушка взяла несколько морковок и все их
отдала кроликам: 3 белому и столько же
серому. Сколько всего ... взяла ... ?

Ответ:

1



$$10 + 7 = 17$$

$$10 + 2 = 12$$

$$17 - 7 = 10$$

$$12 - 2 = 10$$

$$17 - 10 = 7$$

$$12 - 10 = 2$$

3

$$13 - \overset{10}{3} - 2 = 8$$

$$8 + \overset{10}{2} + 5 = 15$$

$$19 - \overset{10}{9} - 4 = 6$$

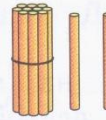
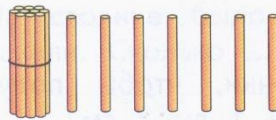
$$4 + \overset{10}{6} - 3 = 7$$

$$16 - \overset{10}{6} - 3 = 7$$

$$7 + \overset{10}{3} + 4 = 14$$


Домашнее задание

1



$10 + 7 =$	$10 + 2 =$
$17 - 7 =$	$12 - 2 =$
$17 - 10 =$	$12 - 10 =$

2



1

У Тани 2 синих шарика и 4 красных.
Сколько всего ... ?

Ответ:

2



12 20 14 12 15 17

3

$13 - 3 - 2 =$	$8 + 2 + 5 =$
$19 - 9 - 4 =$	$4 + 6 - 3 =$
$16 - 6 - 3 =$	$7 + 3 + 4 =$

4

Бабушка взяла несколько морковок и все их
отдала кроликам: 3 белому и столько же
серому. Сколько всего ... взяла ... ?

Ответ:

Рефлексия

Сегодня я узнал...
Сегодня я научился...

Моё настроение

