

КООРДИНА ТЫ



CityNight

Адрес,
телефон.

Оставьте мне свои
координаты.



КООРДИНА ТЫ




ЗРИТЕЛЬНЫЙ ЗАЛ

1	2	3	4	5	6	7	
Ряд 1	Ряд 1	Ряд 1	Ряд 1	Ряд 1	Ряд 1	Ряд 1	Ряд 1
Ряд 2	Ряд 2	Ряд 2	Ряд 2	Ряд 2	Ряд 2	Ряд 2	Ряд 2
Ряд 3	Ряд 3	Ряд 3	Ряд 3	Ряд 3	Ряд 3	Ряд 3	Ряд 3
Ряд 4	Ряд 4	Ряд 4	Ряд 4	Ряд 4	Ряд 4	Ряд 4	Ряд 4
Ряд 5	Ряд 5	Ряд 5	Ряд 5	Ряд 5	Ряд 5	Ряд 5	Ряд 5
Ряд 6	Ряд 6	Ряд 6	Ряд 6	Ряд 6	Ряд 6	Ряд 6	Ряд 6
Ряд 7	Ряд 7	Ряд 7	Ряд 7	Ряд 7	Ряд 7	Ряд 7	Ряд 7
Ряд 8	Ряд 8	Ряд 8	Ряд 8	Ряд 8	Ряд 8	Ряд 8	Ряд 8
Ряд 9	Ряд 9	Ряд 9	Ряд 9	Ряд 9	Ряд 9	Ряд 9	Ряд 9

места **ДЕТСКИЕ** **ВЗРОСЛЫЕ** **СЛУЖЕБНЫЕ**

Какое место должен занять Витя если в его билете указано «ряд 3 место 5»
Для кого предназначены места в 9 ряду?



Какие фигуры
расположены в клетках:
f3, a6, g7?

f3 –

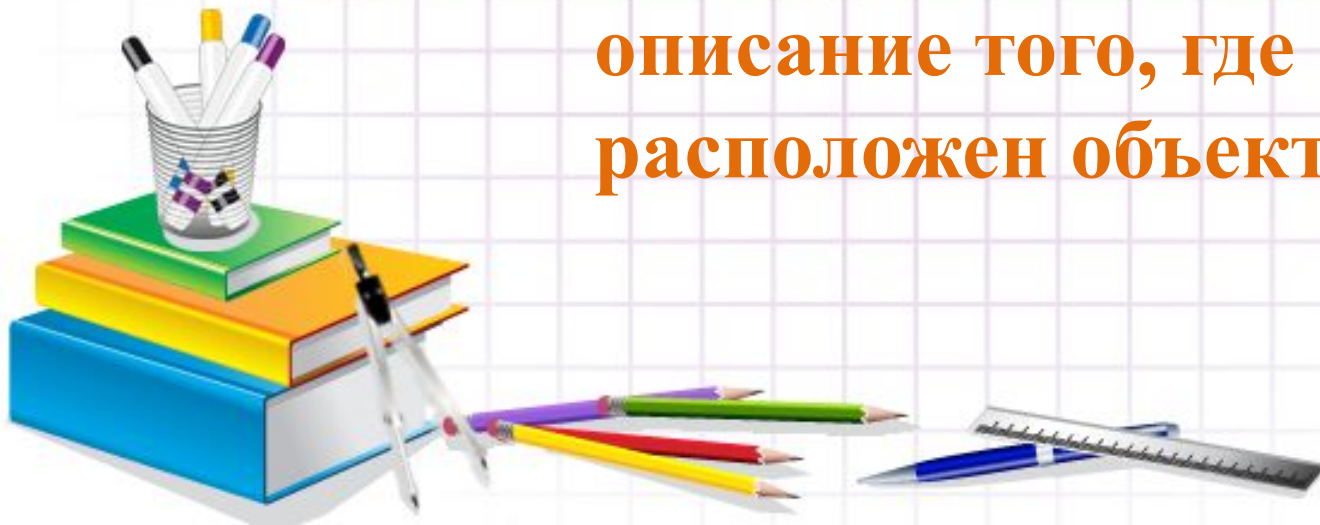
a6 –

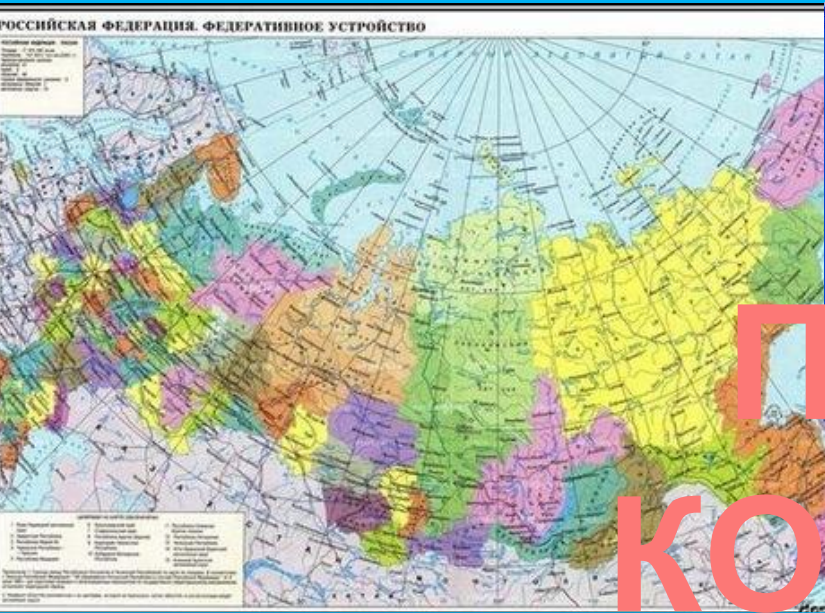
g7 –



КООРДИНАТЫ

описание того, где
расположен объект.





Примеры КООРДИНАТ



Места:

2,4	6,8	10,12	14,16	18,20	22,24	26,28	30,32	34,36
1,3	5,7	9,11	13,15	17,19	21,23	25,27	29,31	33,35

тамбур	туалет	проводник										туалет	тамбур
	54	52	50	48	46	44	42	40	38				
	53	51	49	47	45	43	41	39	37				



	А	Б	В	Г	Д	Е	Ж	З	И
1	К								
2									
3									
4									
5									
6									
7									
8									
9									
10									

4-клеточный:
 {В2; Г2; Д2; Е2}

3-клеточный:
 {Ж5; Ж6; Ж7}

2-клеточный:
 {И10; З10}



Придумать координаты для
определения места ученика в классе.


Указать координаты нескольких
учеников.

КООРДИНАТЫ





Едино воссияет
пусть свет
аметиста и
рубина.
Завершиться все
сиянием изумруда и
сапфира.
Аметист (7;7)
Изумруд (8;6)
Рубин (4;4)
Сапфир (3;6)



Рабочая тетрадь №1

стр. 54 – 55 № 13.1, 13.2

КООРДИНАТЫ

