


# Как вычесть число?



МБОУ СОШ № 99 г.о. Самара  
Предмет: Математика  
Класс: 1  
Учебник: Башмаков М.И. 2012 г  
Учитель: Гаврилова Г.А.  
Год издания: 2013



5



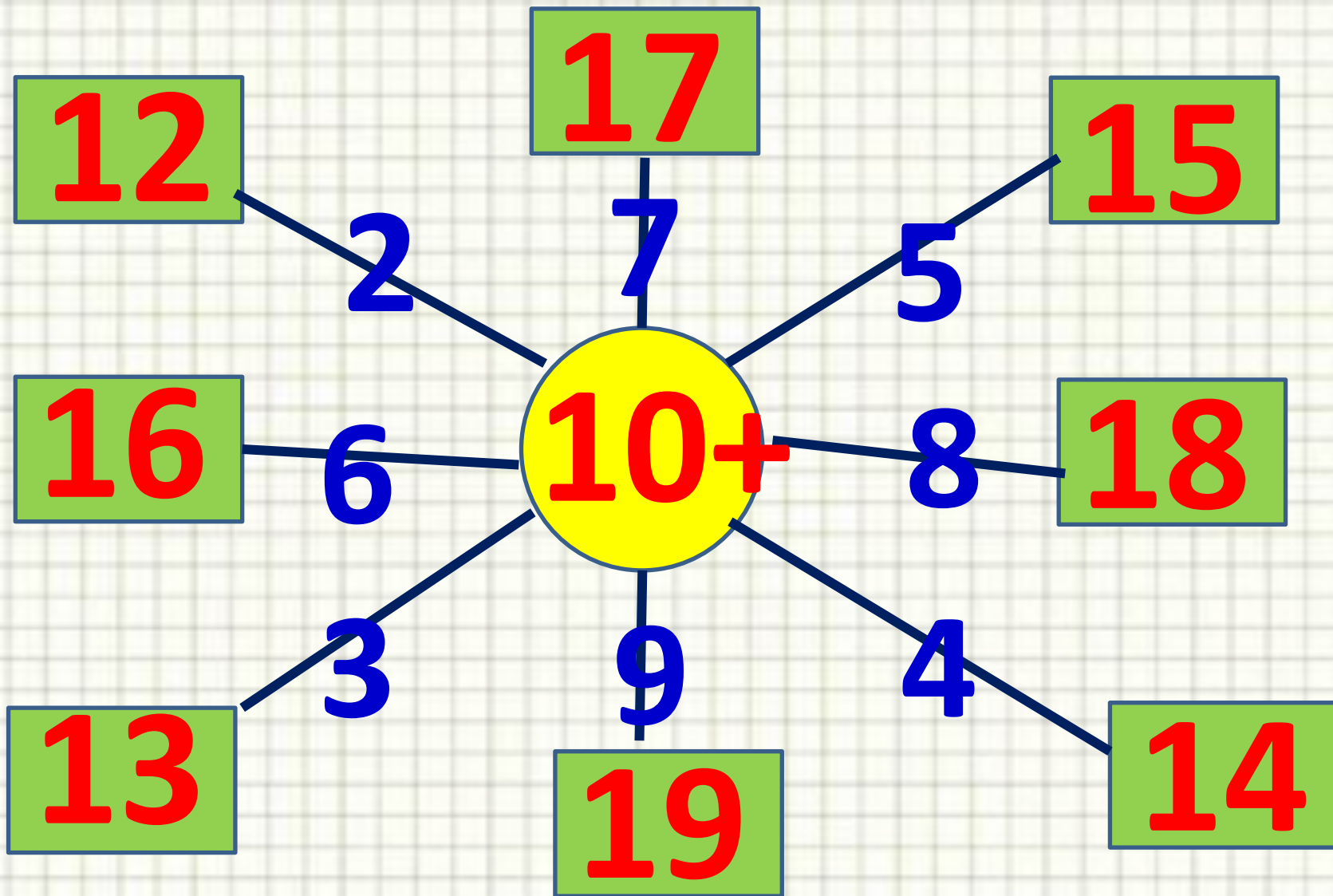
7




3



# Заполни окошки





Как будешь действовать?

$$13 + 3 = 16$$


$$12 + 5 = 17$$


Как будешь действовать?

$$16 - 3 = 13$$


$$17 - 5 = 12$$




В зоопарке 15 лисичек, а волков на 3 меньше. Сколько волков в зоопарке?



**Л. – 15 ж.**

**В. – ? На 3 <**

$$15 - 3 = 12 \text{ (ж.)}$$

**Ответ: 12 волков.**

Измени условие задачи так, чтобы она решалась сложением и запиши новое решение.



$$12 + 3 =$$

$$14 + 4 =$$

$$15 + 3 =$$

$$12 + 7 =$$

$$7 - 3 =$$

$$19 - 4 =$$

$$16 - 3 =$$

$$18 - 7 =$$

# Итог

- Как вычесть число?
- Как прибавить число?