




Доброе утро!



Журчат ручьи. Солнце восходит поздно и заходит рано. День короткий. Прохладно. Тает снег. Жарко. Метут метели. Гололедица. На небе легкие облака. Оттепель. Земля покрыта снегом. Солнце светит, но не греет. Опадают листья. Идут дожди. Тепло. Мороз. Ледоход. День длинный. Река покрыта льдом. Изморозь.

Журчат ручьи. Солнце восходит поздно и заходит рано. День короткий. Прохладно. Тает снег. Жарко. Метут метели. Гололедица. На небе легкие облака. Оттепель. Земля покрыта снегом. Солнце светит, но не греет. Опадают листья. Идут дожди. Тепло. Мороз. Ледоход. День длинный. Река покрыта льдом. Изморозь.



Большая медведица
осенью



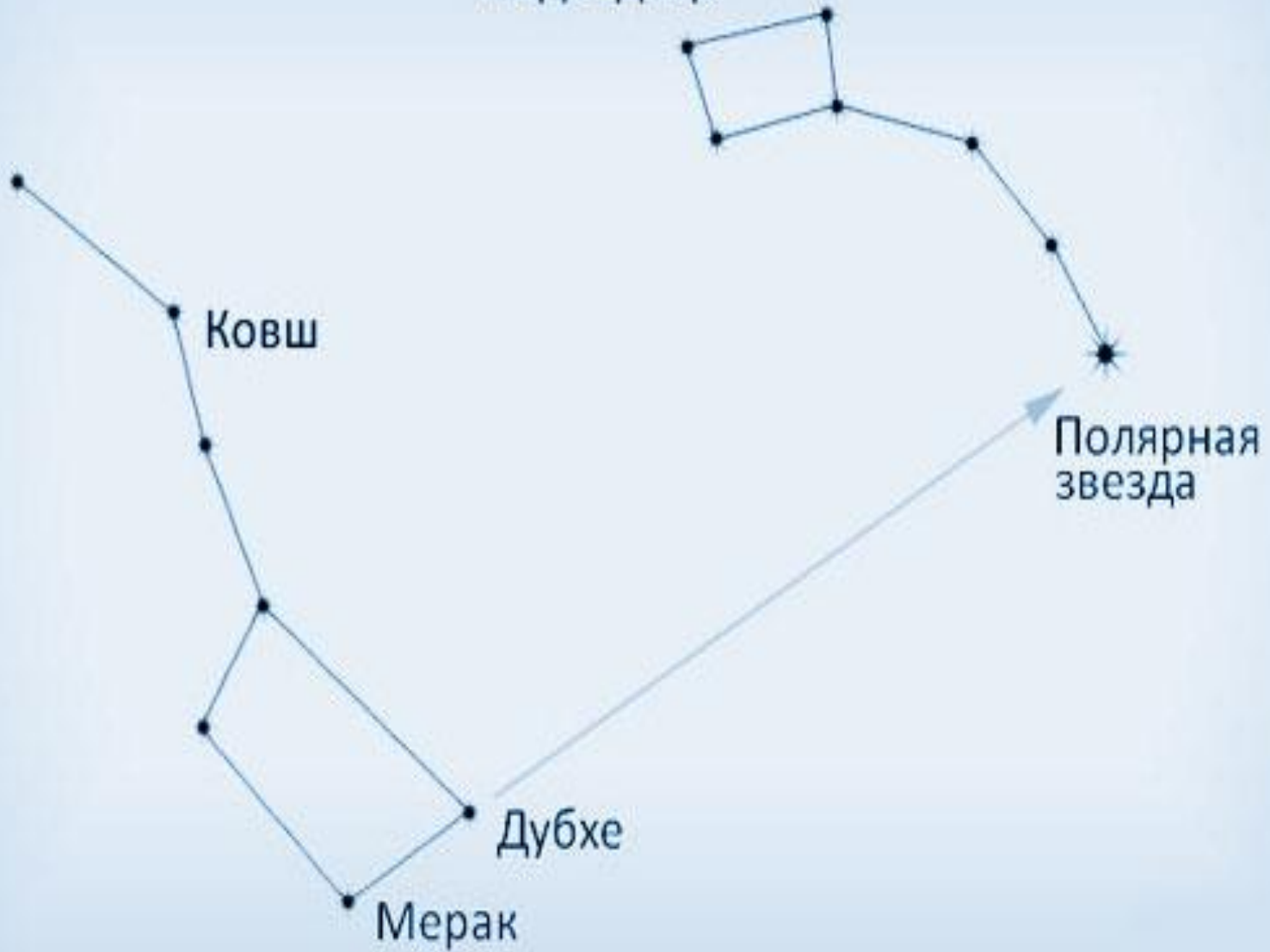
Большая медведица
зимой


Есть в небе звездочка одна,
Какая- не скажу,
Но каждый вечер из окна
Я на неё гляжу.
Она мерцает ярко так!
А в море где-нибудь
Сейчас, наверное, моряк
По ней сверяет путь.

Н. Теннова.




Малая
медведица





ши
эту



Созвездие Ориона

Бетельгейзе


Пояс Ориона

Ригель

Сириус



Если встать лицом к Полярной
звезде, то впереди будет север,
сзади юг, слева запад, справа
ВОСТОК.



**Полярная
звезда**



**Ковш
Большой
Медведицы**

**Малая
Медведица**

**Созвездия Большая Медведица
и Малая Медведица на зимнем небе**

Вопросы:

1. Куда указывает полярная звезда?
2. Чем помогла Полярная звезда мореплавателям и путешественникам?
3. Чтобы найти полярную звезду, какое созвездие мы сначала должны найти?

Домашнее задание:

Учебник стр. 16-19 читать, отвечать на вопросы на стр. 19. Рабочая тетрадь с. 10-11 выполнить.

Спасибо за урок!

