


Российская академия наук
Российская академия образования
Издательство «Просвещение»

П Е Р С П Е К Т И В А

Л. Г. Петерсон

МАТЕМАТИКА



1 класс

У Ч У С Ь У Ч И Т Ь С Я

ЧАСТЬ
ТРЕТЬЯ



3	$13 + 2 = 15$	$19 - 6 = 13$	$0 + 12 = 12$
	$4 + 15 = 19$	$18 - 14 = 4$	$5 + 13 = 18$
	$11 + 8 = 19$	$17 - 10 = 7$	$16 - 4 = 12$

4	$1 \text{ дм } 2 \text{ см} = 10 \text{ см} + 2 \text{ см} = 12 \text{ см}$	$1 \text{ дм } 4 \text{ см} = 14 \text{ см}$
	$1 \text{ дм } 6 \text{ см} = 16 \text{ см}$	$1 \text{ дм } 8 \text{ см} = 18 \text{ см}$

5	$15 \text{ см} = 1 \text{ дм } 5 \text{ см}$	$11 \text{ см} = 1 \text{ дм } 1 \text{ см}$
	$17 \text{ см} = 1 \text{ дм } 7 \text{ см}$	$13 \text{ см} = 1 \text{ дм } 3 \text{ см}$



6 Найди ошибки:

$10 + 7 = 17$	$13 + 4 = 7$	$19 \text{ см} = 1 \text{ дм } 9 \text{ см}$
$10 - 2 = 12$	$15 + 5 = 10$	$13 \text{ см} = 4 \text{ дм}$

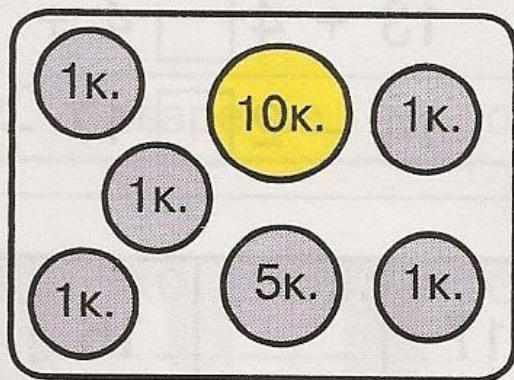
7 У мамы было 19 кусков сахара. 3 куска она положила в кашу, а 5 кусков – в компот. Сколько кусков сахара осталось у мамы?

8 $x - 5 = 13$


$$16 - x = 3$$

$$x + 12 = 17$$

9 Вот деньги, которые лежат в кошельке у Пети:








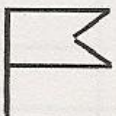










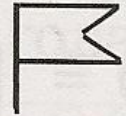

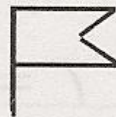



А вот деньги, которые есть у Игоря:



У кого из мальчиков больше монет? У кого из них больше денег и на сколько?

10* Найди закономерность и заполни таблицу:

20 21 22 23

79 78 77 76

Δ 0 1 1 Δ 0 0 1 2 Δ 0 0 0 1 3

8

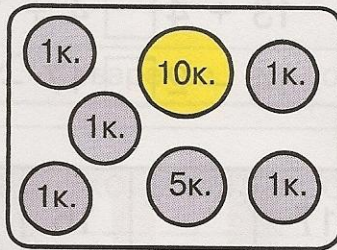
$x - 5 = 13$

$16 - x = 3$


$x + 12 = 17$

9

Вот деньги, которые лежат в кошельке у Пети:

























А вот деньги, которые есть у Игоря:



У кого из мальчиков больше монет? У кого из них больше денег и на сколько?

10*

Найди закономерность и заполни таблицу:

20 21 22 23