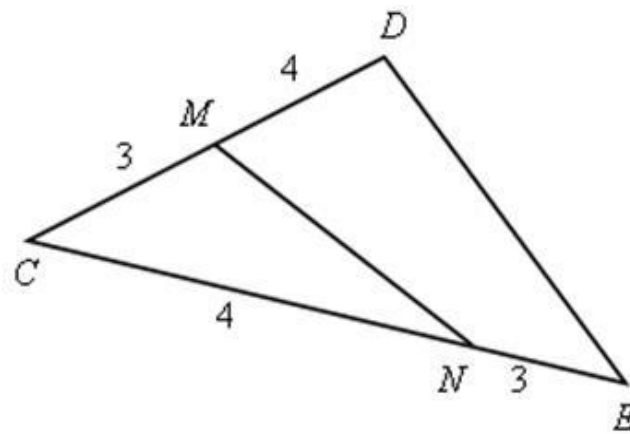
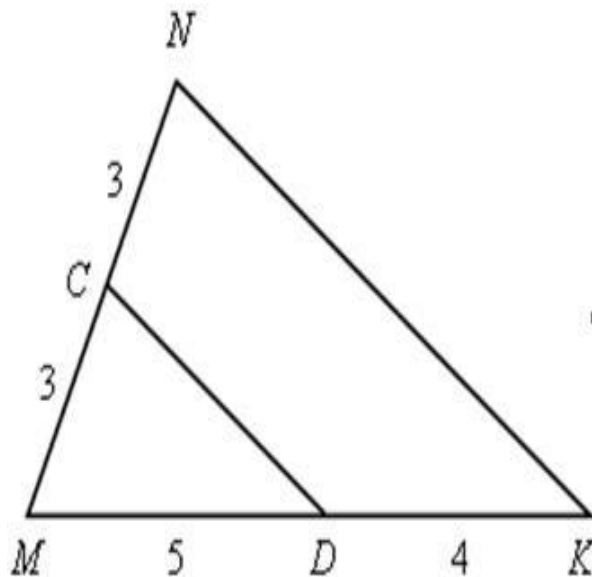
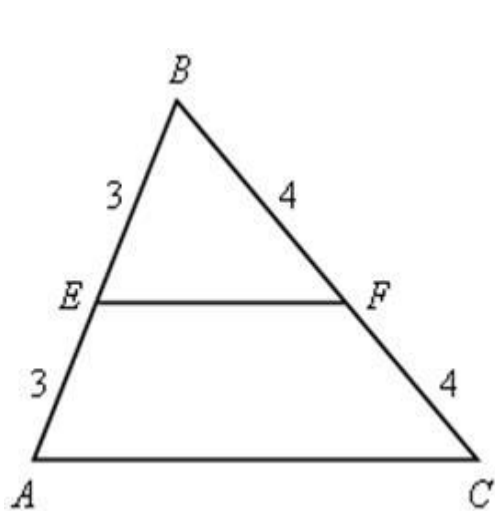


1) Какие из отрезков являются средними линиями треугольника?



2) Сколько средних линий можно провести в треугольнике? Чему равен периметр полученного с помощью средних линий треугольника?

3)

a)  $DE = 4$  cm,  $AB = ?$

б)  $DC = 3$  cm,  $DE = 5$  cm,  $CE = 6$  cm,  
 $AB = ?$ ,  $BC = ?$ ,  $AC = ?$

