

The background features four white, classical-style columns with ornate capitals. In front of the columns are four lit torches on black stands, arranged in a 2x2 grid. The text 'Совет Мудрецов' is centered in a bold, blue, italicized font.

# Совет Мудрецов

Начать



The background features four white, classical-style columns with ornate capitals. In front of the columns, there are four lit torches on black stands, arranged in a 2x2 grid. The text 'Совет Мудрецов' is centered over the scene in a large, blue, italicized font.

# Совет Мудрецов

Начать





# Совет Мудрецов

Начать



Приведение дробей к наименьшему общему  
знаменателю

$$\frac{24}{450} = \frac{4}{75} \quad \frac{5}{18} = \frac{125}{450}$$


$$75 = 3 \cdot 5 \cdot 5$$


$$18 = 2 \cdot 3 \cdot 3$$

$$\text{НОК } (75; 18) = 75 \cdot 6 = 450$$

$\frac{1}{2}$	$\frac{1}{12}$	$\frac{1}{3}$	$\frac{1}{32}$
$\frac{1}{6}$	$\frac{1}{14}$	$\frac{1}{5}$	$\frac{1}{7}$
120	220	140	280

Πυθαγόρας ὁ  
Ἀριστοτέλης  
Σάμιος





Πυθαγόρας ὁ  
Σάμιος



Ἄριστοτέλης





Греческий земледелец Афанасий  
(греч. Ἀθανάσιος = „бессмертный“ )  
решил высадить на своем поле  
хлопчатник и сахарную свё<sup>5</sup>клу . Под  
хлопок он решил<sup>7</sup> отвести <sup>18</sup> частей  
поля, а под свеклу <sup>18</sup> части

Останет

а пог




Елена и София, придя к торговцу  
тканями, попросили отрезать кусок  
полотна  $\frac{5}{7}$  на платье:

«Отрежьте ровно  $\frac{3}{4}$ », - сказала Елена.

«Да, именно  $\frac{4}{7}$ », - сказала София.

«Но я не могу выполнить вашу  
просьбу!», - воскликнул торговец.

Почему торговец отказал Елене и




Петр и Фотий соревновались в беге на время. Петр пробежал  $\frac{7}{48}$  пути, а Фотий за  $\frac{8}{36}$  тоже время этого пути.



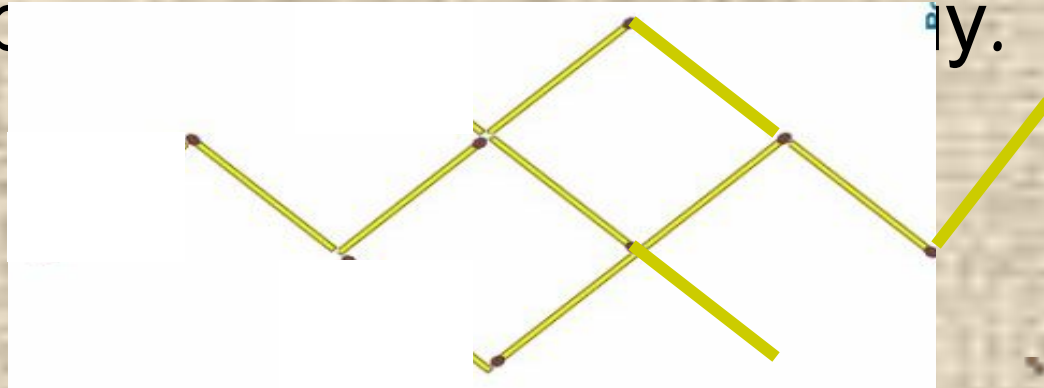
Кто пробежал большее расстояние?



Два греческих купца решили похвастаться своим золотом. У Кирилла скопилось  $2\frac{2}{3}$  мешка золота, а у Дионисия  $\frac{3}{4}$ . У какого купца золота больше?



Из спичек составлен жук, ползущий в  
вверх. Переставьте три спички таким  
образом, чтобы жук пополз в  
пр



Греческий ученик Покритий распланировал свой день:

$\frac{1}{6}$  часть суток – чтение умных книг;

$\frac{3}{8}$  части суток - совершение добрых дел;

$\frac{1}{12}$  часть суток - на прием пищи (завтрак, обед, ужин);

$\frac{2}{8}$  части суток – занятия спортом;

8 часов на сон.

Сможет ли Покритий выполнить свой план?



The background features four white, classical-style columns with ornate capitals. In front of these columns are four lit torches on black stands, arranged in two rows of two. The word 'МОЛОДЦЫ!' is centered in the foreground, with a color gradient from purple to red. A thin black horizontal line is visible behind the text.

МОЛОДЦЫ!

**Сегодня на уроке мне понравилось...**

**Сегодня на уроке я повторил...**

**Сегодня на уроке я поставил себе оценку ...**

**Какие виды работ вызвали затруднения и  
требуют повторения...**

**В каких знаниях уверен...**

**Помог ли урок продвинуться в знаниях,  
умениях, навыках по предмету...**



# Спасибо, до новых встреч!

*«Я слышу, и я ЗАБЫВАЮ.  
Я вижу, и я ПОМНЮ.  
Я ДЕЛАЮ, и я ПОНИМАЮ»*

*Конфуций*

