



№1

Какая часть улицы предназначена для пешеходов?

0


- а) тротуар,
- б) проезжая часть между трамвайными путями,
- в) мостовая.

Неверно

1 2 3 4 5 6 7 8 9 10



№2



При каком сигнале светофора можно переходить улицу?

- а) при жёлтом,
- б) при красном,
- в) при зелёном.



Неверно

1 2 3 4 5 6 7 8 9 10



№3

Где должны ходить пешеходы при
отсутствии тротуара?

- а) по правой стороне обочины,
- б) по левой обочине, навстречу движению транспорта,
- в) по правому краю дороги.

Неверно

1 2 3 4 5 6 7 8 9 10



№4

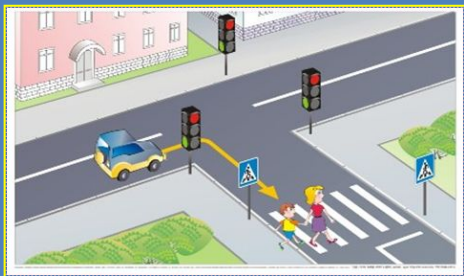
Как пешеходы должны ходить по тротуару?



- а) придерживаться левой стороны,
- б) придерживаясь правой стороны, не мешать другим,
- в) по правому краю дороги,
- г) как хочешь.

Неверно

1 2 3 4 5 6 7 8 9 10



№5

Как вы должны поступать, если во время перехода перекрёстка зелёный сигнал светофора сменился на жёлтый?

- а) остановиться на осевой линии,
- б) быстро перебежать
- в) вернуться на тротуар,

Неверно

1 2 3 4 5 6 7 8 9 10



№6

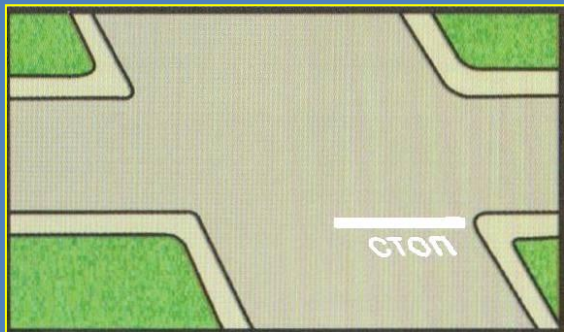


Вы вышли из автобуса на загородной дороге и вам нужно перейти её. Как вы перейдёте дорогу?

- а) обойдёте стоящий автобус сзади,
- б) обойдёте стоящий автобус спереди,
- в) дождётесь, когда автобус отойдёт, и проезжая часть будет хорошо просматриваться в обе стороны.

Неверно

1 2 3 4 5 6 7 8 9 10



№7

Как называется место, где
пересекаются улицы?

- а) тротуар,
- б) проезжая часть,
- в) перекресток.

Неверно

1 2 3 4 5 6 7 8 9 10



№8



Где можно играть в различные игры?



- а) на проезжей части,
- б) только в специально отведенном месте,
- в) на тротуаре.

Неверно

1 2 3 4 5 6 7 8 9 10




№9

По какой стороне проезжей части движется транспорт?

- а) по левой,
- б) по правой.

Неверно

1 2 3 4 5 6 7 8 9 10



№10

Что обозначает сочетание красного и желтого сигналов светофора?

- а) движение запрещено, но скоро будет включен зеленый свет,
- б) можно переходить дорогу.

Неверно

1 2 3 4 5 6 7 8 9 10