

Деление на 3

Урок № 130



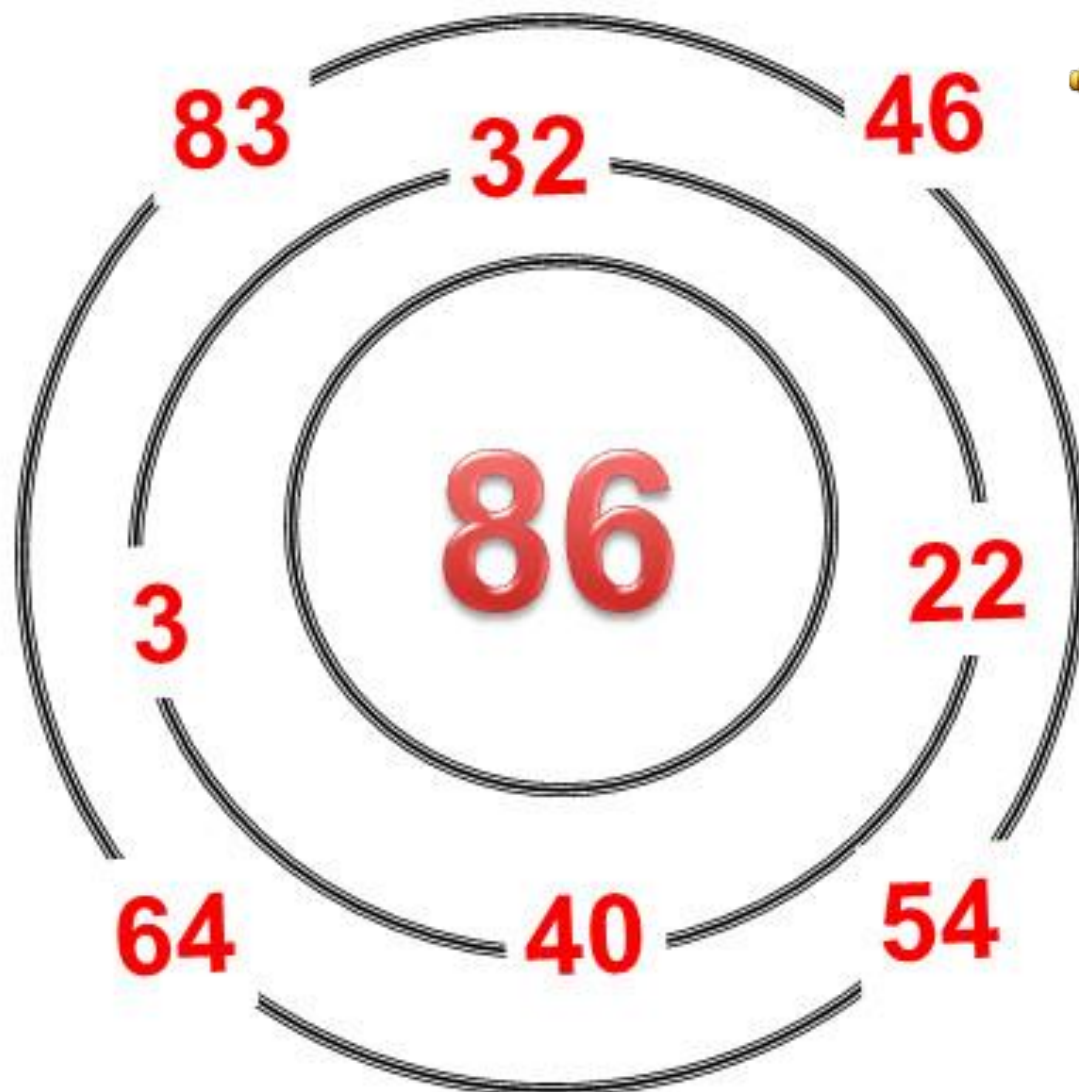
Школа России
Математика 2 класс





Устный счёт

Пройди через двое ворот и набери нужные числа.





$$12 : 3$$

$$27 : 3$$

$$13 : 4$$

$$21 : 7$$

$$15 : 5$$

$$24 : 8$$

$$30 : 3$$

$$27 : 9$$

$$9 : 3$$

Прочитай примеры. Назови ответы.

Вырази в новых единицах.



$$2 \text{ м} = \underline{\quad} \text{ дм}$$

$$3 \text{ дм} = \underline{\quad} \text{ см}$$

$$3 \text{ дм } 4 \text{ см} = \underline{\quad} \text{ см}$$

$$6 \text{ м } 7 \text{ дм} = \underline{\quad} \text{ дм}$$

$$8 \text{ см } 6 \text{ мм} = \underline{\quad} \text{ мм}$$

$$47 \text{ см} = \underline{\quad} \text{ дм } \underline{\quad} \text{ см}$$

За 1 час упаковали в коробки **20** штук меховых тапочек-собачек. Сколько пар тапочек упаковали за час?



$$20 : 2 = 10 \text{ пар}$$

10 пар



Папа подарил сыновьям наборы отверток, по 8
штук в

каждом. Сколько отверток в 3 наборах?

$$8 \cdot 3 = 24 \text{ штуки}$$



24



В одном аквариуме **20** рыбок, в другом **13** рыбок, а в третьем огромном – на **22** рыбки больше, чем в первых



двух вместе. Сколько рыбок в третьем аквариуме?

$$20 + 13 + 22 = 55 \text{ (р.)}$$



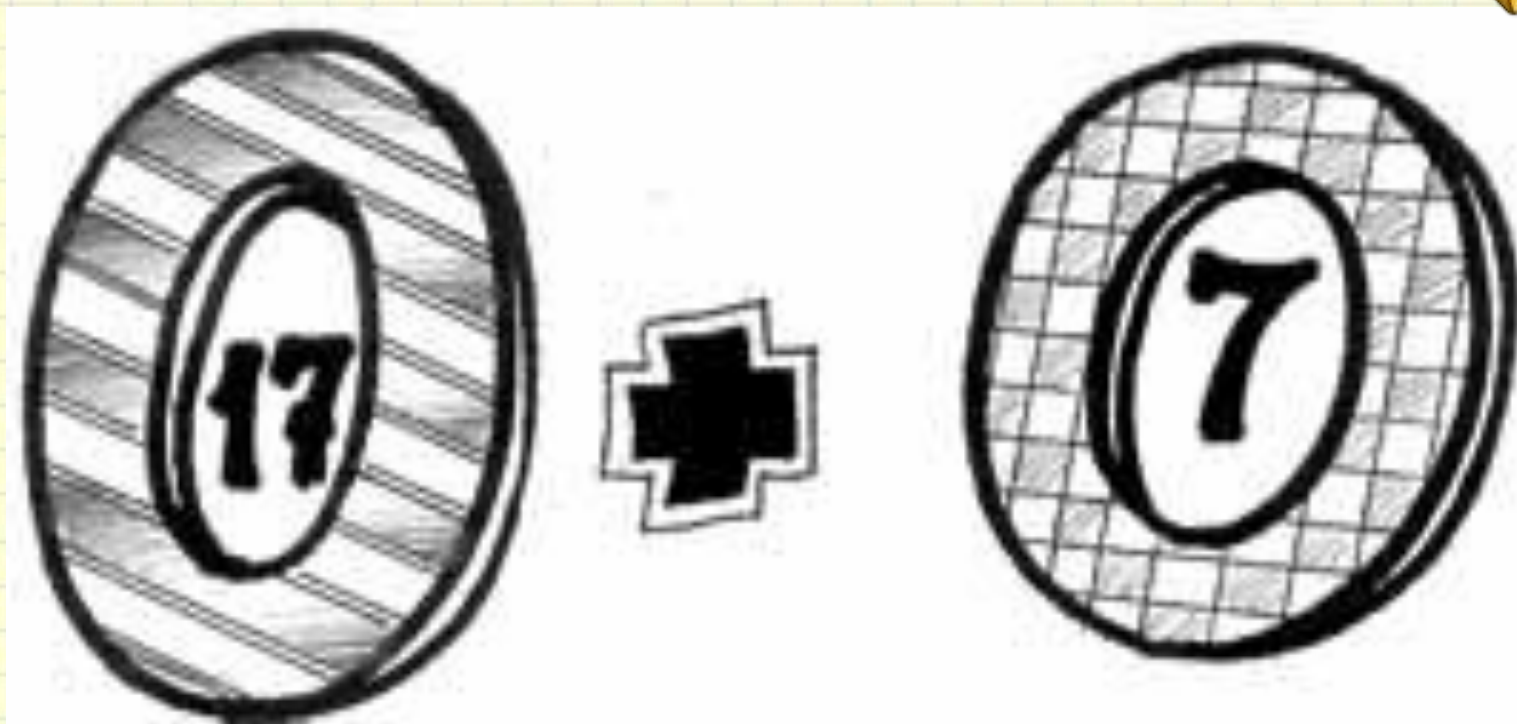
55

рыбок

Задания на смекалку



Разгадайте ребус и выполните указанное действие.



В о семнадцать + в о семь = 18 + 8 =

26.


Длина бревна **5 м**. В одну минуту от него отпиливают по одному метру. За сколько минут будет распилено всё бревно?



за 4 минуты

Физкультминутка

Ёж спешил к себе домой,
Нёс запасы он с собой.
Через кочки он скакал,
Быстро по лесу бежал.
Вдруг он сел и изменился,
В шарик круглый превратился.
А потом опять вскочил
И к детишкам поспешил.




Тренажёр Деление на

3

Выбери
еду
для
зайчишки.






$$25 + 12:3$$



$$78 - 18:3$$



72

A green cabbage with a white square containing the number 72 in red text.

73


A brown potato with a white square containing the number 73 in red text.

68




A red carrot with green leaves and a white square containing the number 68 in red text.

$$40 + 15 : 3$$






$$90 - 9:3$$





$$43 - 15:3$$






$$19 + 6:3$$






$$50 - 12:3$$






$$80 - 18:3$$





$$11 + 30 : 3$$






$$78 - 18:3$$





$$62 + 12:3$$



Конец