

ПДД

---

*Экзаменационные билеты*  
*Раздел 9 Применение специальных*  
*сигналов*

# Билет № 1

В каком случае Вам запрещается выполнять обгон транспортного средства, имеющего нанесенные на наружные поверхности специальные цветографические схемы?

- ➔ 1. При включении на нем проблесковых маячков синего (синего и красного) цвета и специального звукового сигнала.
- 2. Только при включении на нем проблесковых маячков синего (синего и красного) цвета.
- 3. В обоих перечисленных случаях.

**Звук должен быть!**



Комментарий к задаче




Правильный ответ 1

Запрещается обгон ТС, имеющего нанесённые на наружные поверхности специальные цветографические схемы, если у него включены проблесковый маячок синего цвета (проблесковые маячки синего и красного цветов) и специальный звуковой сигнал (пункт 3.2 ПДД РФ).

## Билет № 2

В каком случае водитель автомобиля имеет преимущество перед другими участниками движения?

1. Только при включенном проблесковом маячке синего или бело-лунного цвета.
2. Только при включенном проблесковом маячке оранжевого или желтого цвета.
-  3. Только при включенных проблесковом маячке синего (синего и красного) цвета и специальном звуковом сигнале.
4. Во всех перечисленных случаях.

Звук должен быть!!!



Комментарий к задаче



Правильный ответ 3

Водитель автомобиля имеет преимущество перед другим участником дорожного движения, если на его автомобиле включены проблесковый маячок синего цвета (проблесковые маячки синего и красного цветов) и специальный звуковой сигнал (пункт 3.1 ПДД РФ).

# Билет № 3



Обязаны ли Вы уступить дорогу автомобилю «Скорой медицинской помощи» с выключенным проблесковым маячком?

- 1. Да.
- 2. Нет.



Комментарий к задаче



**Правильный ответ 2**

ПДД РФ не обязывают уступить дорогу ТС с выключенным проблесковым маячком синего цвета (раздел 03 ПДД РФ).

# Билет № 4



**Как в данной ситуации должен поступить водитель легкового автомобиля при приближении автомобиля оперативной службы?**

- ➡ 1. Перестроиться на правую полосу и продолжить движение.  
2. Остановиться справа у тротуара.



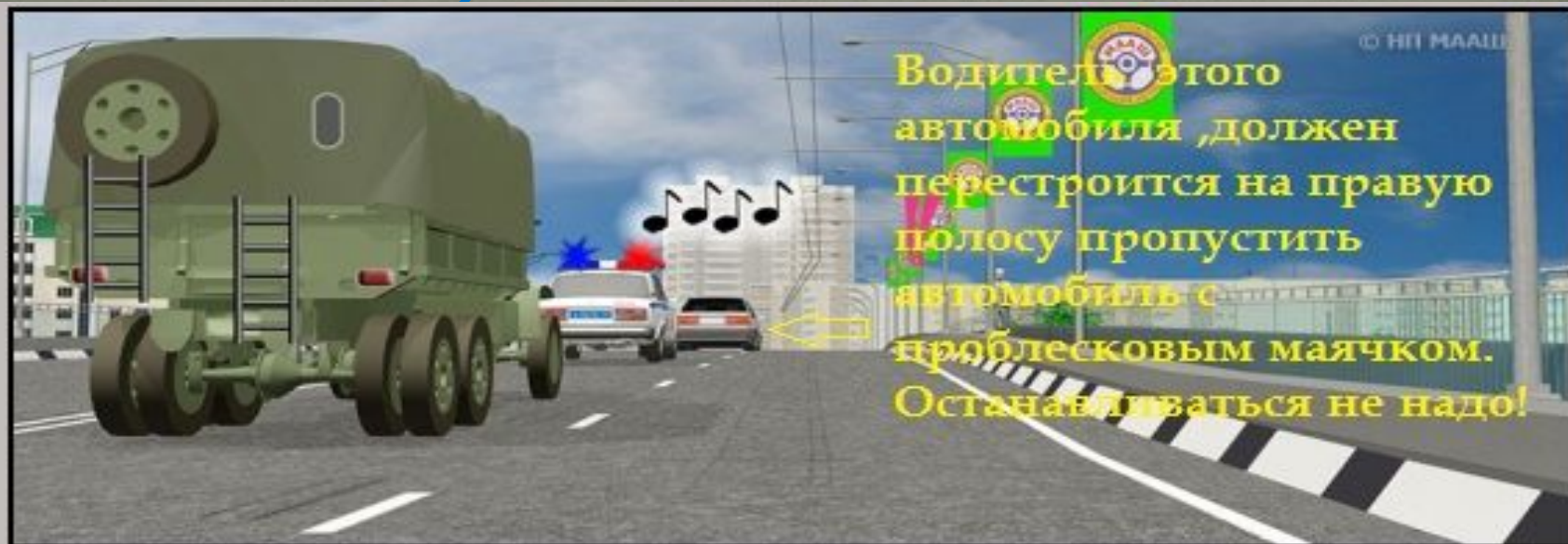
Комментарий к задаче



**Правильный ответ 1**

При приближении ТС с включённым проблесковым маячком синего цвета и специальным звуковым сигналом водитель обязан уступить дорогу для обеспечения беспрепятственного проезда указанного ТС (пункт 3.2 ПДД РФ).

# Билет № 5



Как в данной ситуации должен поступить водитель легкового автомобиля при приближении автомобиля оперативной службы, сопровождающего колонну?

- ➔ 1. Перестроиться на правую полосу и продолжить движение.  
2. Остановиться у тротуара и продолжить движение сразу же после проезда автомобиля оперативной службы.  
3. Остановиться у тротуара и продолжить движение только после проезда замыкающего колонну транспортного средства.

Комментарий к задаче




**Правильный ответ 1**

При приближении автомобиля оперативной службы, сопровождающего колонну, водитель легкового автомобиля должен перестроиться на правую полосу и может продолжить движение (пункт 3.2 ПДД РФ).

# Билет № 6



**Как Вы должны поступить в данной ситуации?**

-  **1. Снизить скорость и быть готовым в случае необходимости незамедлительно остановиться.**
- 2. Продолжить движение, не изменяя скорости.**
- 3. Остановиться около автомобиля ДПС и продолжить движение только после разрешения сотрудника полиции.**



Комментарий к задаче




**Правильный ответ 1.**

Приближаясь к стоящему ТС с включённым проблесковым маячком синего цвета, водитель должен снизить скорость, чтобы иметь возможность немедленно остановиться в случае необходимости (пункт 3.3 ПДД РФ).

# Билет № 7



**В каких направлениях может продолжить движение водитель автомобиля с включенным проблесковым маячком?**

1. Только направо.
2. Только прямо или направо.
-  3. В любом.



Комментарий к задаче



**Правильный ответ 3**

Водитель ТС с включённым проблесковым маячком синего цвета, выполняя неотложное служебное задание, может отступать от требований некоторых разделов ПДД РФ (пункт 3.1 ПДД РФ). На перекрёстке водитель автомобиля с включённым проблесковым маячком синего цвета может продолжить движение в любом направлении, убедившись, что ему уступают дорогу.