


ТЕМА: «ЗАКРЕПЛЕНИЕ ЗНАНИЯ ИЗУЧЕННЫХ ТАБЛИЦ СЛОЖЕНИЯ И ВЫЧИТАНИЯ»





**ПУТЕШЕСТВИЕ К ГЕРОЯМ
МУЛЬТФИЛЬМОВ**

Поиск закономерностей

Проследи, как получается каждое следующее число и назови в каждый ряд ещё по 1 числу


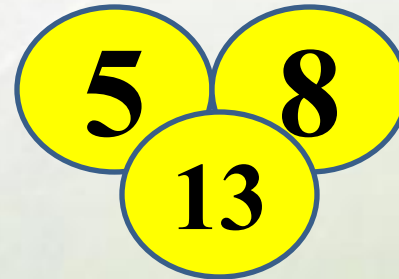
1) 0, 2, 4, 6, 8, **.10**

3) 1, 2, 4, 7, 11, **.16**

2) 1, 4, 7, 10, **.13**

4) 4, 8, 12, **.16**


Найдите связь между числами заполните свободные кружки



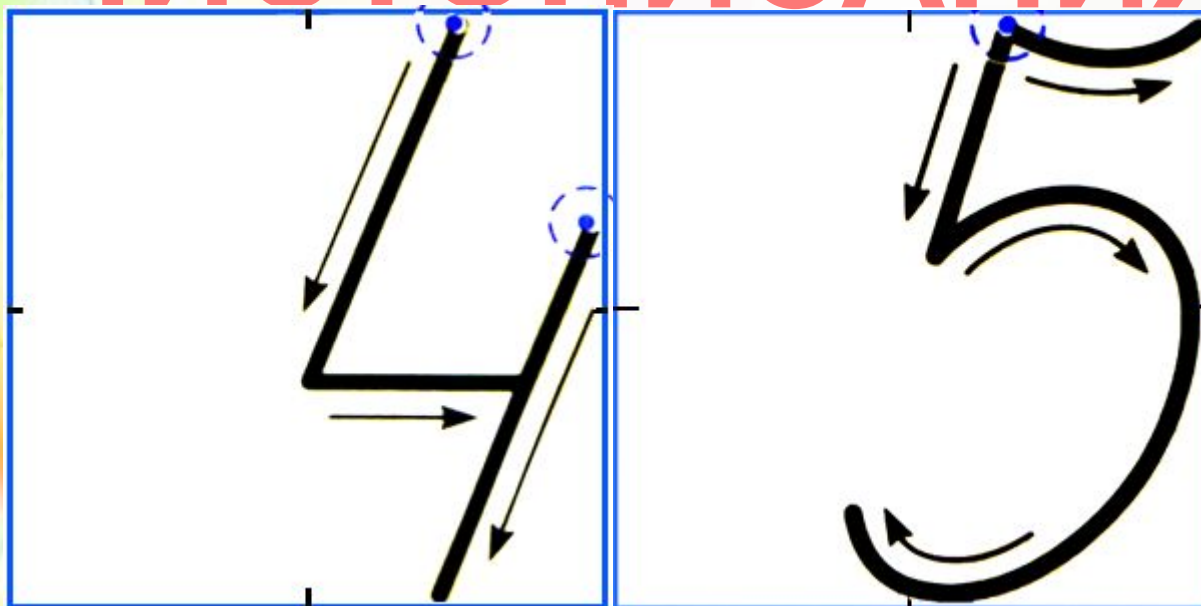
НАЙДИ СУММУ ВСЕХ ЧИСЕЛ

У С

КА



МИНУТКА ЧИСТОПИСАНИЯ



РЕШИТЕ ЦЕПОЧКУ

ПРИМЕРОВ

1 ряд $10+2+6-14+2+9=?$

2 ряд $14+5-(7+2)-4+5+4=?$

3 ряд $8+5-(11-9)+5-8+7=?$



МАТЕМАТИЧЕСКИЙ ДИКТАНТ

ΠΡΟΒΕΡ

ΚΑ

1 (+),

2 (+),

3 (-),

4 (+),

5 (+),

6 (-),

7 (+),

8 (+),

9 (-),

10 (+)

ФИЗМИНУТ КА

РАСШИФРУЙ

1 группа О 13-9 2 группа Т 7+5

Ш

8+6

СЛОВА

Я 9+6

Г 15-7

К 17-3

Ч 11-8

А 2+9

Е 2+9

О 7+9

Р 18-9

Ч 8+9

К 9+6

П 17-8

Шифр: 8, 4, 9, 14, 4, 3, 11, 15

Шифр: 9, 15, 12, 11, 17, 16, 14

3 группа

С 15-9

И 7+4

К 12-5

Т 7+7

О 8+4

Х 19-4

В 8+8

Шифр: 15, 16, 12, 6, 14, 11, 7







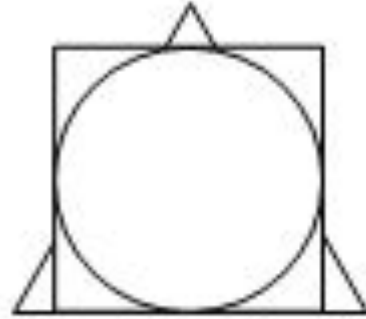
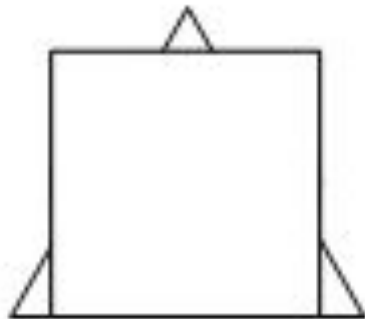
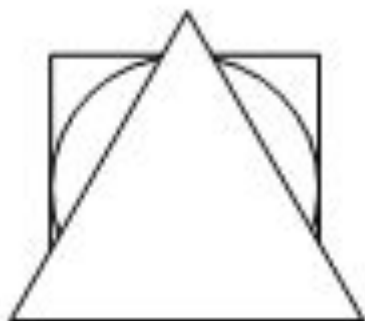
ВИННИ- ПУХ





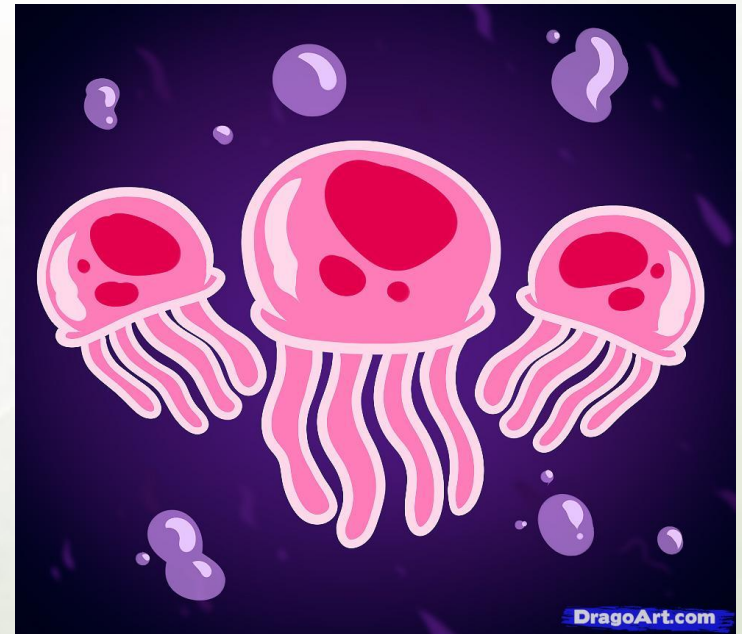
РЕШИТЬ
УРАВНЕНИЕ
 $X+5=55$
 $X-40=7$
 $56-X=50$

У Винни-Пуха, Пятачка и Кролика есть три одинаковых квадрата, три одинаковых треугольника и три одинаковых круга. Винни-Пух положил на пол треугольник, на него – квадрат, а сверху – круг. Пятачок положил сначала квадрат, на него положил круг, сверху – треугольник. Кролик положил треугольник, на него круг, а сверху квадрат.



РЕШИ ЗАДАЧУ

**Утром Губка Боб
выловил 12 медуз
, а вечером на 5
медуз меньше.
Сколько всего
медуз выловил
Губка Боб?**



ПОМОГИТЕ!



**Помогите мне
проявиться!
Возьмите в руки
карандаши и
восстановите
картинку. Надо
двигаться в
порядке
возрастания от 1
до 100**





**Поставьте скобки,
чтобы равенства стали**

13-6-2=5

17-2+3=12

16-2+2=12

19-9+2=12

ПРОВЕР КА

$$(13-6)-2=5$$

$$17-(2+3)=12$$

$$16-(2+2)=12$$


$$(19-9)+2=12$$

Будь внимательным

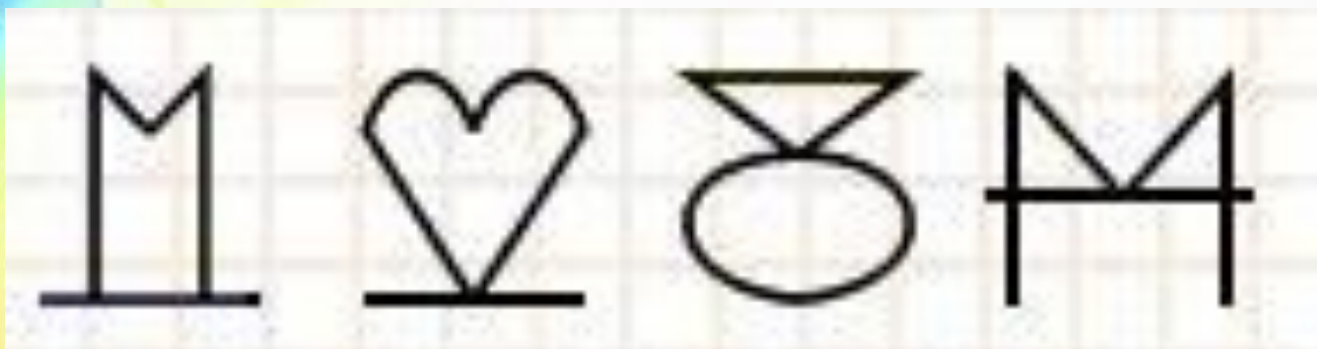
Сколько на чертеже различных треугольников?



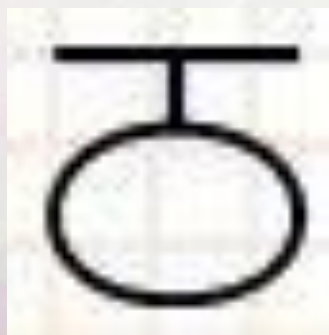
Проверь: 7 ▲



На четырёх рисунках изображены цифры от 1 до 4 вместе со своими зеркальными изображениями.



Каким будет следующий рисунок?





РЕФЛЕКС ИЯ

- всё понравилось и удалось на уроке

- было немного не уютно на уроке

- путешествие не понравилось



**СПАСИБО ЗА
УРОК!**

