

# Математика 4 класс

# «Расшифруй»: имя ученого физика, лауреата Нобелевской премии

Имя: (1;1) (2;2) (3;8) (1;2) (1;6) (2;7) (2;9)

Фамилия:

(3;9) (1;11) (2;4) (3;4) (2;9) (1;6) (1;11) (2;4)

# «Расшифруй»:

	1	2	3	4	5	6	7	8	9	10	11
1	А	Б	В	Г	Д	Е	Ё	Ж	З	И	Й
2	К	Л	М	Н	О	П	Р	С	Т	У	Ф
3	Х	Ц	Ч	Ш	Щ	Ъ	Ы	Ь	Э	Ю	Я

**Имя**

*(1;1) (2;2) (3;8) (1;2) (1;6) (2;7) (2;9)*


**учёного:**

*(3;9) (1;11) (2;4) (3;4) (2;9) (1;6) (1;11) (2;4)*

Ответ:

Альберт

Эйн



физик-теоретик,  
один из  
основателей  
современной  
теоретической  
физики, лауреат  
Нобелевской  
премии по  
физике 1921 года,  
общественный  
деятель-  
гуманист.

# ПОВТОРЕНИЕ ИЗУЧЕННОГО

- ВЫПОЛНИ КАРТОЧКИ ОТ УЧИТЕЛЯ НА УЧИ.ru

4 "И" 26 учеников

Математика

ПОВТОРЕНИЕ 29.04



UCHI.RU

# ВЫПОЛНИ ЗАДАНИЯ С ЗАПИСЬЮ В РАБОЧУЮ ТЕТРАДЬ

Выполните умножение.

$\begin{array}{r} 65 \\ \cdot 72 \\ \hline \end{array}$	$\begin{array}{r} 209 \\ \cdot 325 \\ \hline \end{array}$	$\begin{array}{r} 206 \\ \cdot 308 \\ \hline \end{array}$	$\begin{array}{r} 2107 \\ \cdot 9 \\ \hline \end{array}$
---	---	---	--

Выполните деление.

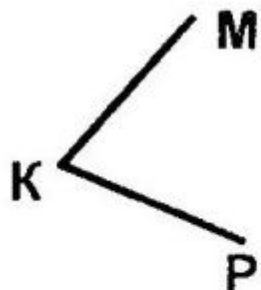
$47585 \overline{) 307}$	$120060 \overline{) 15}$	$871299$
--------------------------	--------------------------	----------

# ВЫПОЛНИ ЗАДАНИЯ С ЗАПИСЬЮ В РАБОЧУЮ ТЕТРАДЬ

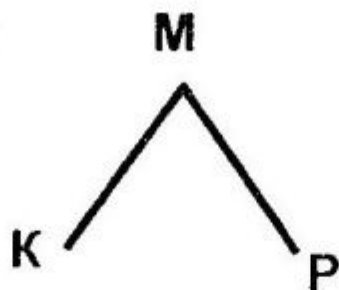
1 Для какого из углов верно обозначение  $\angle PMK$  ?

(ЛБ)

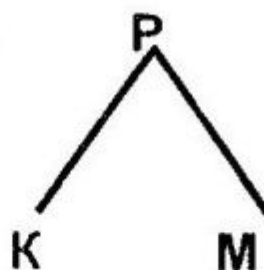
1)



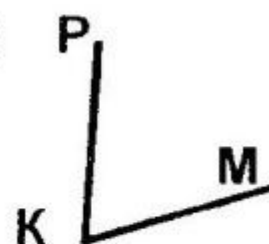
2)



3)

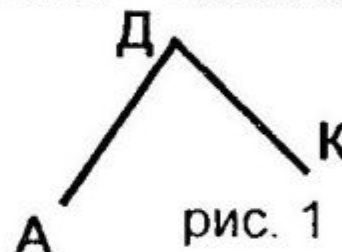


4)



2

Определите вид угла АДК (рис. 1)



(ЛБ)

1) прямой

2) тупой

3) острый

4) развернутый