

**B8.** Напишите название операции, представленной на схеме.

Ответ: \_\_\_\_\_

**B9.** Напишите имя полководца, который командовал войском, отмеченном на схеме цифрой «1».

Ответ: \_\_\_\_\_

**B10.** В году проводилась данная операция?

Ответ: \_\_\_\_\_

**B11.** Какие суждения, относящиеся к событию, обозначенному на схеме, являются верными. Выберите три суждения из шести предложенных. Запишите в таблицу цифры, под которыми они указаны.

- 1) операция состоялась во время наступления австрийских войск на северные земли Российской империи;
- 2) полководец, участвовавший в сражении, впоследствии воевал на стороне белых сил в годы Гражданской войны

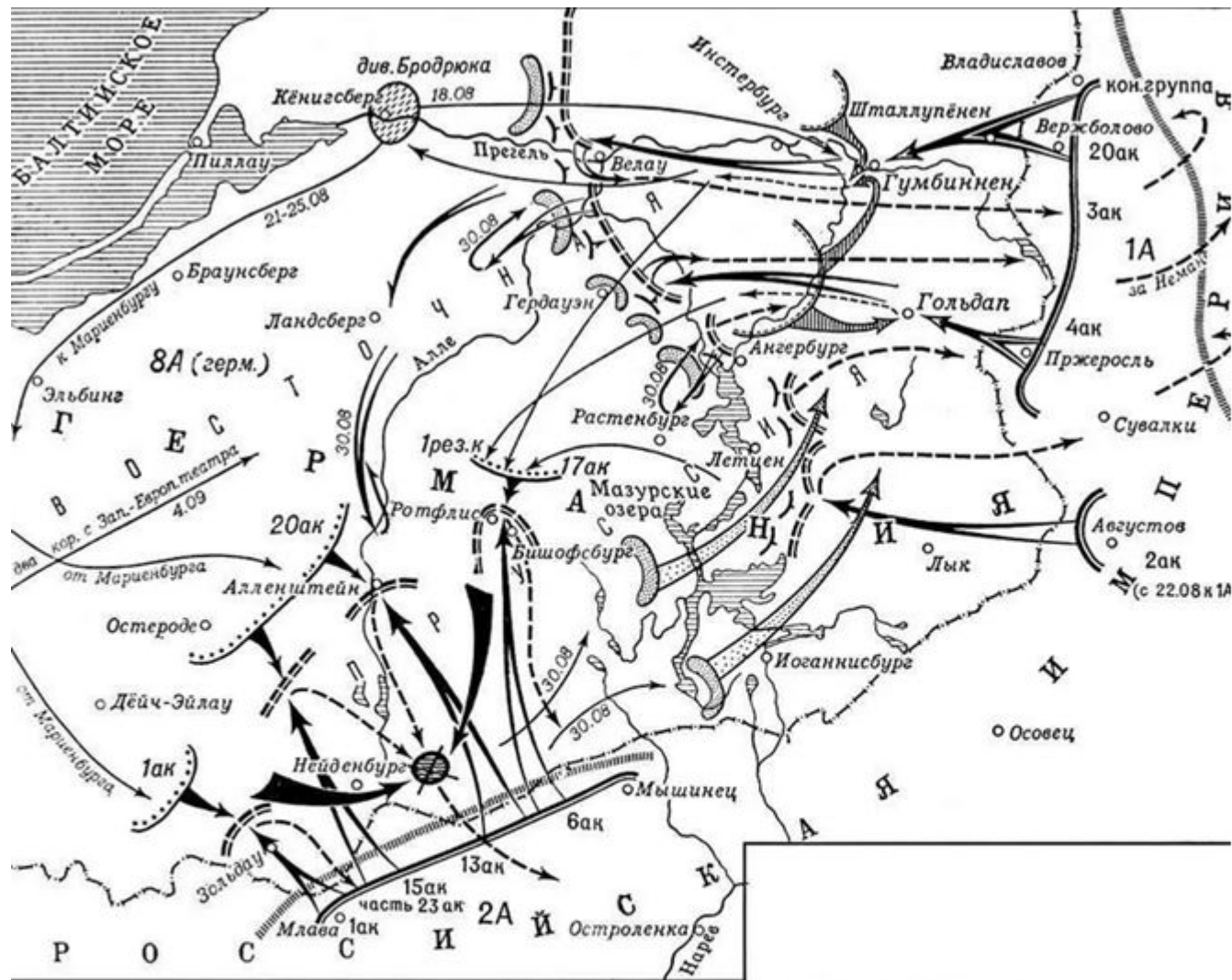
3) в ходе операции было нанесено тяжёлое поражение армии Германии, заняты Буковина и Восточная Галиция и было решено приступить к переговорам;





4) обязанности Верховного Главнокомандующего в это время исполнял Царь





5) наступательная операция на юго-западном фронте вынудила Германию перебросить часть войск с Западного фронта, что облегчило участь Вердена

6) в ходе операции было нанесено тяжёлое поражение армиям Австро-Венгрии, и заняты Буковина и Восточная Галиция





-  Положение русских войск к началу операции 17 августа
-  Наступление русских войск
-  Гумбиннен-Гольдапское сражение 20 августа
-  Положение сторон на 26 августа

-  Перегруппировка германских войск и сосредоточение их для действий против 2-й русской армии
-  Окружение части сил 2-й русской армии 29-30 августа
-  Положение и действия германских войск против 1-й русской армии в начале сентября
-  Линия фронта к концу операции 15 сентября





