

Задание 5 № 129. По окончании 9 класса общеобразовательной школы Костя поступил в 10 класс гимназии. Он с удовольствием учится, участвует в спектаклях гимназического театра. На какой ступени образования находится Костя?

- 1) основное общее образование
- 2) среднее общее образование
- 3) среднее профессиональное образование
- 4) дополнительное образование

Задание 5 № 36. Павел учится на втором курсе университета. Он играет в студенческом театре, нередко выступает в составе баскетбольной команды своего факультета. На какой ступени образования находится Павел?

- 1) среднее профессиональное
- 2) высшее профессиональное
- 3) основное общее
- 4) среднее общее

С 1 сентября 2013 г. в Российской Федерации устанавливаются следующие уровни общего образования:

- дошкольное образование;
- начальное общее образование;
- основное общее образование;
- среднее общее образование.

Профессиональное образование разделяется на следующие уровни:

- среднее профессиональное образование;
- высшее образование — бакалавриат;
- высшее образование — специалитет, магистратура;
- высшее образование — подготовка кадров высшей квалификации.

Задание 5 № 253. Виталий учится в 8 классе гимназии. Дополнительно он посещает секцию фигурного катания. На какой образовательной ступени находится Виталий?

- 1) среднее профессиональное образование
- 2) основное общее образование
- 3) среднее общее образование
- 4) начальное общее образование

Задание 5 № 346. Владимир учится в 6-м классе общеобразовательной школы. Он увлекается авиамоделированием и верховой ездой. На какой ступени образования находится Владимир?

- 1) начальное образование
- 2) основное общее образование
- 3) полное (среднее) образование
- 4) среднее профессиональное образование

Задание 21 № 207. Саше — 13 лет, Вале — 15 лет. Сравните правовой статус 13-летнего и 15-летнего подростков.

Выберите и запишите в первую колонку таблицы порядковые номера черт сходства, а во вторую колонку — порядковые номера черт отличия:

- 1) право совершать мелкие бытовые сделки;
- 2) возможность лично вносить вклады в кредитные учреждения и распоряжаться ими;
- 3) право распоряжаться своими доходами;
- 4) возможность получить наследство.

Черты сходства		Черты различия	

Задание 21 № 300. Учитель на уроке охарактеризовал черты рыночной и командной экономики. Сравните эти два типа экономических систем. Выберите и запишите в первую колонку таблицы порядковые номера черт сходства, а во вторую колонку — порядковые номера черт отличия:

- 1) решение проблемы ограниченности ресурсов;
- 2) многообразие форм собственности, в том числе частная собственность;
- 3) одним из факторов производства выступает труд;
- 4) что, сколько и в каком количестве производить, определяет государство.

Черты сходства		Черты различия	

Задание 21 № 393. В приведенном списке указаны черты сходства класса и нации и отличия класса от нации. Выберите и запишите в первую колонку таблицы порядковые номера черт сходства, а во вторую колонку — порядковые номера черт отличия:

- 1) занимает определенное место в системе производства;
- 2) складывается под влиянием объективных факторов;
- 3) относится к большим социальным группам;
- 4) принадлежность характеризует прирожденный статус личности.

Черты сходства		Черты различия	

Задание 21 № 548. В приведенном списке указаны черты сходства традиционного и индустриального общества и отличия традиционного общества от индустриального. Выберите и запишите в первую колонку таблицы порядковые номера черт сходства, а во вторую колонку — порядковые номера черт отличия:

- 1) развитие промышленности;
- 2) наличие норм общественной жизни;
- 3) признание прав и свобод граждан;
- 4) создание культурных ценностей.

Черты сходства		Черты различия	

Задание 22 № 456. Установите соответствие между типами политических режимов и их характеристиками: к каждому элементу, данному в первом столбце, подберите элемент из второго столбца.

ХАРАКТЕРИСТИКИ

- А) гарантии прав и свобод личности
- Б) власть единой массовой партии
- В) официальная обязательная идеология
- Г) политический плюрализм

ТИПЫ РЕЖИМОВ

- 1) демократический
- 2) тоталитарный

Запишите в строку ответов выбранные цифры под соответствующими буквами.

А	Б	В	Г

Задание 22 № 1289. Установите соответствие между видами потребностей человека, выделенных А. Маслоу, и их конкретными примерами: к каждому элементу, данному в первом столбце, подберите элемент из второго столбца.

ПРИМЕРЫ ПОТРЕБНОСТЕЙ

- А) забота о другом человеке и внимание к себе
- Б) потребность в общении с другими людьми
- В) уважение, высокая оценка со стороны других
- Г) потребность в жилище, отдыхе
- Д) стремление к сохранению собственного достоинства

ВИДЫ ПОТРЕБНОСТЕЙ

- 1) Социальные
- 2) Престижные
- 3) Биологические

Запишите в ответ цифры, расположив их в порядке, соответствующем буквам:

А	Б	В	Г	Д

Задание 22 № 1320. Установите соответствие между органами государственной власти в Российской Федерации и их полномочиями. К каждому элементу, данному в первом столбце, подберите элемент из второго столбца.

ПОЛНОМОЧИЯ ОРГАНОВ
ГОСУДАРСТВЕННОЙ ВЛАСТИ


- А) заслушивает ежегодные отчёты Правительства Российской Федерации о результатах его деятельности
- Б) осуществляет руководство внешней политикой Российской Федерации
- В) утверждает изменения границ между субъектами Российской Федерации
- Г) управляет федеральным имуществом
- Д) решает вопросы гражданства Российской Федерации и предоставления политического убежища
- Е) проводит финансовую, кредитную и денежную политику
- Ж) принимает Федеральные законы

ОРГАНЫ
ГОСУДАРСТВЕННОЙ
ВЛАСТИ

- 1) Президент
- 2) Правительство
- 3) Государственная дума
- 4) Совет Федерации

Задание 24 № 24. В странах Z и Y один из фондов изучения общественного мнения провёл среди совершеннолетних граждан опрос: «Доверяете ли Вы правоохранительным органам?».

Полученные результаты (в % от числа опрошенных) представлены в виде диаграммы.



Найдите в приведённом списке выводы, которые можно сделать на основе диаграммы, и запишите цифры, под которыми они указаны.

- 1) Доля тех, кто доверяет правоохранительным органам, потому что они защищают права и законные интересы граждан, в стране Z больше, чем в стране Y.
- 2) Доля тех, кто доверяет правоохранительным органам, так как там работают настоящие профессионалы, в стране Z ниже, чем в стране Y.
- 3) В стране Z более половины опрошенных доверяют правоохранительным органам, так как уверены в их профессионализме.
- 4) В стране Y одинаковые доли опрошенных относятся к правоохранительным органам с опасением и не доверяют им.
- 5) В стране Z большая часть опрошенных, по сравнению со страной Y, испытали трудности при ответе на поставленный вопрос.

Задание 24 № 55. В странах Z и Y один из фондов изучения общественного мнения провел среди совершеннолетних граждан опрос: «Доверяете ли Вы правоохранительным органам?».

Полученные результаты (в % от числа опрошенных) представлены в таблице.

Варианты ответа	% отвечавших	
	Страна Z	Страна Y
Доверяю, потому что они защищают права и законные интересы граждан	25	10
Доверяю, так как там работают настоящие профессионалы	30	15
Отношусь с опасением, так как их сотрудники не всегда соблюдают законы	20	35
Не доверяю	15	35
Затруднились ответить	10	5

Найдите в приведённом списке выводы, которые можно сделать на основе таблицы, и запишите цифры, под которыми они указаны.

- 1) Среди опрошенных страны Z доля тех, кто не доверяет правоохранительным органам, больше доли тех, кто относится к ним с опасением.
- 2) Среди опрошенных страны Y суммарная доля тех, кто доверяет правоохранительным органам, меньше доли тех, кто относится к ним с опасением.
- 3) Доля тех, кто доверяет правоохранительным органам, так как там работают настоящие профессионалы, в стране Y выше, чем в стране Z.
- 4) В стране Z только четверть опрошенных доверяют правоохранительным органам, потому что они защищают права и законные интересы граждан.
- 5) Равные доли опрошенных страны Y не доверяют правоохранительным органам и относятся к ним с опасением.

Задание 24 № 117. В 2002 и 2012 гг. в стране Z учёные проводили опросы общественного мнения. Совершеннолетним гражданам, участвующим в опросе, был задан вопрос: «Что Вы думаете об уплате налогов?».

Результаты опроса (в % от числа опрошенных) представлены в таблице.

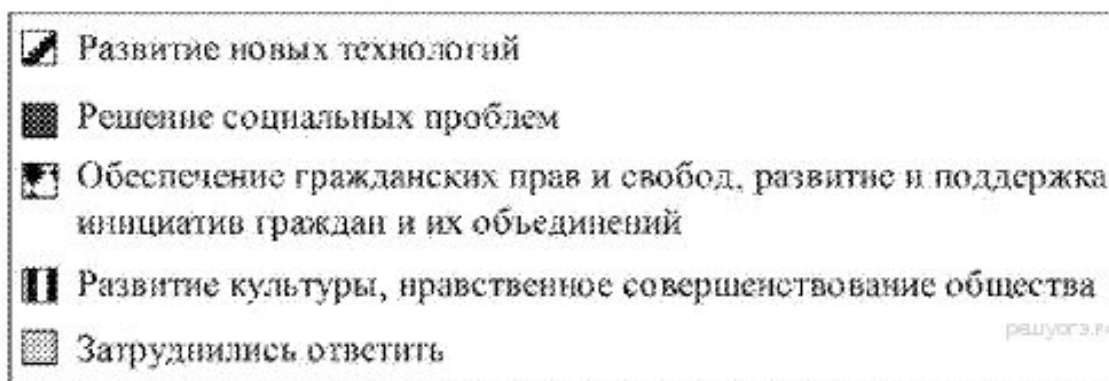
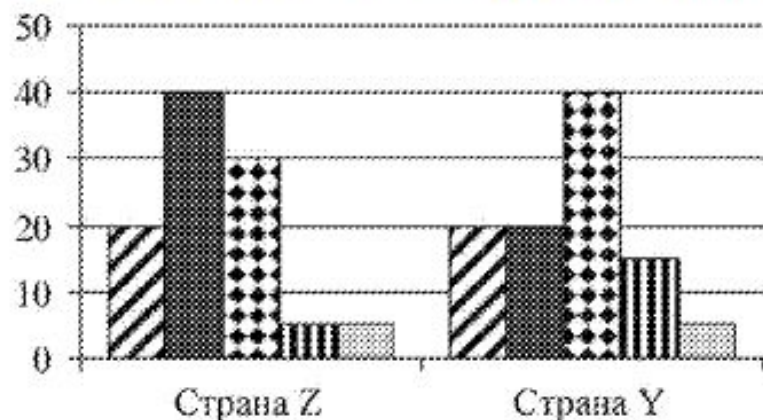
Варианты ответа	% отвечающих	
	2002 г.	2012 г.
Я плачу налоги, потому что это обязанность каждого гражданина	5	20
Я плачу налоги, потому что за их неуплату следует юридическая ответственность	10	15
Я плачу налоги, так как за счёт налоговых поступлений финансируется здравоохранение и образование	20	15
Я плачу налоги, так как их часть обеспечивает пенсии и социальные пособия	30	30
Я использую любую возможность уклониться от уплаты налогов	20	15
Я не буду платить налоги, пока правительство не наведёт порядок в полиции, здравоохранении, образовании	15	5

Найдите в приведённом списке выводы, которые можно сделать на основе таблицы, и запишите цифры, под которыми они указаны.

- 1) Доля тех, кто платит налоги, потому что это обязанность каждого гражданина, возросла за 10 лет.
- 2) Доля тех, кто платит налоги, потому что за их неуплату следует юридическая ответственность, к 2012 г. сократилась.
- 3) Доля тех, кто использует любую возможность уклониться от уплаты налогов, осталась неизменной в 2012 г. в сравнении с 2002 г.
- 4) Суммарная доля тех, кто платит налоги, выросла к 2012 г.
- 5) Доля тех, кто не будет платить налоги, пока правительство не наведёт порядок в полиции, здравоохранении, образовании, за 10 лет сократилась.

Задание 24 № 148. В 2013 г. в странах Z и Y один из фондов изучения общественного мнения провёл среди совершеннолетних граждан опрос: «Что, по Вашему мнению, сейчас важнее всего для развития Вашей страны?».

Полученные результаты (в % от числа опрошенных) представлены в виде диаграммы.



Найдите в приведённом списке выводы, которые можно сделать на основе диаграммы, и запишите цифры, под которыми они указаны.

- 1) Равные доли опрошенных обеих стран считают, что для страны важнее всего развитие новых технологий.
- 2) Равные доли опрошенных страны Y считают, что для страны важнее всего развитие технологий и решение социальных проблем.
- 3) Доля тех, кто считает, что для страны важнее всего обеспечение гражданских прав и свобод, развитие и поддержка инициатив граждан и их объединений, больше среди жителей страны Y, чем среди жителей страны Z.
- 4) Жители страны Z считают, что для страны развитие культуры, нравственное совершенствование общества важнее, чем обеспечение гражданских прав и свобод, развитие и поддержка инициатив граждан и их объединений.
- 5) Большинство жителей страны Y затруднились ответить на поставленный вопрос.

Задание 24 № 179. Учёные опросили 20-летних юношей и девушек страны Z. Им задавали вопрос: «В деятельности какой общественной организации (объединения, инициативной группы и т. п.) Вы могли бы безвозмездно принимать участие?».

Полученные результаты (в % от числа опрошенных) представлены в таблице.

Варианты ответа	% отвечающих	
	Юноши	Девушки
В экологической организации	20	30
В благотворительной организации, помогающей больным, бездомным	35	20
В организациях местного самоуправления	10	20
В профессиональных объединениях	10	10
В политической партии, политическом движении	20	10
Ни в какой	5	10

Найдите в приведённом списке выводы, которые можно сделать на основе таблицы, и запишите цифры, под которыми они указаны.

- 1) Девушки в большей степени готовы безвозмездно принимать участие в деятельности благотворительной организации, помогающей больным, бездомным, чем в деятельности экологической организации.
- 2) Равные доли опрошенных девушек готовы безвозмездно принимать участие в деятельности организаций местного самоуправления и в деятельности профессиональных объединений.
- 3) Доля тех, кто не готов безвозмездно принимать участие в деятельности ни одной общественной организации, больше среди девушек, чем среди юношей.
- 4) Юноши в большей мере готовы безвозмездно принимать участие в деятельности благотворительной организации, помогающей больным, бездомным, чем в деятельности политической партии.
- 5) Равные доли юношей готовы безвозмездно принимать участие в деятельности организаций местного самоуправления и в деятельности экологических организаций.

(А) С начала XXI века в стране Z проводится реформа государственной власти. (Б) По данным статистических исследований, доля граждан, в полной мере реализующих свои политические права и свободы, увеличилась вдвое. (В) Результаты преобразований, скорее всего, совпали с надеждами реформаторов.

Определите, какие положения текста:

- 1) отражают факты;
- 2) выражают мнения.

(А) Неправедливо платить одинаковую зарплату людям, работающим с разной производительностью. (Б) На некоторых фирмах сохраняется уравнительный подход к оплате труда. (В) При установлении зарплаты и премиальных выплат работодателю полезно было бы учитывать старательность работников, их отношение к делу.

Определите, какие положения текста:

- 1) отражают факты;
- 2) выражают мнения.

(А) Учёные-социологи провели среди горожан опрос: «Как Вы и Ваша семья участвуете в сохранении природной среды?». (Б) Для многих людей сохранение природной среды связано с озеленением своего населённого пункта и очисткой парков от мусора. (В) К сожалению, лишь немногие горожане используют экономичные бытовые электроприборы и сортируют бытовые отходы.

Определите, какие положения текста:

- 1) отражают факты;
- 2) выражают мнения.

(А) Человек своей хозяйственной деятельностью активно вторгается в природную среду. (Б) К сожалению, с возрастанием масштабов этой деятельности усиливается её отрицательное воздействие на природные процессы. (В) Человеку стоит серьёзно задуматься о том, как сберечь условия для своего существования.

Определите, какие положения текста:

- 1) отражают факты;
- 2) выражают мнения.

Задание 26 № 88. Составьте план текста. Для этого выделите основные смысловые фрагменты текста и озаглавьте каждый из них.

Каждое общество ценит определённые качества личности выше других, и дети усваивают и развивают эти качества благодаря социализации. Методы социализации зависят от того, какие именно качества личности ценятся выше, и в разных культурах они могут быть очень разными. В американском обществе высоко ценятся такие качества, как уверенность в себе, умение владеть собой и агрессивность; в Индии традиционно сложились противоположные ценности: созерцательность, пассивность.

Эти культурные ценности лежат в основе социальных норм. Нормами называются ожидания и стандарты, управляющие взаимодействием людей. Некоторые нормы представлены в законах, запрещающих воровство, нападение на другого человека, нарушение контракта и т. д. Такие законы являются социальными нормами, и те, кто нарушает их, подвергаются наказанию. На наше поведение в повседневной жизни воздействует множество ожиданий: мы должны быть вежливыми по отношению к другим людям; когда мы гостим в доме друга, следует сделать подарок для его семьи; в автобусе надо уступать места пожилым и инвалидам. Эти ожидания мы предъявляем и к нашим детям.

На поведение людей влияют не только нормы. Огромное воздействие на их поступки и стремления оказывают культурные идеалы данного общества. Кроме того, поскольку эти идеалы формируются на основе многих ценностей, общество избегает всеобщего единообразия. Например, мы ценим науку, поэтому имя Альберта Эйнштейна пользуется почётом и уважением. Мы также высоко ценим спорт, присваивая знаменитым спортсменам высокий социальный статус. <...>

Социализация — двусторонний, разнонаправленный процесс. Происходит взаимовлияние между биологическими факторами и культурой, а также между теми, кто осуществляет социализацию, и теми, кто социализируется.