

Урок № 110

Случаи вычитания

12 -

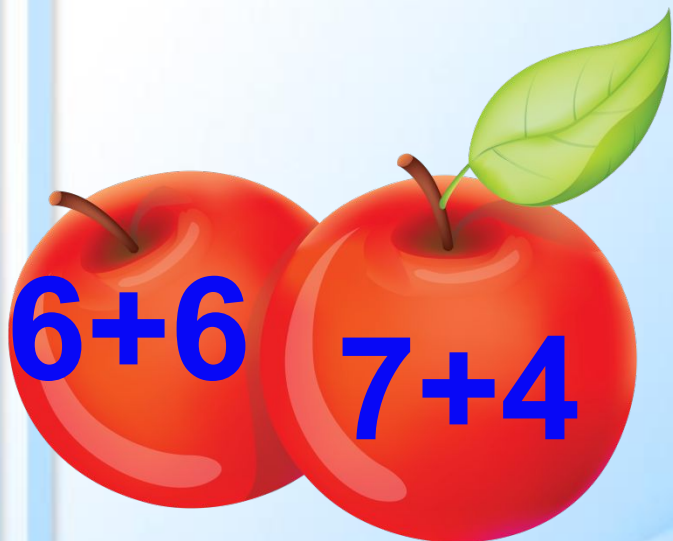
УСТНЫЙ СЧЁТ

$$2 + 2 =$$

$$6 - 4 =$$



Собери фрукты с ответом **11**.



Сосчитай примеры.



$$9 + 6 - 4 =$$

11

$$7 + 7 + 4 =$$

18

$$11 - 3 - 5 =$$

3

$$11 - 6 + 8 =$$

13

После того как съели 4 булочки, их осталось 9.
Сколько было булочек?



13 булочек

$$9 + 4 = 13$$



Аня с мамой к пасхе утром расписали **5** яиц, а днём на **3** больше. Сколько яиц они расписали днём?

8

$$5 + 3 = 8$$



Сколько всего яиц расписали Аня с мамой за день?

13

$$5 + 8 = 13$$



Андрей такого же возраста, как Гена, а Гена старше Максима. Кто младше: Андрей или Максим?

Максим



НОВЫЙ МАТЕРИАЛ

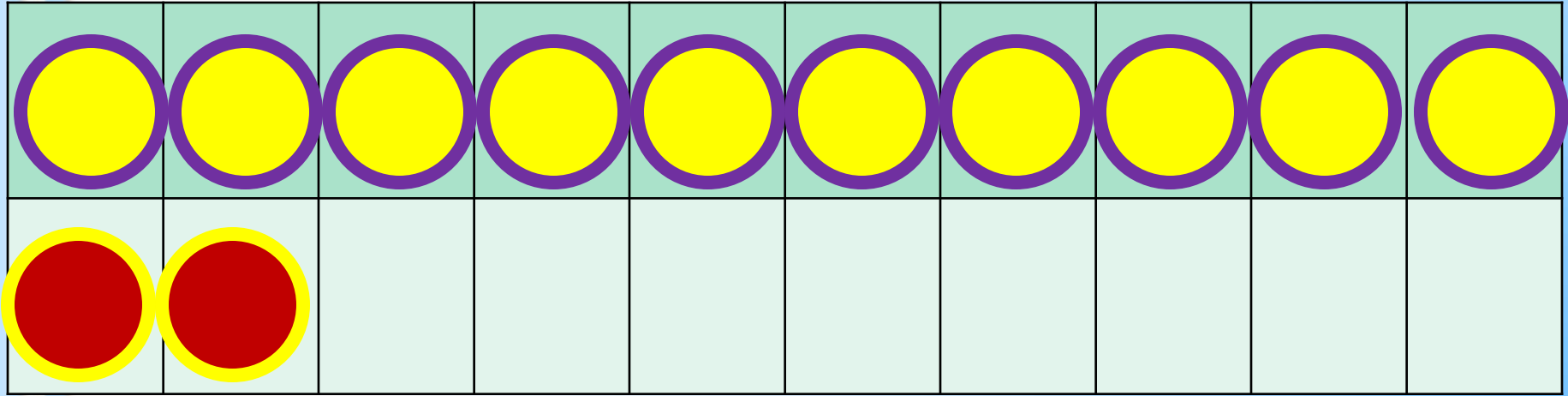


Состав числа 12



	9	8	7	6
12	3	4	5	6

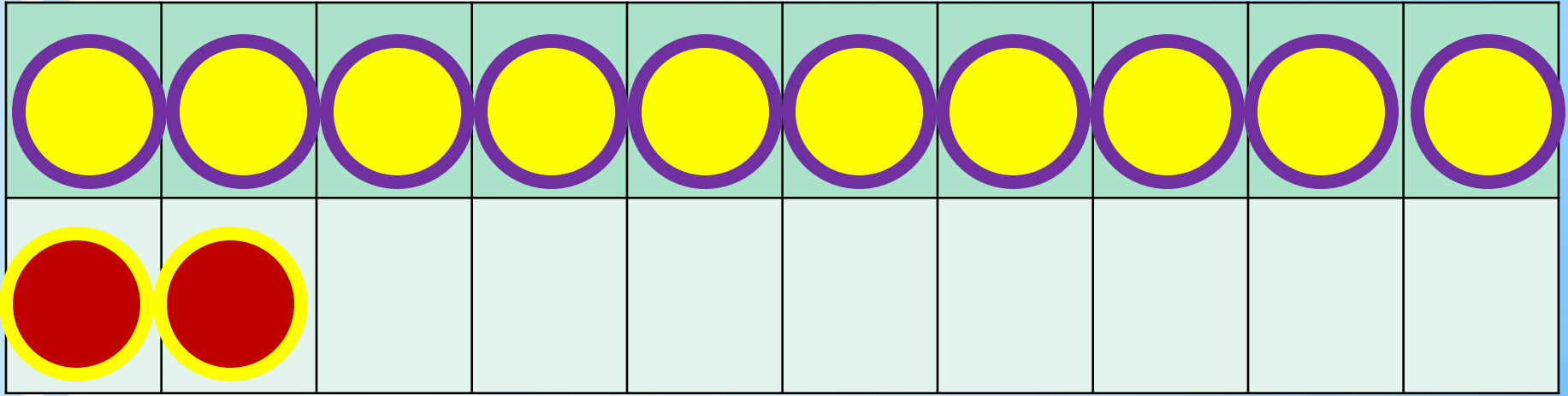
1 способ



2 способ

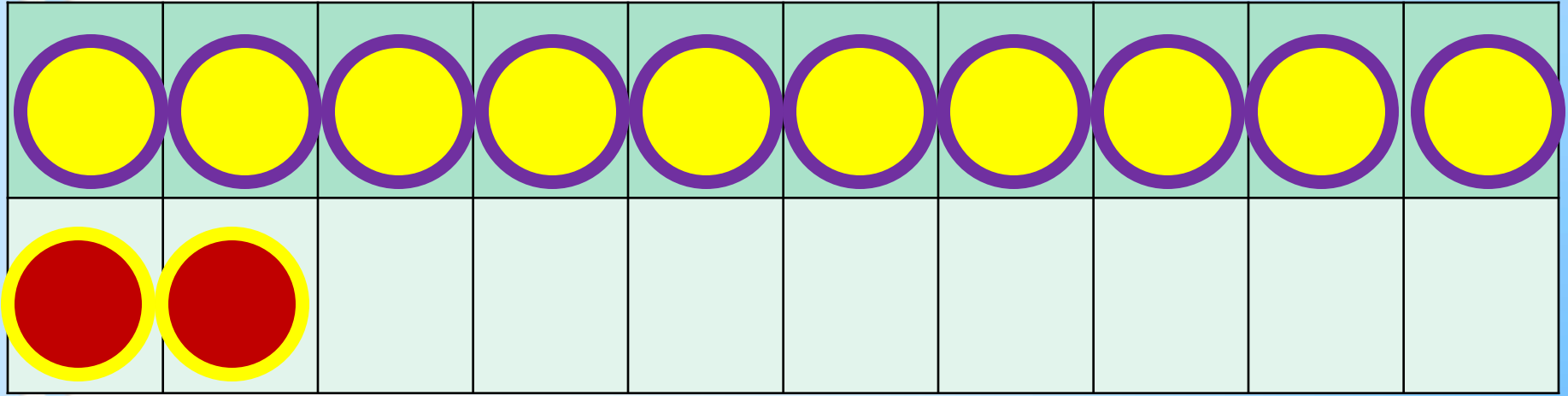
$$12 - 3$$

$$12 - 2 - 1$$



$$12 - 4$$

$$12 - 2 - 2$$



$$12 - 5$$

$$12 - 2 - 3$$

Заполни пропуски.




$$12 - 6 = 12 - 2 - \underline{\quad}$$

$$12 - 7 = 12 - 2 - \underline{\quad}$$

$$12 - 8 = 12 - 2 - \underline{\quad}$$

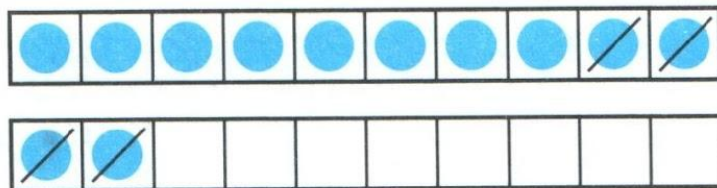
РАБОТА ПО УЧЕБНИКУ



Стр. 83

Объясни, как из числа 12 вычесть 4.

12	
3	
4	
5	
6	



$$\begin{array}{r} 12 - 4 \\ \hline 12 - 2 - 2 \end{array}$$

Вычисли и запомни.

$12 - 3$	$12 - 4$	$12 - 5$	$12 - 6$
$12 - 9$	$12 - 8$	$12 - 7$	



$$12 - \square$$



1. $7 = 2 + \square$ $6 = 2 + \square$ $8 = 2 + \square$

2. Объясни разные способы решения.

$$12 - 6 = 6$$



$$12 - 9 = 3$$



3. $12 - 2 - 3$ $13 - 3 - 5$ $8 + 7 - 10$
 $12 - 2 - 7$ $13 - 3 - 6$ $6 + 8 - 10$

4. Володе подарили два диска с играми. На одном диске 4 игры, а на другом — на 2 игры больше. Сколько всего игр на этих дисках?

5. На кассете 6 мультфильмов. Вчера дети посмотрели 3 из них, а остальные сегодня.

Поставь вопрос и реши задачу.

6. 1) Найди число, которое на 2 меньше, чем число 9; 10; 12; 2.

2) Найди число, которое на 3 больше, чем число 6; 9; 10; 0.

7. Коля выше Пети, но ниже Васи. Кто из них самый высокий? Кто из них ниже всех?



$$12 - 5 = \square$$

$$12 - 8 = \square$$

$$12 - 3 = \square$$



РАБОТА В ТЕТРАДИ

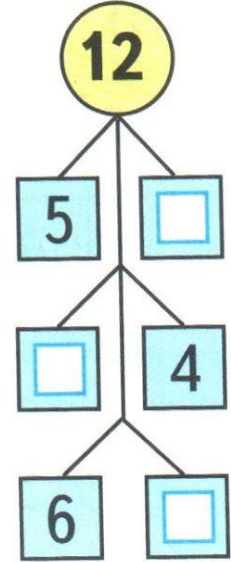
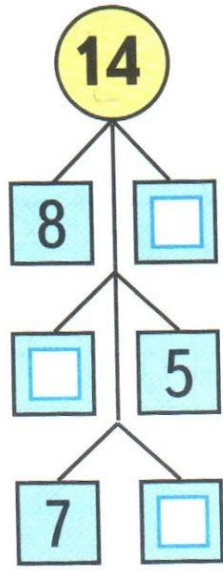
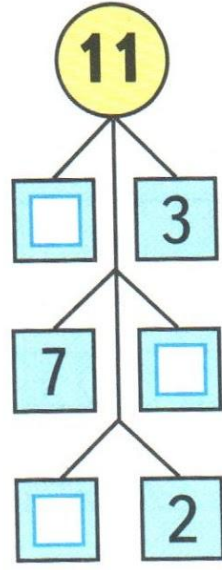
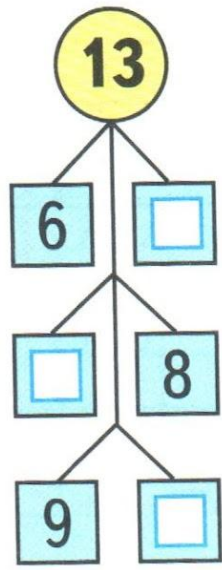


Стр. 42

$11 - \square$

$12 - \square$

1



2 Дима сделал 7 маленьких лодочек, а больших на 2 лодочки меньше, чем маленьких. Сколько всего лодочек сделал Дима?

Ответ:

1

8	4=12	5	2=7	10	2=8
11	3=8	9	3=6	12	5=7
10	4=6	7	6=13	13	3=10


⊕

2

На полке было 8 кукол и 11 колясок. Сколько кукол надо ещё поставить на полку, чтобы кукол и колясок стало поровну?

Ответ:

ЗАДАНИЯ ПОВЫШЕННОЙ ТРУДНОСТИ



Одно яйцо варят **4** минуты. Сколько минут надо варить 10 яиц?

4 МИНУТЫ



В комнате стояло **10** стульев, на которых сидели **10** мальчиков. Вошли **10** девочек, и им всем нашлось по стулу. Как это могло случиться?



Мальчики встали.

КОНЕЦ