

**Географическая
шпаргалка
2021-2022**

1. Что из перечисленного ниже находится в России?

- самая протяжённая река в мире
- самое глубокое озеро в мире
- самая высокая горная вершина в мире
- самый высокий водопад в мире
- Нил
- Байкал
- Эверест
- Анхель

2. Вставьте название государства на место пропуска

Одним из приграничных субъектов РФ является Смоленская область, которая имеет выход к Государственной границе РФ с Беларусь.

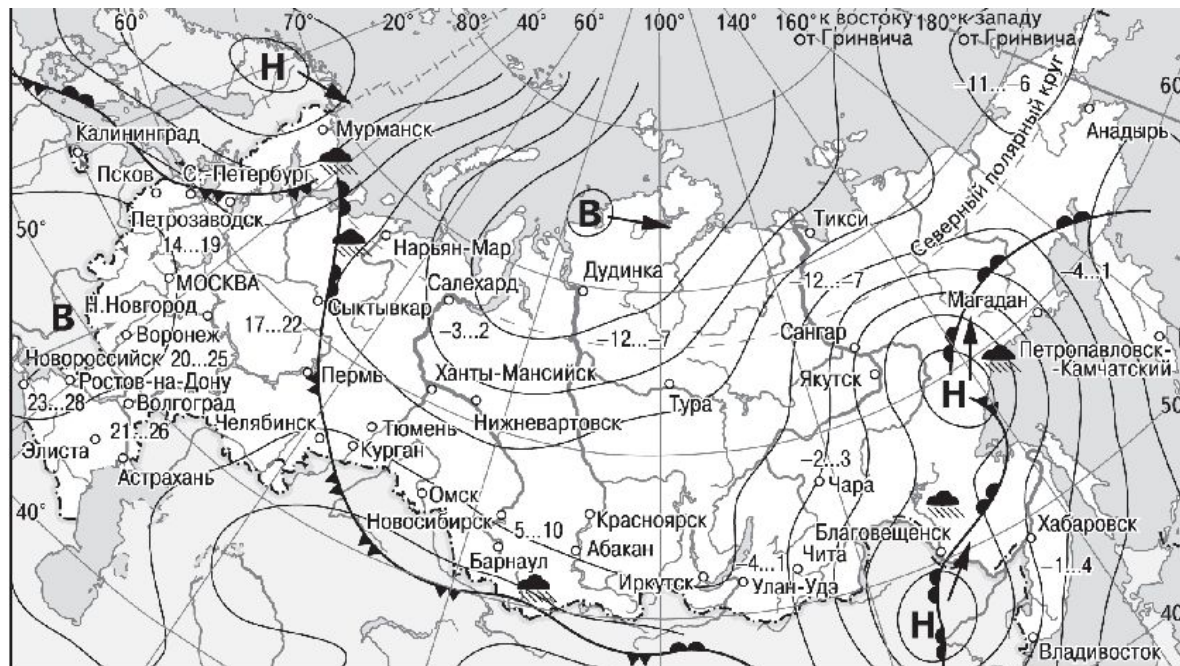
Одним из приграничных субъектов РФ является Амурская область, которая имеет выход к Государственной границе РФ с Китай.

Одним из приграничных субъектов РФ является Республика Тыва, которая имеет выход к Государственной границе РФ с Монголия.

4 ФЕДЕРАТИВНОЕ УСТРОЙСТВО



3. Какой из перечисленных городов, показанных на карте, находится в зоне действия циклона?



В Область высокого атмосферного давления


Н Область низкого атмосферного давления

→ Направление перемещения циклонов и антициклонов

 Тёплый атмосферный фронт

 Холодный атмосферный фронт

14...19 Температура воздуха (°C)

 Дождь

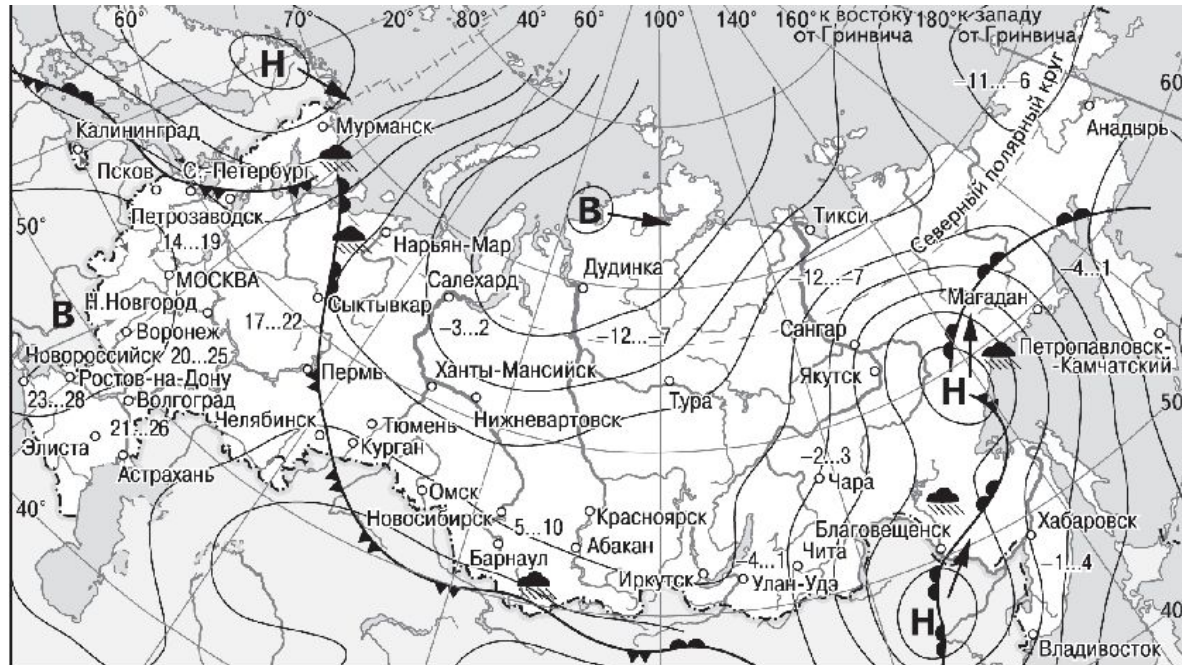
1) Новороссийск

2) Салехард

3) Благовещенск

4) Тюмень

4. Карта погоды составлена на 27 апреля. В каком из перечисленных городов, показанных на карте, на следующий день наиболее вероятно существенное потепление?



В Область высокого атмосферного давления

Н Область низкого атмосферного давления

→ Направление перемещения циклонов и антициклонов

— Тёплый атмосферный фронт

— Холодный атмосферный фронт

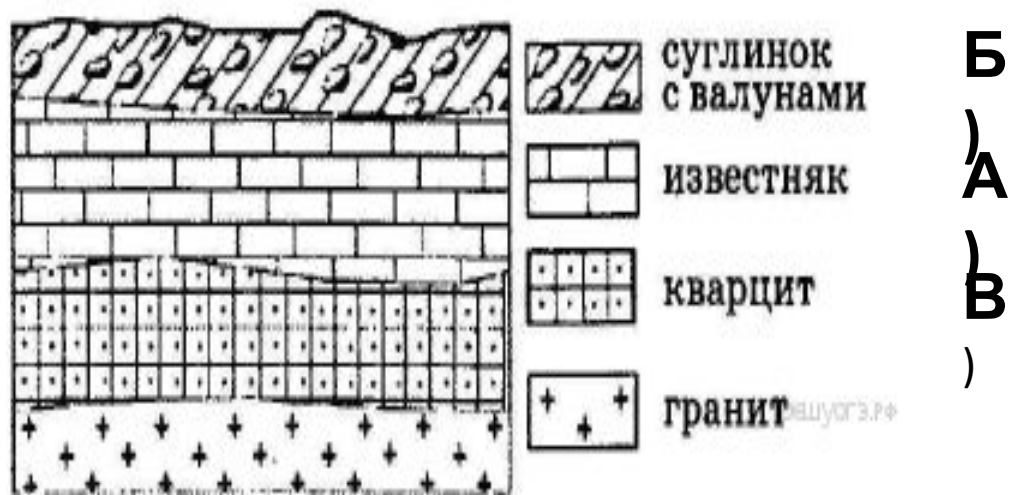
14...19 Температура воздуха (°C)

☁ Дождь

1) Благовещенск
2) Абакан

3) Петрозаводск
4) Элиста

5. Во время экскурсии учащиеся сделали схематическую зарисовку залегания горных пород на обрыве в карьере



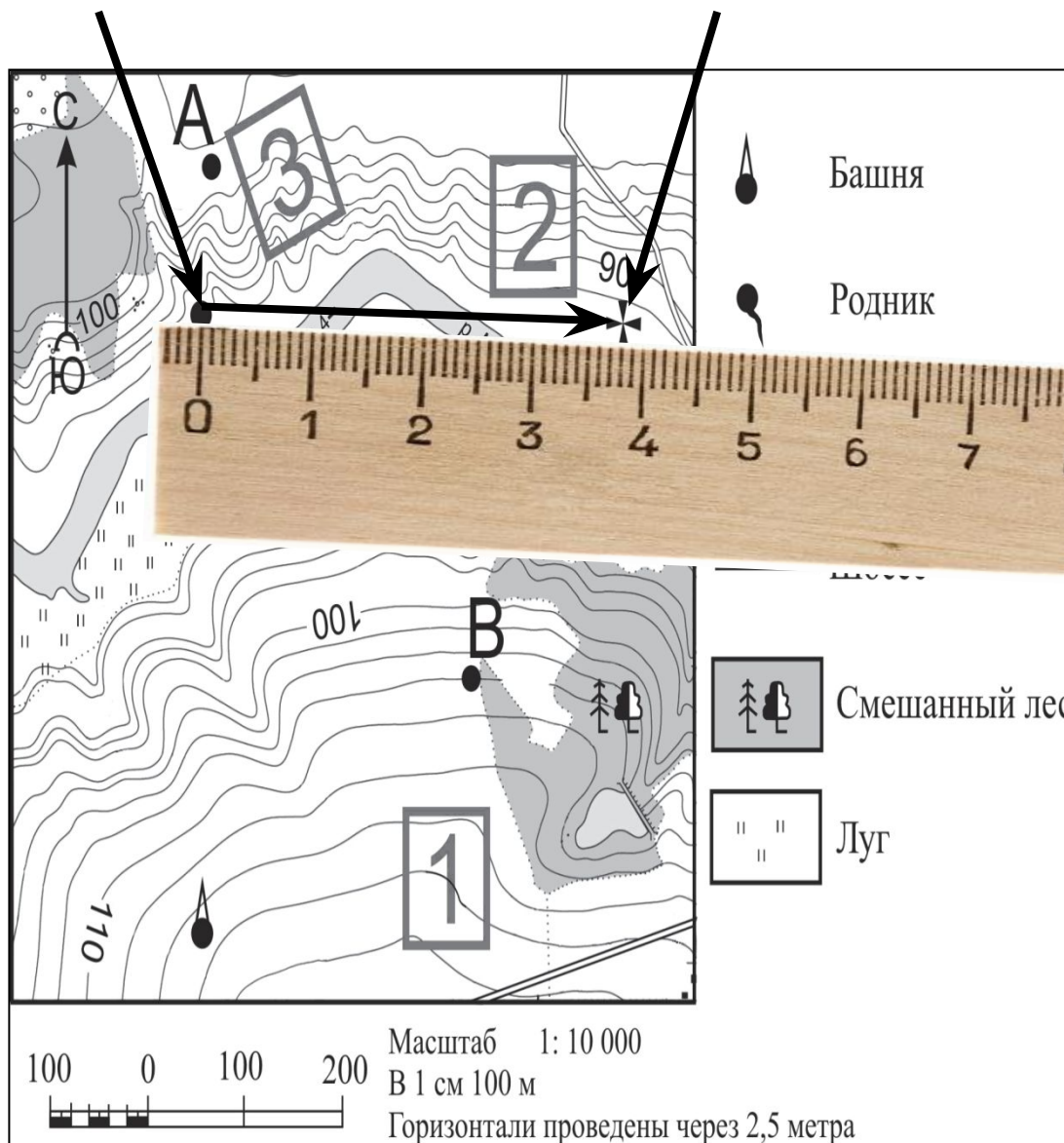
Расположите показанные на рисунке слои горных пород в порядке увеличения их возраста (от самого молодого до самого древнего).

Запишите в ответ получившуюся последовательность букв.

А) известняк

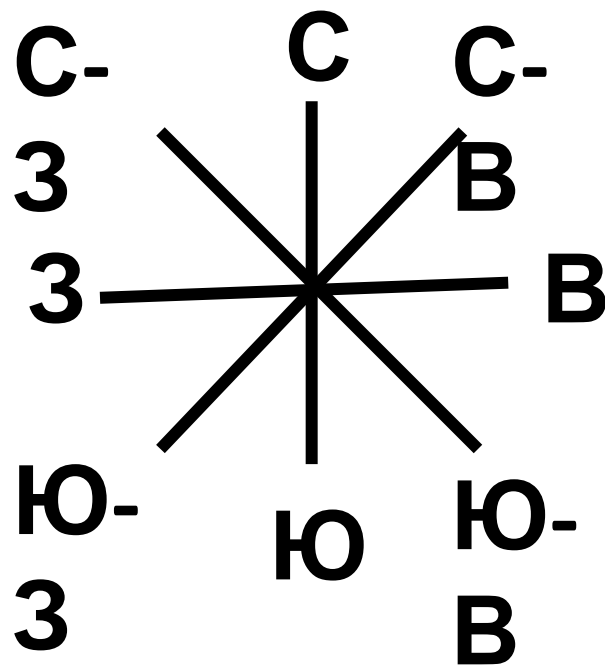
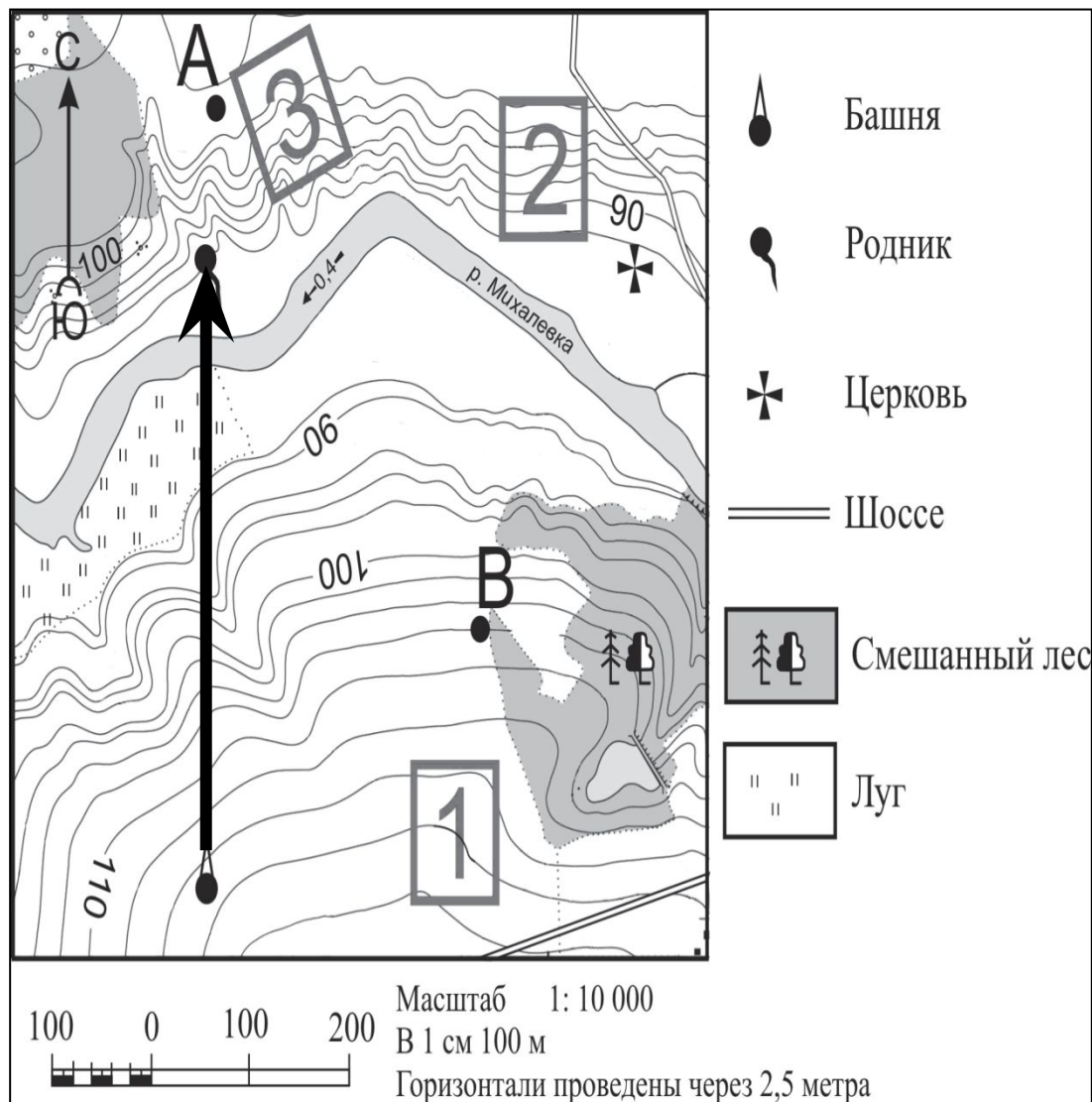
Б) суглинок с валунами

В) кварцит

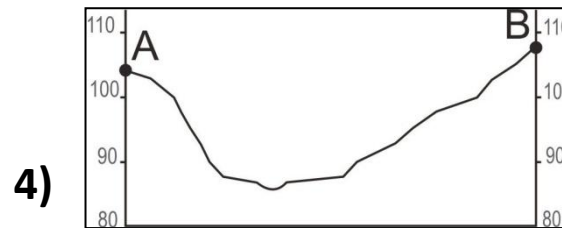


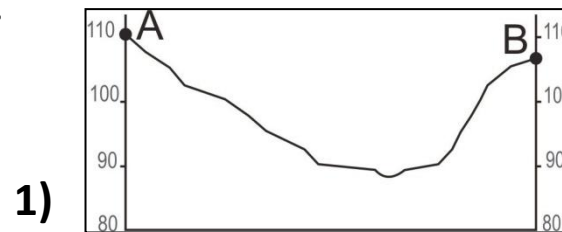
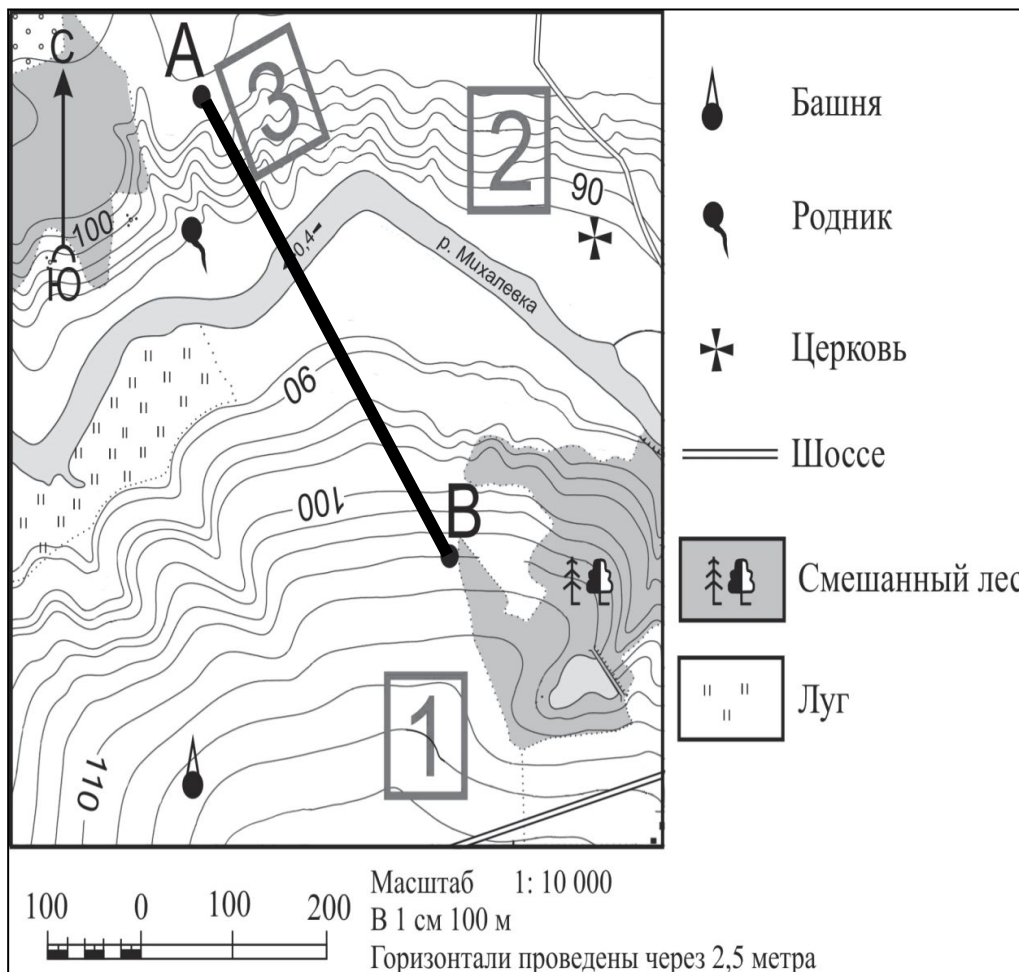


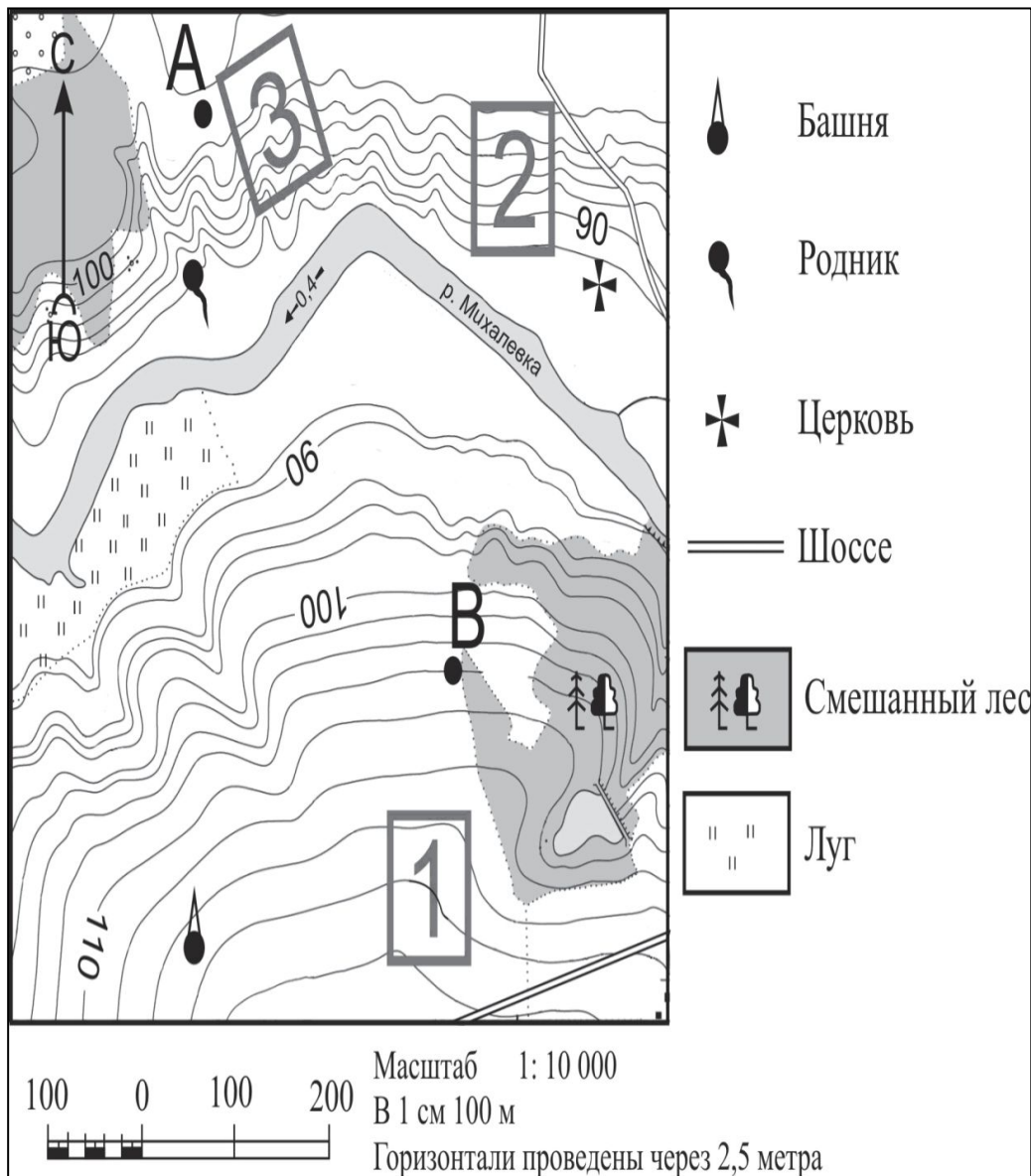
6. Определите по карте расстояние на местности по прямой от знака до кви. erение проведеите между центрами условных знаков. Полученный результат округлите до десятков метров. Ответ запишите в виде числа

7. Определите по карте, в каком направлении от башни находится родник.



8. На рисунках представлены варианты профиля рельефа местности, построенные на основе карты по линии А – В разными учащимися. Какой из профилей построен верно?

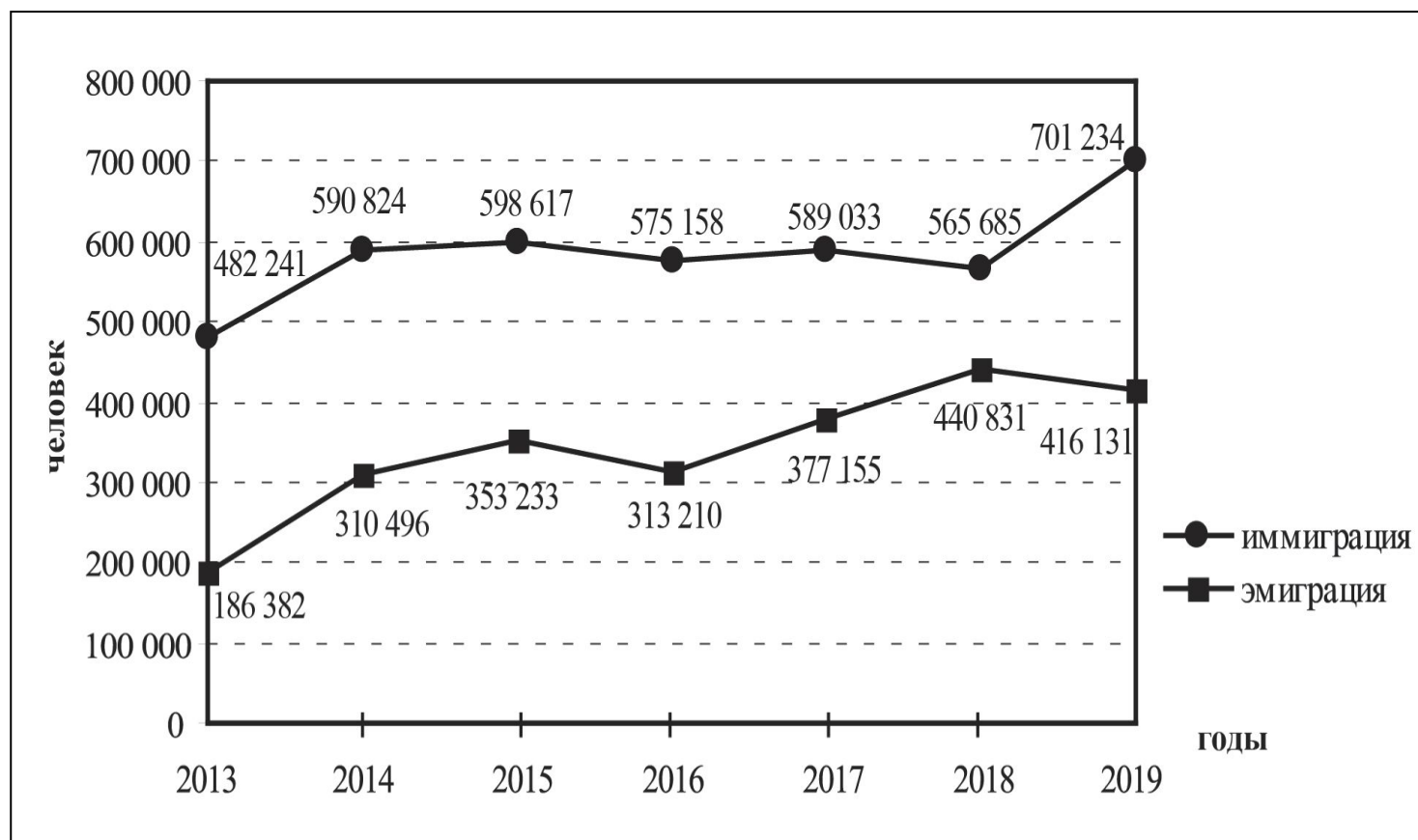




9. Фермер выбирает участок для закладки нового фруктового сада. Ему нужен участок, на котором весной рано сходит снег, а летом почва лучше всего прогревается солнцем. Он также должен иметь расположение, удобное для вывоза собранного урожая на консервный завод. Определите, какой из участков, обозначенных на карте цифрами 1, 2 и 3, больше всего отвечает указанным требованиям. Для обоснования Вашего ответа приведите два довода.

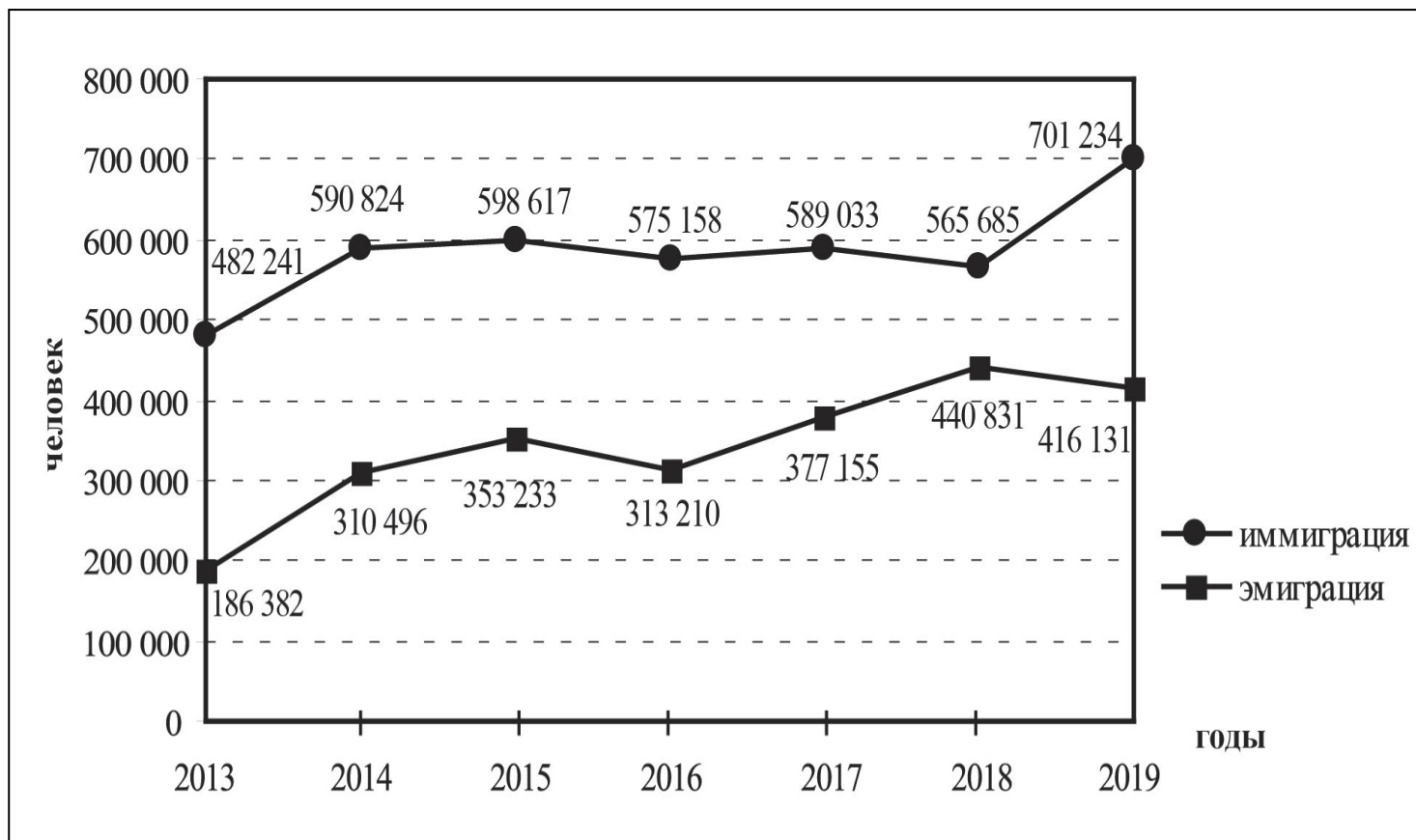
10. В каком году из показанных на графике на постоянное место жительства в Россию из других стран прибыло наибольшее число людей? Ответ запишите в виде числа.

Международная миграция в России за период 2013–2019 гг.



11. Определите величину миграционного прироста населения России в 2018 г. Ответ запишите в виде числа.

Международная миграция в России за период 2013–2019 гг.



**12. Расположите перечисленные города в порядке
увеличения в них численности населения.**

**Запишите в таблицу получившуюся
последовательность цифр.**

А) Липецк

Б) Новосибирск

В) Псков

ВАБ

13. В каких двух из перечисленных регионов России средняя плотность населения наибольшая? Запишите в таблицу цифры, под которыми указаны эти регионы.

- 1) Камчатский край
- 2) Ростовская область
- 3) Мурманская область
- 4) Республика Карелия
- 5) Омская область

14. Какие два из перечисленных городов являются центрами алюминиевой промышленности? Запишите в таблицу цифры, под которыми указаны эти города.

- 1) Красноярск**
- 2) Ярославль**
- 3) Петрозаводск**
- 4) Череповец**
- 5) Братск**

15. В каких двух из приведённых высказываний содержится информация о воспроизводстве населения? Запишите в таблицу цифры, под которыми указаны выбранные высказывания.

- 1) В XX в. территории крупных городов России быстро росли, при их слиянии с территориями соседних небольших городов возникали городские агломерации.
- 2) В начале 2019 г. средняя плотность населения в Северо-Кавказском федеральном округе была одной из самых высоких в стране – 58 человек на 1 км².
- 3) В 2018 г. в большинстве регионов России наблюдалась естественная убыль населения.
- 4) В 2018 г. в Северо-Кавказском федеральном округе число родившихся превышало число умерших на 68 453 человека.
- 5) В 2019 г. в РФ на постоянное место жительства из других стран
прибыло 701 234 человека, из РФ в другие страны выбыло 416 131 человек.