



ЗАГЛЯНЕМ В ЗАКРОМА ЛЕСА!

Л. Н. Толстой
«Три медведя»

М $89-19$

$\begin{matrix} 7 \\ 0 \end{matrix}$

Д $13+2$
 $\quad 7$

$\begin{matrix} 4 \\ 0 \end{matrix}$

С $45-15$

$\begin{matrix} 3 \\ 0 \end{matrix}$

И $52+2$
 $\quad 8$

$\begin{matrix} 8 \\ 0 \end{matrix}$

В $18+4$
 $\quad 2$

Р $67-57$

$\begin{matrix} 1 \\ 0 \end{matrix}$


А $86+$

$\begin{matrix} 9 \\ 0 \end{matrix}$

Т $25+$

$58-38$

$\begin{matrix} 2 \\ 0 \end{matrix}$



Какое число следует при счете
за числом:

48
3

53
0

48
0

50
1

70
0

81
1



Какое число предшествует
при счете числу:

21
6

39
9

58
9

35
9

18
6

89
9




Расскажите все, что знаете
о числе 470:

- трехзначное;
- 4 сот., 7 дес.;
- предыдущее – 469;
- последующее – 471;
- сумма цифр равна 12;
- сумма разрядных слагаемых
равна $400+70$.



Вычисли:



В каких числах сумма цифр
равна 18?

49

5

68

0

78

95

4

23

0

10

8

33

6

46

0





У
ПРИСЛУШАЙСЯ К ПЕНИЮ ПИТЦ И РЕШИ ПРИМЕРЫ





391




390



389

$256 + 134 =$





228



227



239

$$457 - 229 =$$





199



203




201

500 - 299 =





435



553



535

300 + 235 =





555



565





545

1000 - 435 =



КОТОРЫЙ ЧАС? НЕ ЗАДЕРЖАЛИСЬ МЫ В ЛЕСУ?





124 15МИН

154

24



124 25 МИН

194

174





134 30МИН

64

114 30МИН



114 40МИН

124 40МИН

204





104 10МИН

14 50МИН

24 50МИН



224

214

234






44 15МИН

44 45МИН

54 45МИН





9ч 15мин


2ч 45мин

3ч 45мин






64 10МИН
14 30МИН
24 30МИН



184 10МИН
194 10МИН
144 35МИН







104 20МИН

174 50МИН

154 50МИН





154 35МИН

164 30МИН

194 20МИН





БЕРЕГИТЕ ЛЕС, В НЁМ МНОГО ТАИН!