

Главное управление образования и науки Алтайского края
КГБОУ «Озерская общеобразовательная школа-интернат»
Тальменского района Алтайского края

Урок географии 7 класс «ТИХИЙ ОКЕАН»

Илясова Олеся Васильевна
учитель географии



Дежурные звуки: [Ч] - [Т]



Залив



Архипелаг



Океан



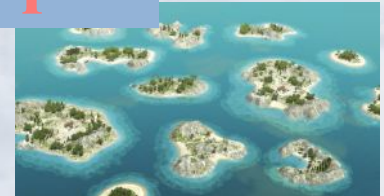
Пролив



Море



Остров



| <i>Термин</i> | <i>Определение</i> | <i>Изображение</i> |
|---------------|---|--------------------|
| | - часть мирового океана, отделенная материками от других подобных частей | |
| | - часть океана, отделенная от него островами, полуостровами или подводными поднятиями | |
| | - водное пространство, далеко вдающееся в сушу | |
| | - водное пространство между двумя массивами суши | |
| | - небольшая часть суши, со всех сторон окруженная водой | |
| | - группа островов, близко расположенных друг к другу | |

Дежурные звуки: [Ч] - [Т]



Термин

Океан

Определение


- часть мирового океана, отделенная материками от других подобных частей

Изображение



Море

- часть океана, отделенная от него островами, полуостровами или подводными поднятиями



Залив

- водное пространство, далеко вдающееся в сушу



Пролив

- водное пространство между двумя массивами суши



Остров

- небольшая часть суши, со всех сторон окруженная водой



Архипелаг

- группа островов, близко расположенных друг к другу





С каким океаном, мы сегодня познакомимся?



Задачи урока:



**Географическое
положение**

Рельеф дна

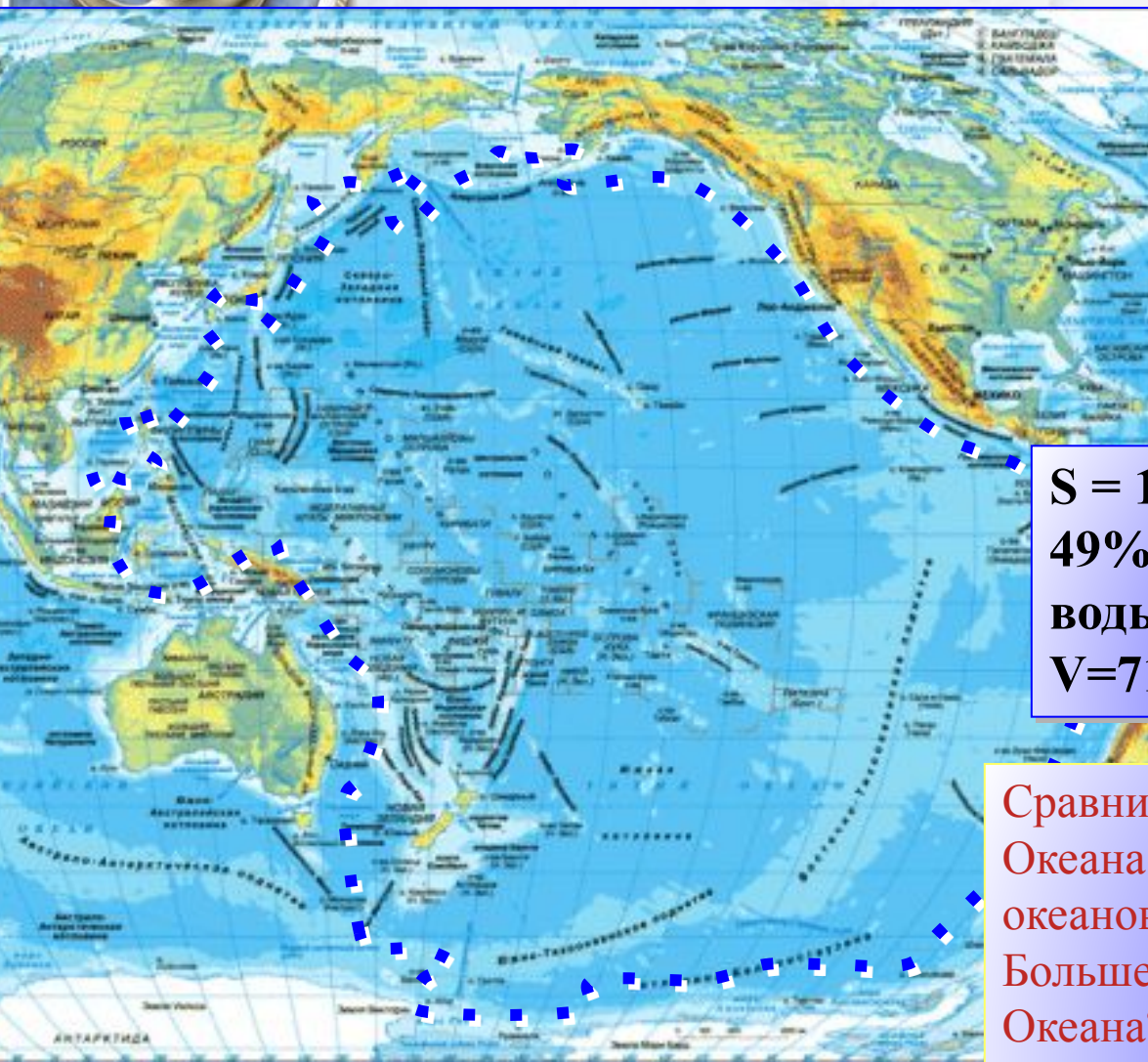
**Тихий
океан**

**Климатические
особенности**

**Растительный
и
животный мир**



Географическое положение



Анализируй

й

Учебник
стр.81, рис.
43
Атлас стр. 6

Учебник

Атлас

К/К

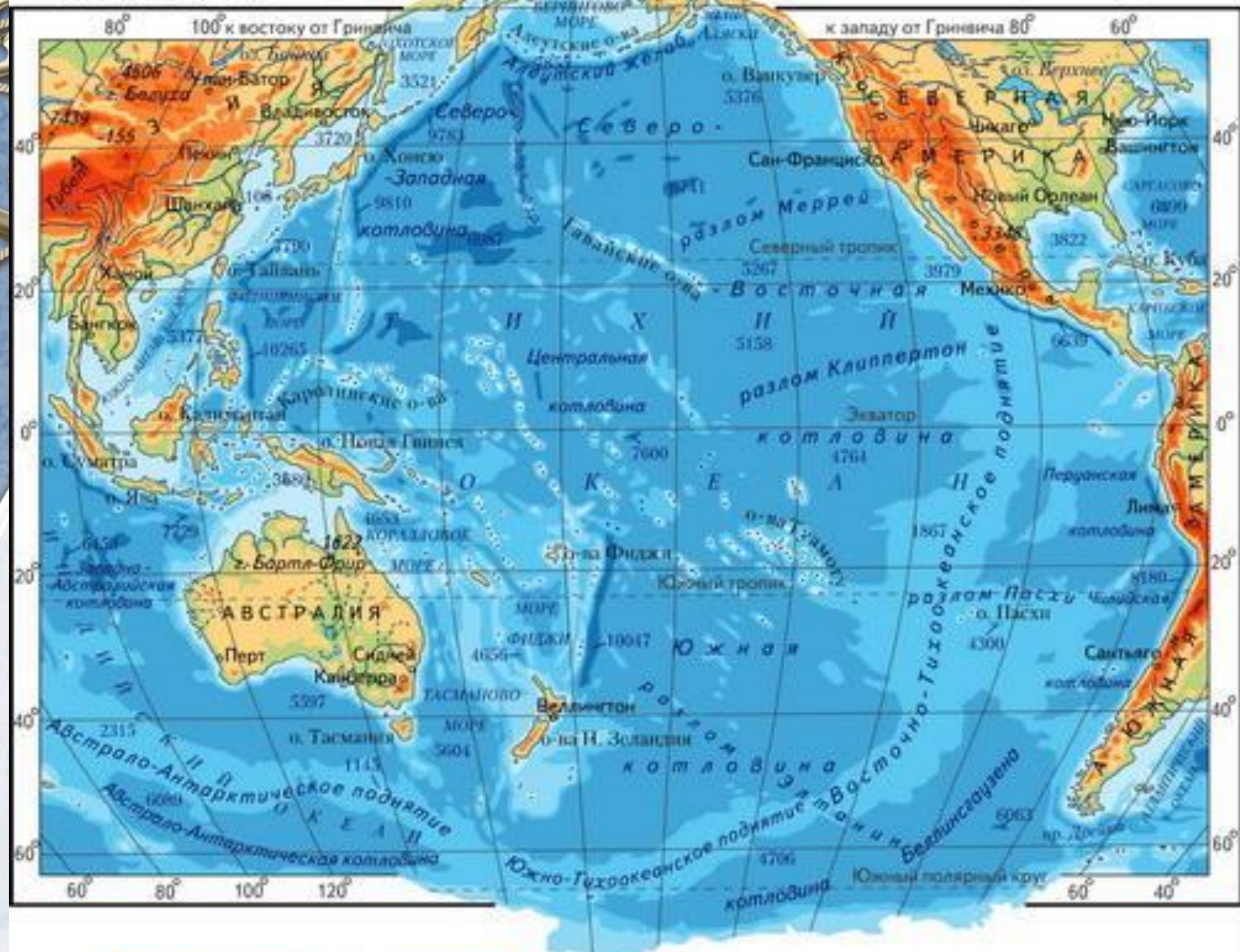
Читай текст
на стр. 81

Смотри
карту
на стр. 6

$S = 179,7$ млн. км²
49% поверхности
воды в МО
 $V = 710$ млн км²


Сравните площадь Тихого
Океана с размерами других
океанов. Во сколько раз он
Больше Северного Ледовитого
Океана?

ТИХИЙ ОКЕАН



МАСШТАБ 1:380 000 000

Рельеф дна Тихого океана




Анализируй

Учебник
стр.81, рис.
43,
Атлас стр. 3

Атлас

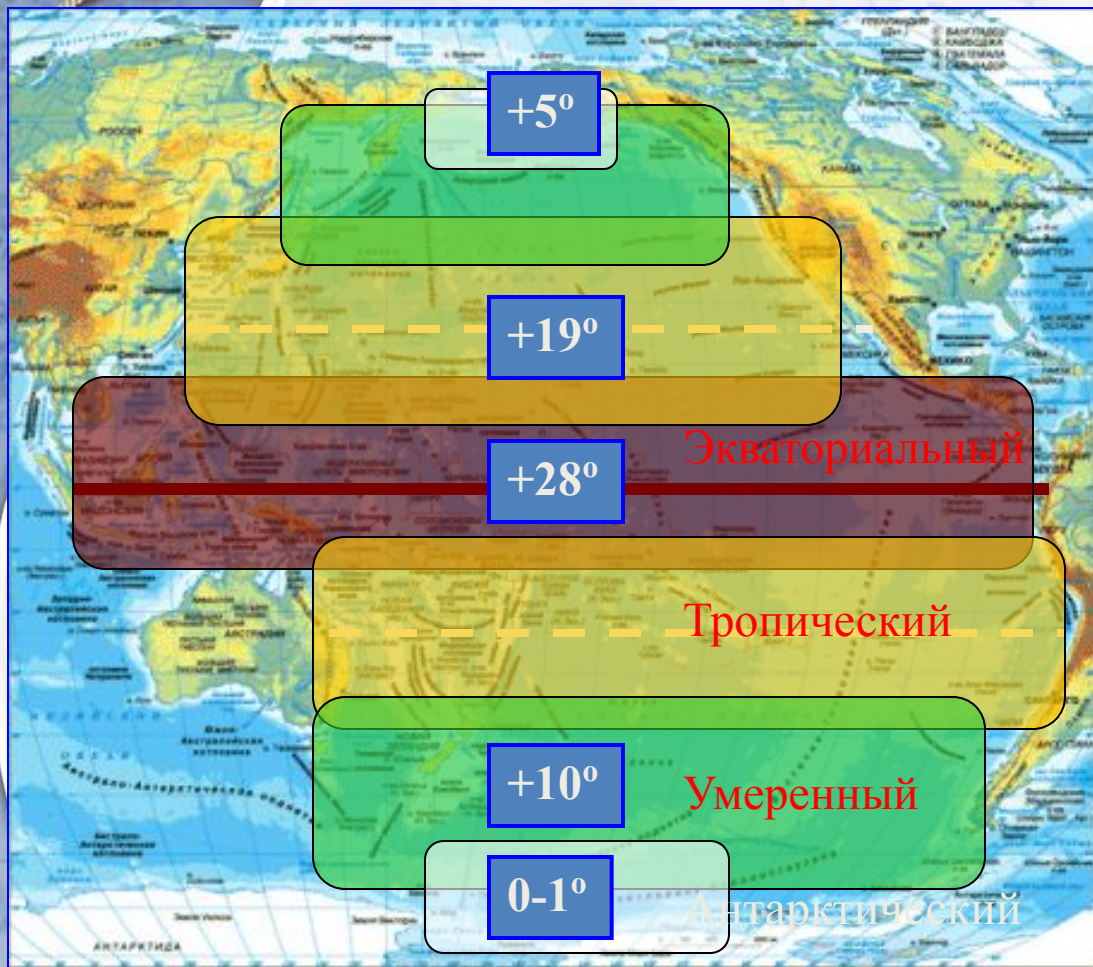
Смотри
карту
на стр. 6



Средняя глубина 3980 м
Наибольшая – 11022 м
(Марианская впадина)



Климат Тихого океана



Анализируй

й

Учебник
стр.81, рис.
43,
Атлас стр. 7

Учебник

Атлас

Читай текст
на стр. 81

Смотри
карту
на стр. 7


Течения Тихого океана




Органический мир Тихого океана




Содержание питательных веществ в воде


 - большое

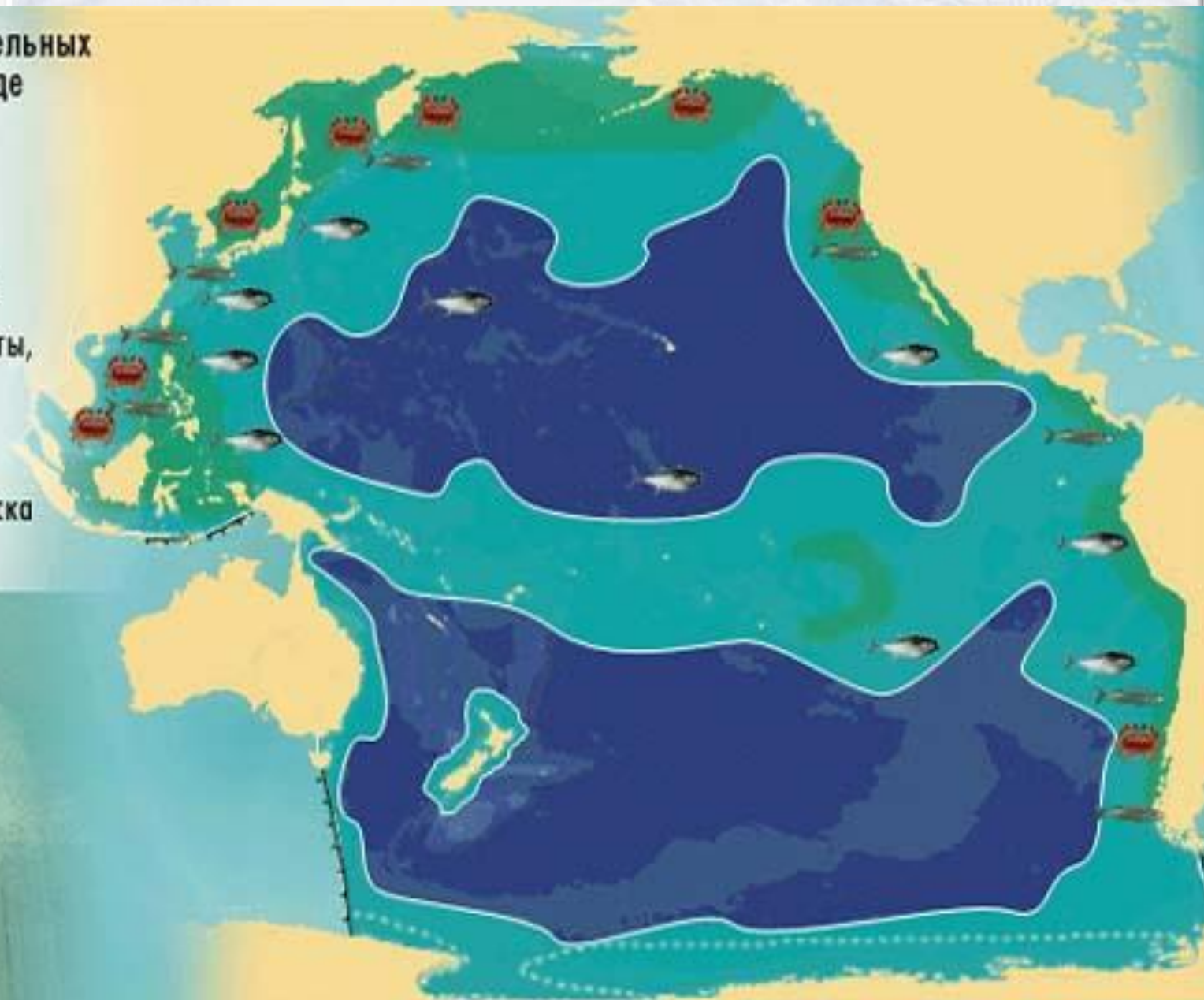
 - среднее

Д о б ы ч а

 крабы, лангусты, креветки

 тунец

 сельдь, треска и др.





Оцените свою работу на уроке:

- Мне запомнилось ...
- Мне понравилось ...
- Были затруднения ...

Интернет - ресурсы

- Шаблон для презентации

<http://elenaranko.ucoz.ru/>

- 1С Образовательная коллекция. География 6-10 класс(диск).

www.rnmc.ru

- <http://news.marketgid.com/ru/17/page187.html>

- dic.academic.ru

- vugluskr.ucoz.ru

- traveller-world.pp.ua

- apriorihuman.livejournal.com

- www.volga-i.ru

- lovedrose.nm.ru

- www.vokrugsveta.ru

- arttravel.kz