

# Актуализация знаний

- Какое число нужно прибавить к числу 3, чтобы в сумме получилось 10?

**Ответ: 7**

- Какое число нужно прибавить к числу 3, чтобы в сумме получилось 7?

**Ответ: 4**

# Актуализация знаний

- Какое число нужно прибавить к числу 3, чтобы в сумме получилось 4?


**Ответ: 1**



- Какое число нужно прибавить к числу 3, чтобы в сумме получилось 3?

**Ответ: 0**

6 ЭТО



Вспомним состав  
числа 6




6 ЭТО






6 ЭТО



6 ЭТО





6 ЭТО

5






Найди листочки, на которых записана **разность** чисел.






 $5+6$

 $8+6$

 $11-6$

 $13-6$

 $15-6$

 $6+0$



Найди листочки, на которых  
записана **сумма** чисел.





# Повторим. Вспомним.

Запомни!


$$\begin{array}{l} 5 + 6 = 11 \\ 6 + 6 = 12 \\ 7 + 6 = 13 \\ 8 + 6 = 14 \\ 9 + 6 = 15 \end{array}$$



Запомни!

$$\begin{array}{ll} 10 - 6 = 4 & 13 - 6 = 7 \\ 11 - 6 = 5 & 14 - 6 = 8 \\ 12 - 6 = 6 & 15 - 6 = 9 \end{array}$$





**Тема урока:  
«Прибавление и вычитание  
числа 6».**



Откройте учебники на с.79 и посмотрите на номер 18.

18. Кто какой пример решал?

9 - 6	12 - 6	15 - 6
10 - 6	14 - 6	11 - 6

The illustration shows six cartoon animals standing in a line. From left to right: a grey wolf wearing a striped shirt and holding a sign with the number 9; a small orange fox holding a sign with the number 3; a brown dog wearing a striped shirt and blue pants holding a sign with the number 6; a brown bear wearing a striped shirt and holding a sign with the number 4; a blue rabbit wearing a striped shirt holding a sign with the number 5; and a blue hedgehog holding a sign with the number 8.

Рассмотрим примеры и иллюстрацию.  
Найдите кто и какой пример решал.



# Проверим ваши ответы.

18. Кто какой пример решал?

$9 - 6$	$12 - 6$	$15 - 6$
$10 - 6$	$14 - 6$	$11 - 6$

9 3 6 4 5 8

**Откройте тетради и  
запишите число.**

**Образец на следующем слайде.**

*23 марта.*



**23 марта.**

**20 с.79**

$$7 + 6 =$$

$$15 - 6 =$$

$$9 + 6 =$$

$$12 - 6 =$$

1. Запишите примеры в тетрадь по образцу № 3 с. 75 и № 17 с. 78

2. Решите их

3. Вспомним, что для удобства решения мы раскладываем на части число 6



# Как легче прибавить 6?

Число 6 нужно прибавлять по частям. Сначала нужно прибавить число, чтобы получилось 10, а потом к десяти прибавить оставшуюся часть числа.



*23 марта*

*20 с.79*

$$7 + 6 = 7 + 3 + 3 = 13$$

$$15 - 6 = 15 - 5 - 1 = 9$$

$$9 + 6 = 9 + 1 + 5 = 15$$

$$12 - 6 = 12 - 2 - 4 = 6$$

ПРОВЕРИМ РЕШЕНИЕ ПРИМЕРОВ



**Молодцы!**

