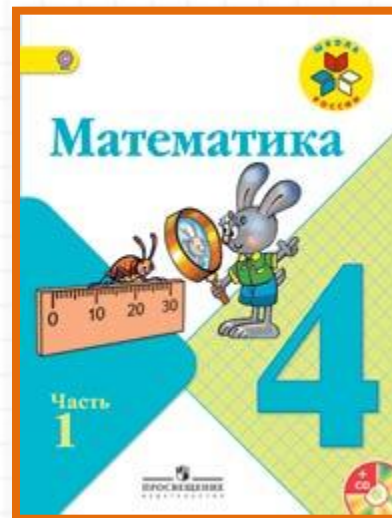


Школа России

4 класс


стр. 62



Устный счёт к уроку № 110

Закрепление изученного

Устный счёт



Сосчитайте цепочку и узнайте, что съест Карлсон на ужин?



$$(4400 - 3700) : 10 \bullet 15 =$$



Запишите ответы.

$$720 : 240 =$$

$$480 : 240 =$$

$$960 : 160 =$$

$$800 : 150 =$$

$$1000 : 250 =$$

$$630 : 210 =$$

$$510 : 170 =$$

$$750 : 250 =$$

$$160 \cdot 5 =$$

$$48 \cdot 20 =$$

$$250 \cdot 6 =$$

$$38 \cdot 30 =$$

$$150 \cdot 7 =$$

$$67 \cdot 2 =$$

$$58 \cdot 20 =$$

$$140 \cdot 5 =$$

Дима купил на **3** блокнота больше, чем Лена и заплатил на **60** рублей больше. Сколько стоит блокнот?



20

рублей

Прошла $\frac{1}{5}$ часть века и ещё 2 года.
Сколько это лет?



22

ГОДА


Бабушка купила **4 м** шёлка по **900** рублей и **3 м** ситца. За всю покупку она заплатила **5400** рубля. Сколько стоит метра ситца?



600

рублей

Рост слона **3 м 5 дм**, а жираф на **8 дм** выше. Найди рост жирафа.



$$43 \text{ дм} = 4 \text{ м } 3 \text{ дм}$$

Юрий Гагарин на корабле «Восток»
облетел земной шар за **108 минут**.
Сколько часов и минут продолжался
полёт?




1 час 48 минут

Задание на смекалку



Вокруг замка со спящей царевны
вырыт глубокий ров, имеющий форму
квадрата, шириной **2 м**. Как королевичу
перебраться через ров с помощью двух
досок длиной по **2 м** каждая?



Конец

Сайт Елены Берюховой «Школа АБВ»
<http://shkola-abv.ru>

