

# МАТЕМАТИКА

---

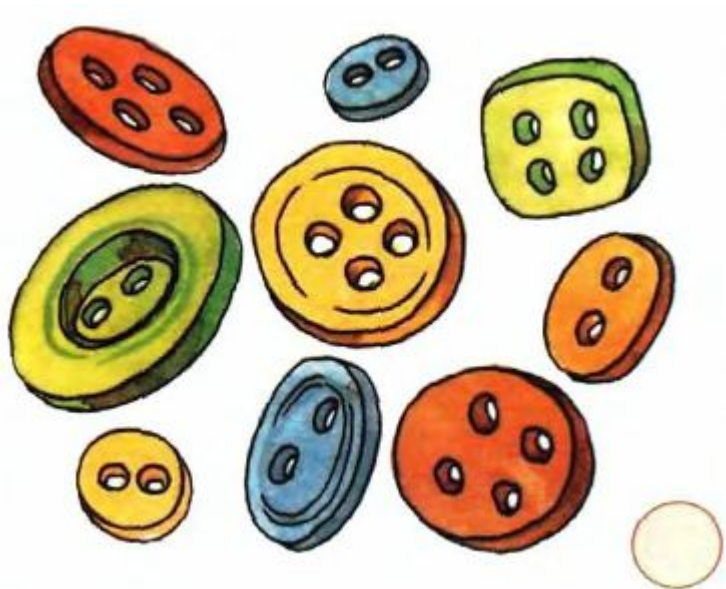
Число и цифра 6. повторение

8.11.2021

# Дорогой первоклассник!

Давай вспомним, что мы проходили до каникул. Приготовь для работы учебник, рабочую тетрадь и тонкую тетрадь в клетку.

Найди те множества, которые можно обозначить числом 6



Помоги Лягушонку перебраться через болото. Вставь пропущенные знаки ( $>$   $<$   $=$ )

$4 \bigcirc 3$


$5 \bigcirc 5$

$3 < 2$

$6 \bigcirc 1$



Помоги Лягушонку перебраться через болото. Вставь пропущенные знаки ( $>$   $<$   $=$ )



4 ○ 3

5 ○ 5

3 ○  $<$  2

6 ○  $<$  1


Помоги Лягушонку перебраться через болото. Вставь пропущенные знаки ( > < = )

4 ○ 3


5 = 5

3 < 2

6 < 1



Помоги Лягушонку перебраться через болото. Вставь пропущенные знаки ( $>$   $<$   $=$ )



4  $>$  3

5  $=$  5

3  $<$  2

6  $<$  1

Запиши неравенства в тетрадь

Посмотри на выражения. Реши их. Запиши в тетрадь те, ответ в которых равен 6

$$5+1=6$$

$$2+2=4$$

$$1+4=5$$

$$2+3=5$$

$$3+3=6$$





$$4+2=6$$



# Работа с учебником

На странице учебника 77 выполни  
упражнение 5

Найди среди всех фигур  
четырёхугольники



# Оцени свою работу

Нарисуй на полях в тетрадке одну из картинок



Все получилось



что-то не получилось



ничего не получилось