



8 слив разложили на 2 тарелки поровну. Сколько слив на каждой тарелке?



Составь по каждой картинке пример на умножение и реши его.



$$2 \times 6 = 12$$






Составьте и решите задачу

Распределите яблоки по тарелкам

3 3 3 поровну



$$356 + 121 = 477$$

$$487 - 287 = 200$$

$$578 + 22 = 600$$

$$989 - 90 = 899$$

$$404 + 303 = 707$$

$$606 - 600 = 6$$

$$550 + 500 = 1050$$