

Решение задач

3 класс

Урок № 3



04.01.2021



Логические задачи



Два отца и два сына застрелили трёх зайцев, каждый по одному. Как такое возможно?

Бабушка положила в тарелку 12 груш. После того как внуки взяли с тарелки по одной груше, осталось 8 груш. Сколько у бабушки внуков?

В доме 8 квартир. Из двух квартир сделали четыре. Сколько квартир стало в доме?

Реши задачу разными способами:

Мастеру нужно было отремонтировать 68 ботинок. После того как он отремонтировал 20 ботинок в среду и несколько ботинок в четверг, ему осталось отремонтировать еще 25 ботинок. Сколько ботинок отремонтировал мастер в четверг?

1 способ:

1)

2)

2 способ:



Ответ: мастер отремонтировал в четверг

РАЗНЫЕ ФОРМЫ ЗАПИСИ

У Ромы 5 грибов, а у Данила на 3 гриба больше.
Сколько у них всего грибов?



Выбирай



По действиям:

1) $5 + 3 = 8$ (гр.)

2) $8 + 5 = 13$ (гр.)

По действиям
с вопросом:

1) Сколько грибов у Данила?

$$5 + 3 = 8$$

2) Сколько грибов всего?

$$8 + 5 = 13$$

По действиям
с пояснением:

1) $5 + 3 = 8$ — грибов у Данила.


2) $8 + 5 = 13$ — всего грибов
у Данила и Ромы.

Выражением:

$$(5 + 3) + 5 = 13$$

1. В столовой испекли 12 пирожков с повидлом и 13 пирожков с картошкой. Один пирожок с картошкой стоит 3 руб., а с повидлом 5 руб. Сколько стоят все пирожки?

Чертёж



Решение

Ответ

руб. стоят все пирожки.

Выполни самостоятельно с объяснением

Макар купил 8 тетрадей в клетку и 10 тетрадей в линейку. Одна тетрадь в клетку стоит 6 рублей, а одна тетрадь в линейку – 4 рубля. Сколько денег заплатил Макар за все тетради?

Чертёж:

Решение:

Ответ:

2. Две книги стоят 46 руб., а 4 тетради на 14 руб. дешевле. На сколько рублей тетрадь дешевле книги?

Чертёж

Решение

Ответ

на 14 руб. дешевле.

Выполни самостоятельно с объяснением

Два альбома стоят 68 рублей, а 5 блокнотов на 8 рублей меньше, чем два альбома. На сколько рублей один альбом дороже одного блокнота?

Чертёж:

Решение:

Ответ:

Выполни самостоятельно с объяснением

Тест

Выполни вычисления с объяснением

$$4 \text{ см} + 20 \text{ мм} =$$

$$2 \text{ дм} + 52 \text{ см} =$$

$$17 \text{ см} + 70 \text{ мм} =$$

$$4 \text{ дм} 9 \text{ см} + 41 \text{ см} =$$



$$1 \text{ дм} = 10 \text{ см} = 100 \text{ мм}$$

$$1 \text{ см} = 10 \text{ мм}$$

$$10 \text{ мм} = 1 \text{ см}$$

10 единиц – это 1 десяток
10 см – это 1 десяток сантиметров =
1 дециметр
10 см = 1 дм
1 дм = 10 см



На уроке было комфортно и всё понятно



На уроке немного затруднялся, не всё понятно



На уроке было трудно, ничего не понял

Конец

