

ПОВТОРЕНИЕ тренировочные задания 11 класс

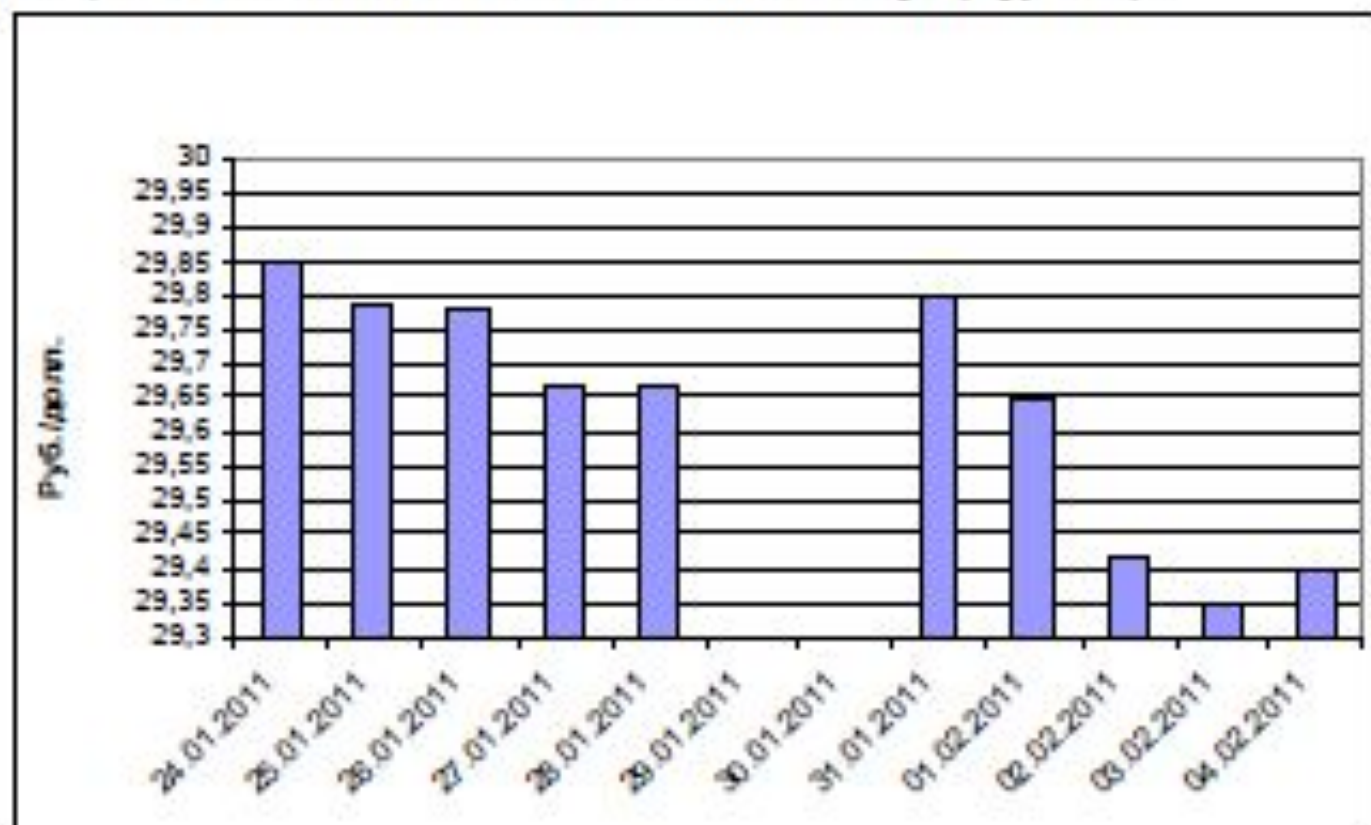
Тренировочные задания В2 (графическое представление данных)

подготовила учитель математики МБОУ СОШ № 43 Ст. Северская Краснодарский край Шкредина Ирина Александровна

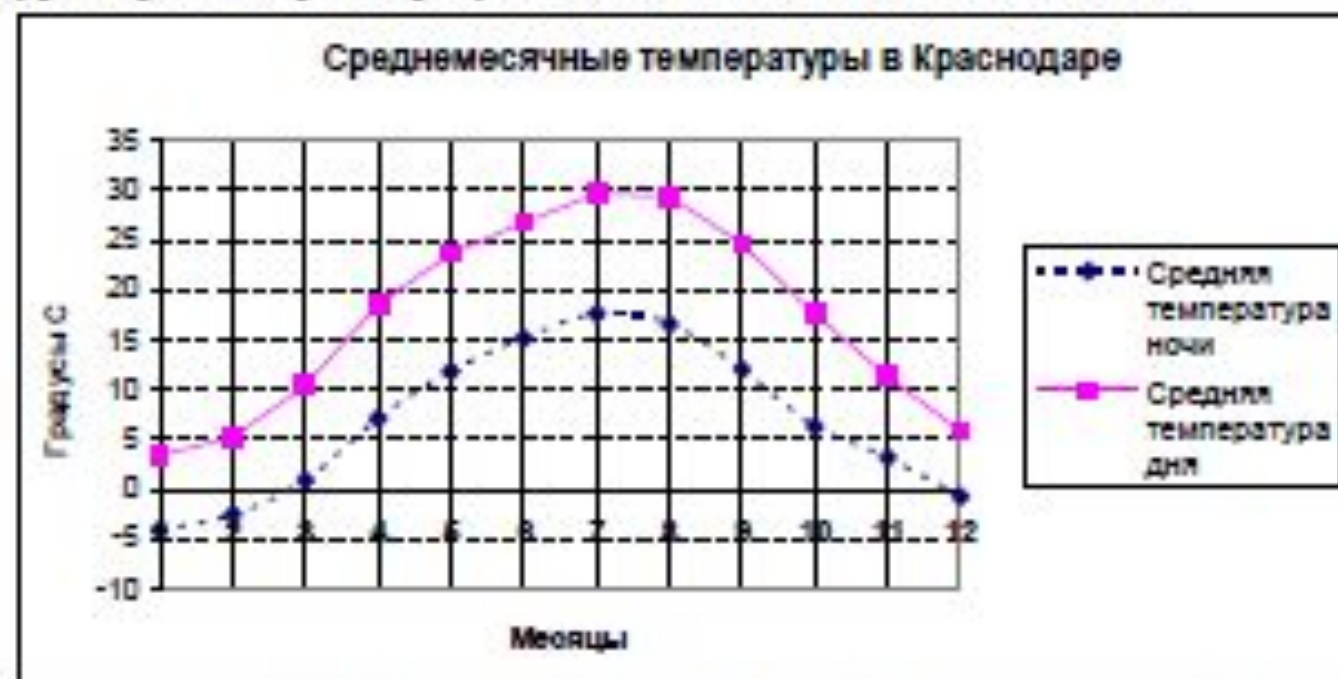
В2. На диаграмме показана динамика курса доллара в течение двух недель торгов на валютной бирже (в субботу и воскресенье торги не проводятся). Определите по диаграмме, сколько раз в течение торговых дней курс опускался ниже 29,7 руб./дол.?



В2. На диаграмме показана динамика курса доллара в течение двух недель торгов на валютной бирже (в субботу и воскресенье торги не проводятся). Определите по диаграмме, какой была наибольшая стоимость доллара (в рублях).



В2. На рисунке изображены графики среднемесячных дневных и ночных температур в Краснодаре по результатам многолетних наблюдений.



Сколько месяцев в году и среднемесячная дневная температура и среднемесячная ночная температура превышает 10 градусов?

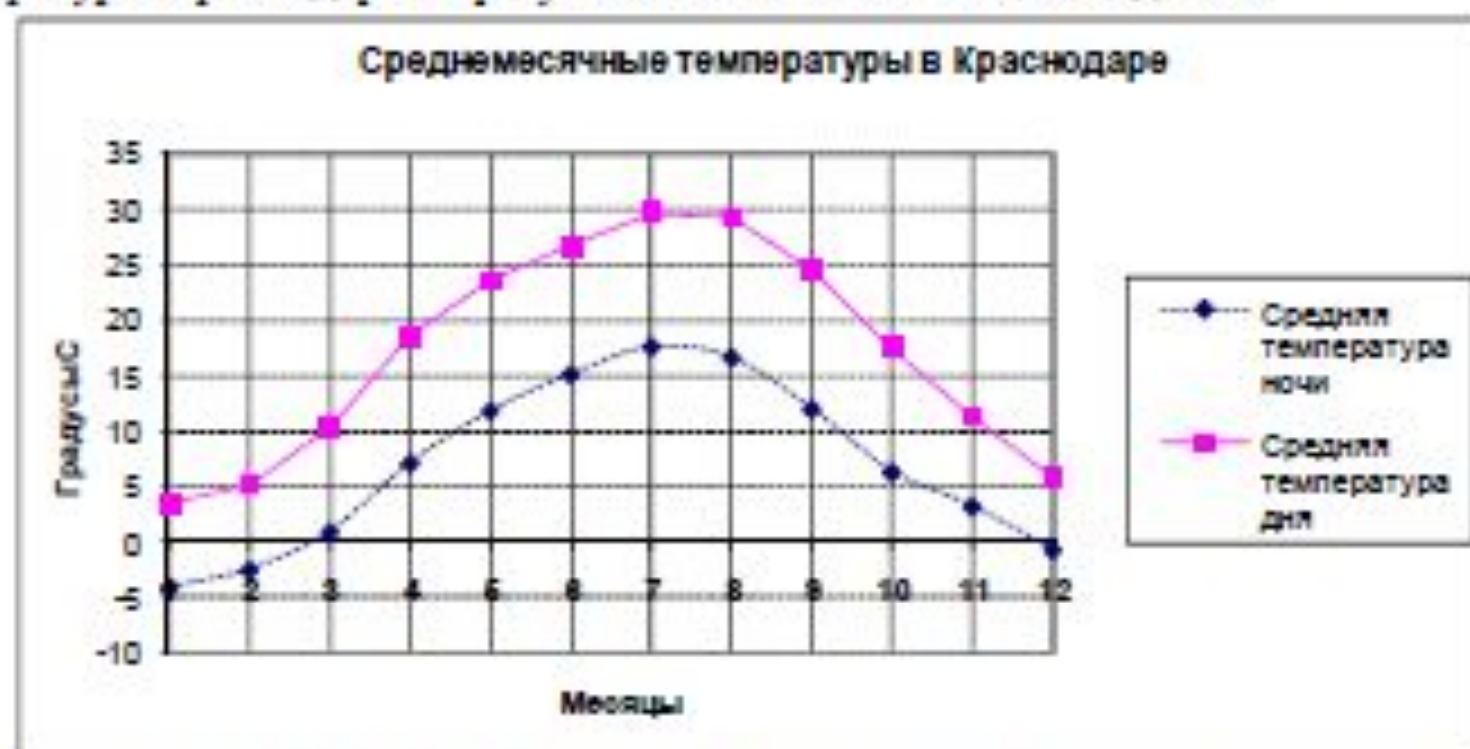
В2. На диаграмме приведены данные о среднемесечном уровне осадков в Краснодаре по многолетним наблюдениям. Определите по диаграмме разницу (в мм) между наибольшим и наименьшим среднемесечным количеством осадков в году.



В2. На рисунке изображен график стоимости пая в Плевом инвестиционном фонде «МИФ» за период с августа 2010 года по февраль 2011 г. Сколько месяцев, начиная с октября 2010 г., стоимость пая снижалась в сравнении с предыдущим месяцем?

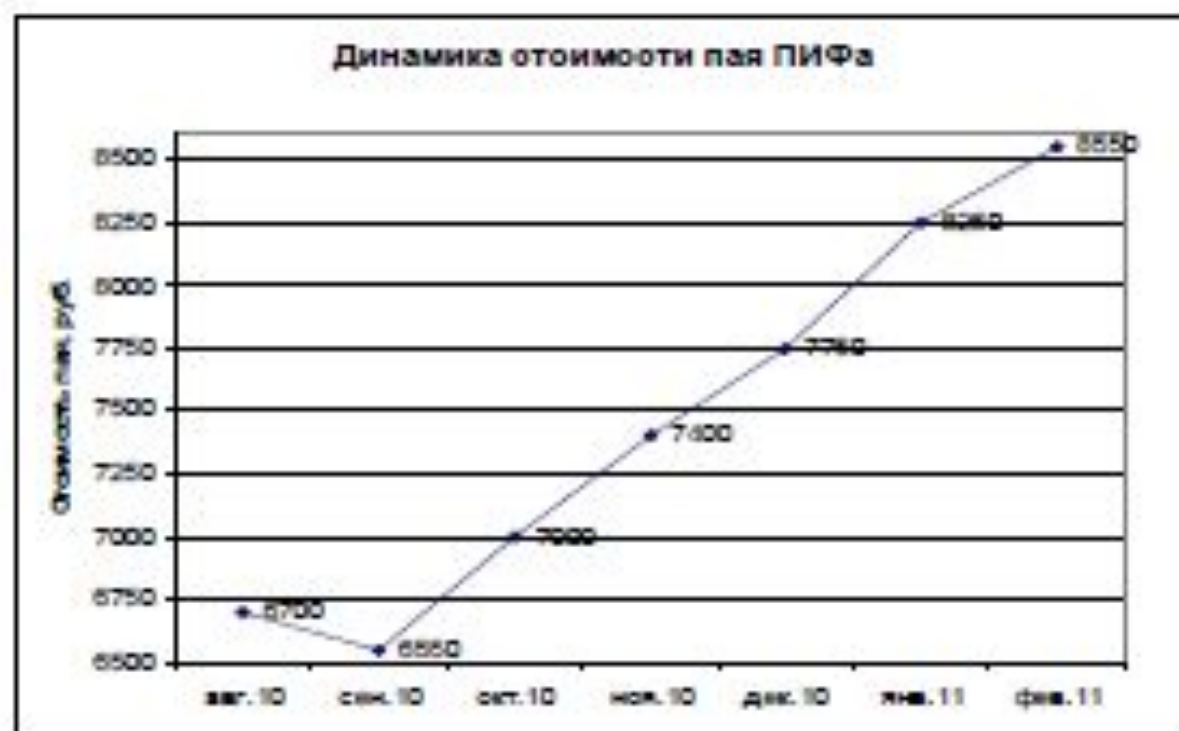


В2. На рисунке изображены графики среднемесячных дневных и ночных температур в Краснодаре по результатам многолетних наблюдений.

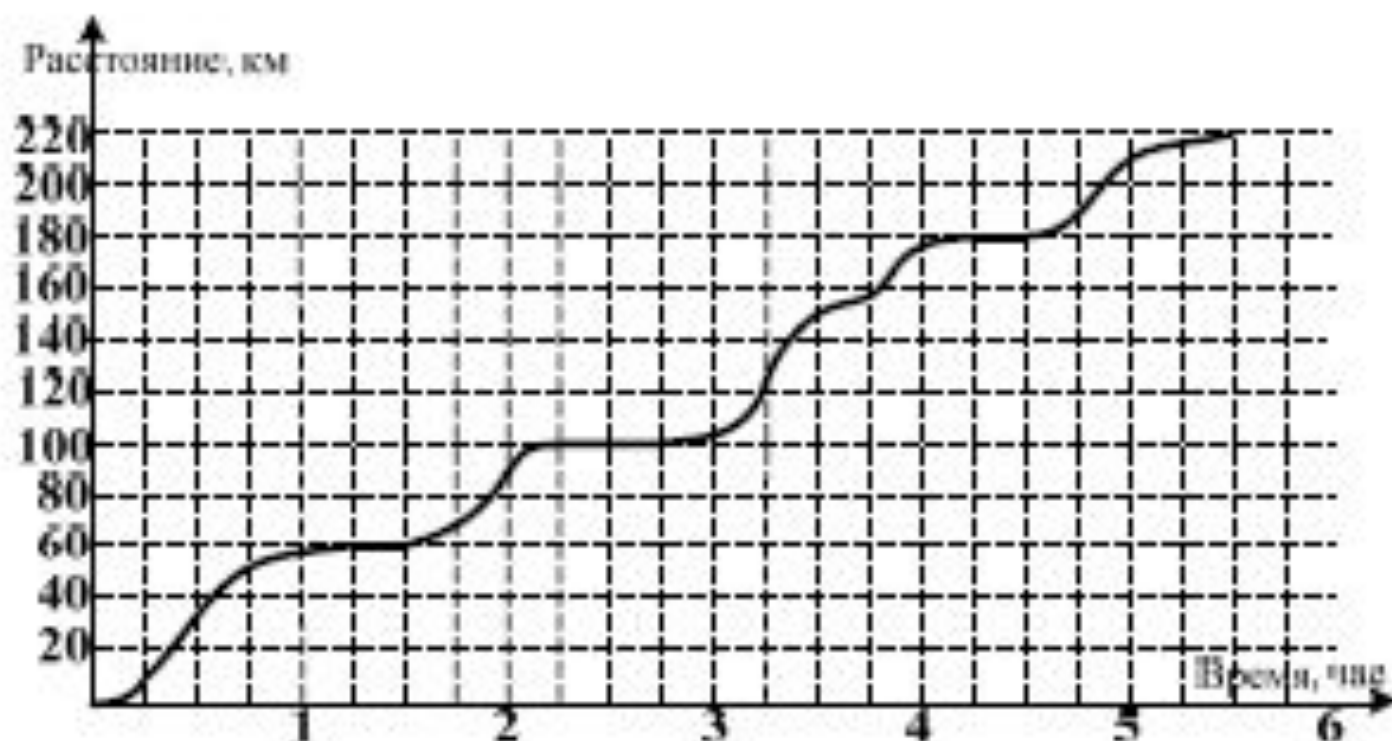


Сколько месяцев в году среднемесячная дневная температура и среднемесячная ночная температура имеют противоположные знаки?

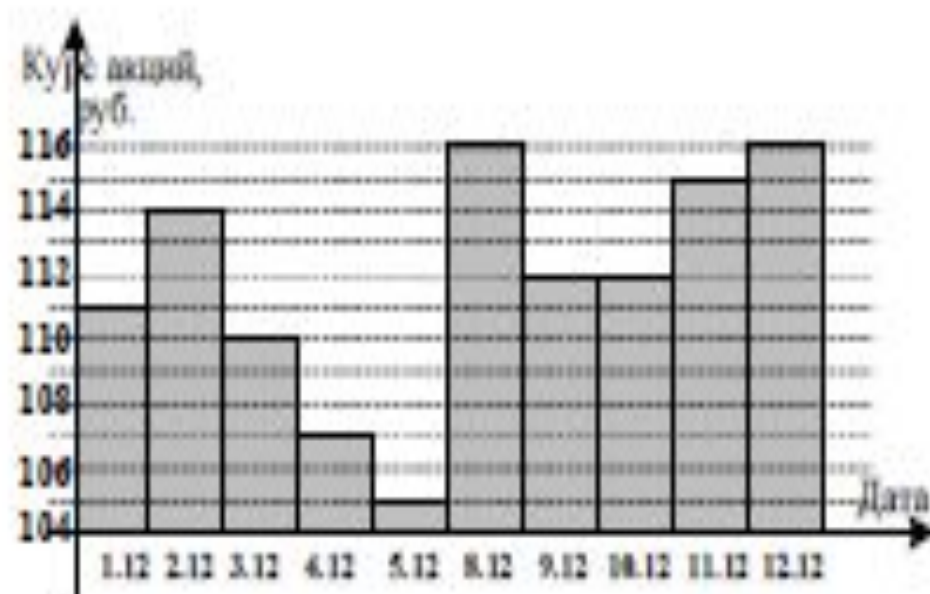
В2. На рисунке изображен график изменения стоимости пая в Паевом инвестиционном фонде «Добрыня Нивитич» за период с августа 2010 года по февраль 2011 г. Чему равен наибольший рост стоимости пая (в рублях) в соседние месяцы, начиная с сентября 2010 года.



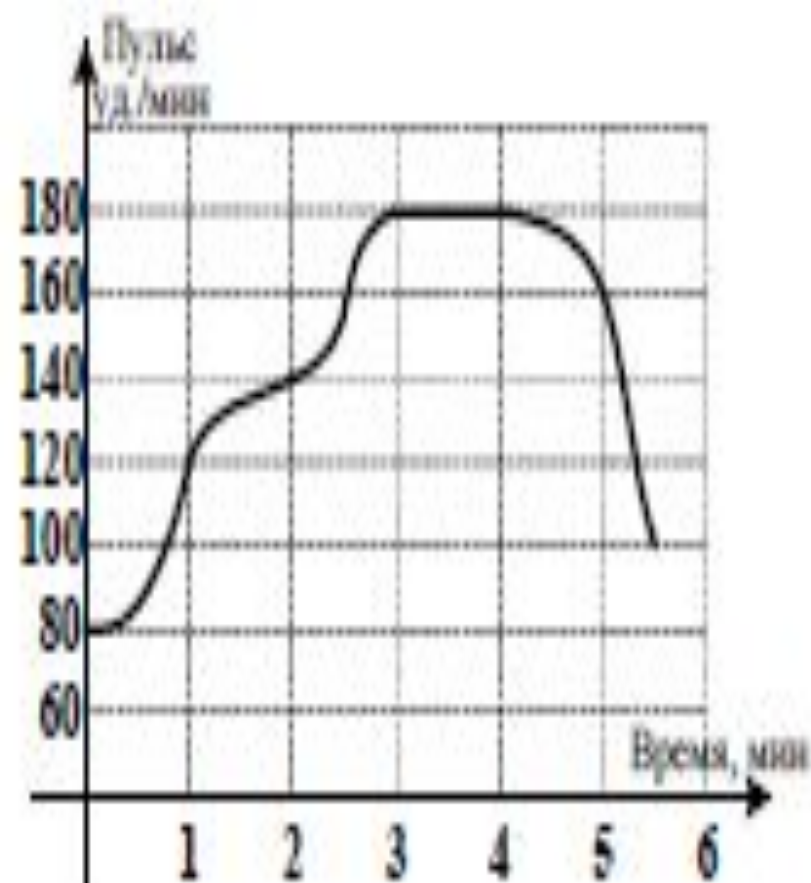
В2. На рисунке показано изменение расстояния при движении рейсового автобуса от автостанции в зависимости от времени. Сколько остановок сделал автобус на маршруте?



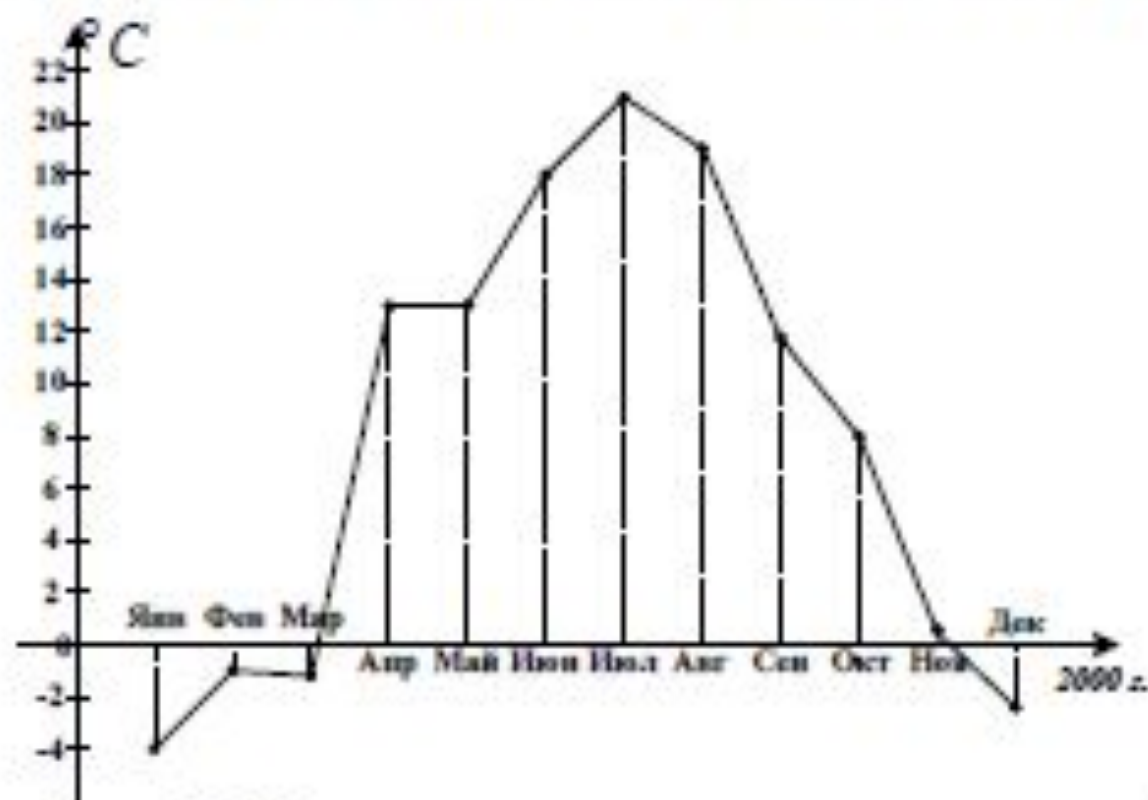
В2. На рисунке показана котировка акций Газпрома за период с 1.12.2008 по 12.12.2008 года (в выходные дни торги по акциям не проводятся). Сколько дней курс акций был выше 112 рублей?



В2. На рисунке показано изменение частоты пульса спортсмена во время его 5-минутного выступления. Сколько минут в ходе выступления пульс был выше 120 уд./мин?

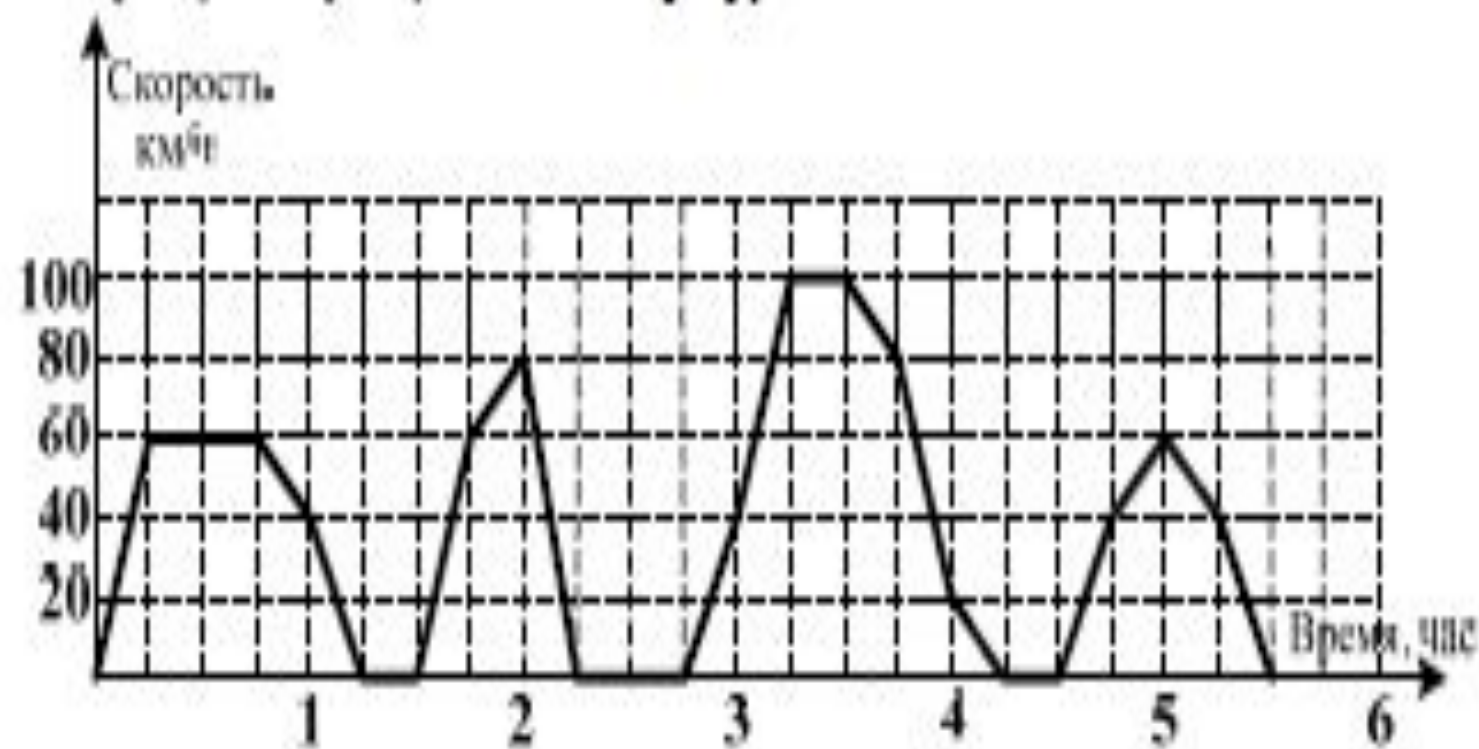


В2. На графике приведены среднемесячные температуры воздуха в городе N в течение 2000 года. Для наглядности жирные точки соединены линиями.

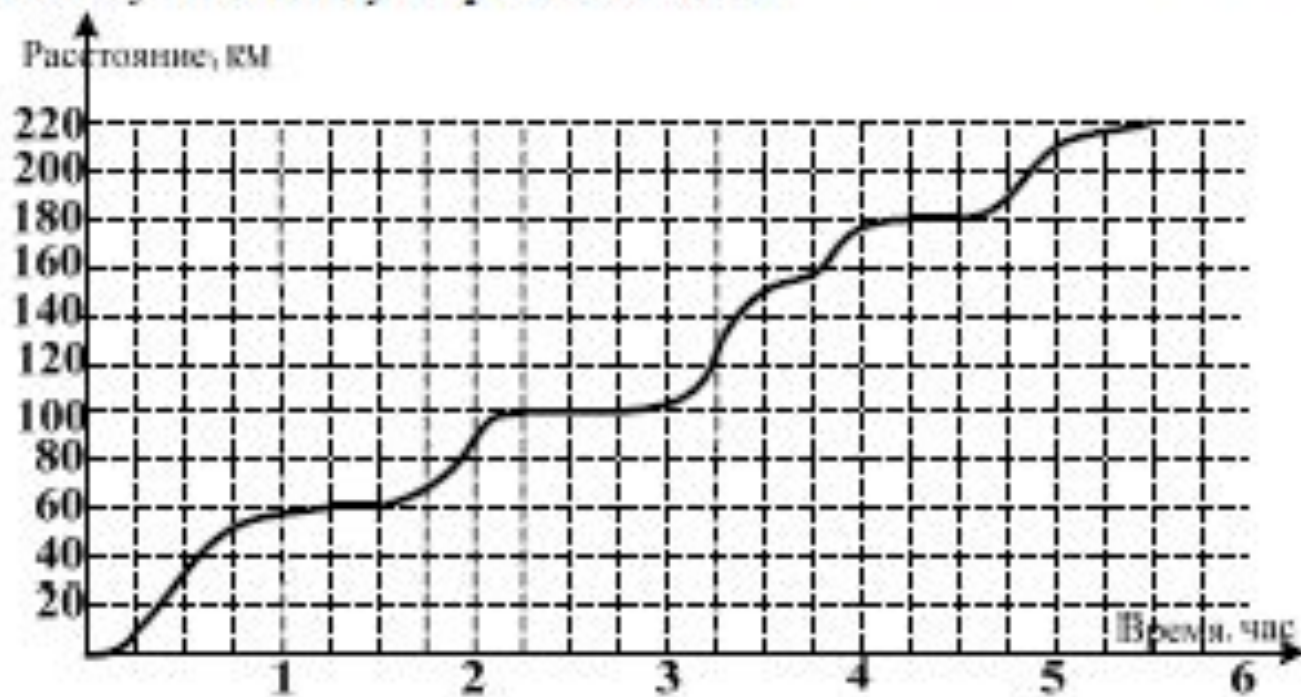


Сколько месяцев в 2000 году среднемесячная температура была ниже 5 градусов?

В2. На рисунке показано изменение скорости движения рейсового автобуса на маршруте Краснодар – Ростов. Какова суммарная длительность остановок автобуса (в минутах) на этом маршруте?



В2. На рисунке показано изменение расстояния при движении рейсового автобуса от автостанции в зависимости от времени. Сколько километров прошел автобус к моменту второй остановки?



В1. На рисунке показано изменение скорости движения рейсового автобуса на маршруте Краснодар – Ростов. Сколько остановок было сделано автобусом до прибытия в конечный пункт следования?

