



Градъ Св.ъ Анны, въ Сербіи, 1811.


Андр. Златоустовъ въ К.


















СѢШЕЛЪ НА ПЕРВЫЙ ДЕНЪ ХИТОВЪ СКАЗОВАТЬ СѢСНЬ













СВ. СВЯЩАМУЧ. ИСПОВЕДНИКЪ АВЕЛАКУИЪ,





300
ЛЕТНЕ

ВОССОЕДИНЕНИЯ УКРАИНЫ С РОССИЕЙ

1654
1954



ПЕРЕЯСЛАВСЬКА Рада

ПОЧТА СССР

1
РУБЛЬ




IOAN. CASIM. D. G. REX POL. & SUEC. M. D. L. R. PRUS.



SULTAN MUHAMMED KHAN



Wahre Abbildung DEWAN AXBANS Haupt Vebellens in Moskviem
 Welche seinen gebrüchlichen Tradel zu rächen mit Sultanmollirung etliche Dausen Cristlich auch Xantli gestrauß
 Polandt durch anfruchtung einer Armeer. Inwendt Obersten etliche son. Die reiche Handel Stadt Alraconit samt
 vielen andern Orten erlangen. Die Armaten des grossen kaysers etliche mahl auß dem Irde geschlagen. Dort
 an sich hehndt nicht fürnehmen. In irselben in solche Gefahr. Inricht. Das ihm die Krone wa
 chelt. Und also diesen Potentaten der wechtmachen. Inrom so blutig gestreift. seiner. righen verunsichert hat.



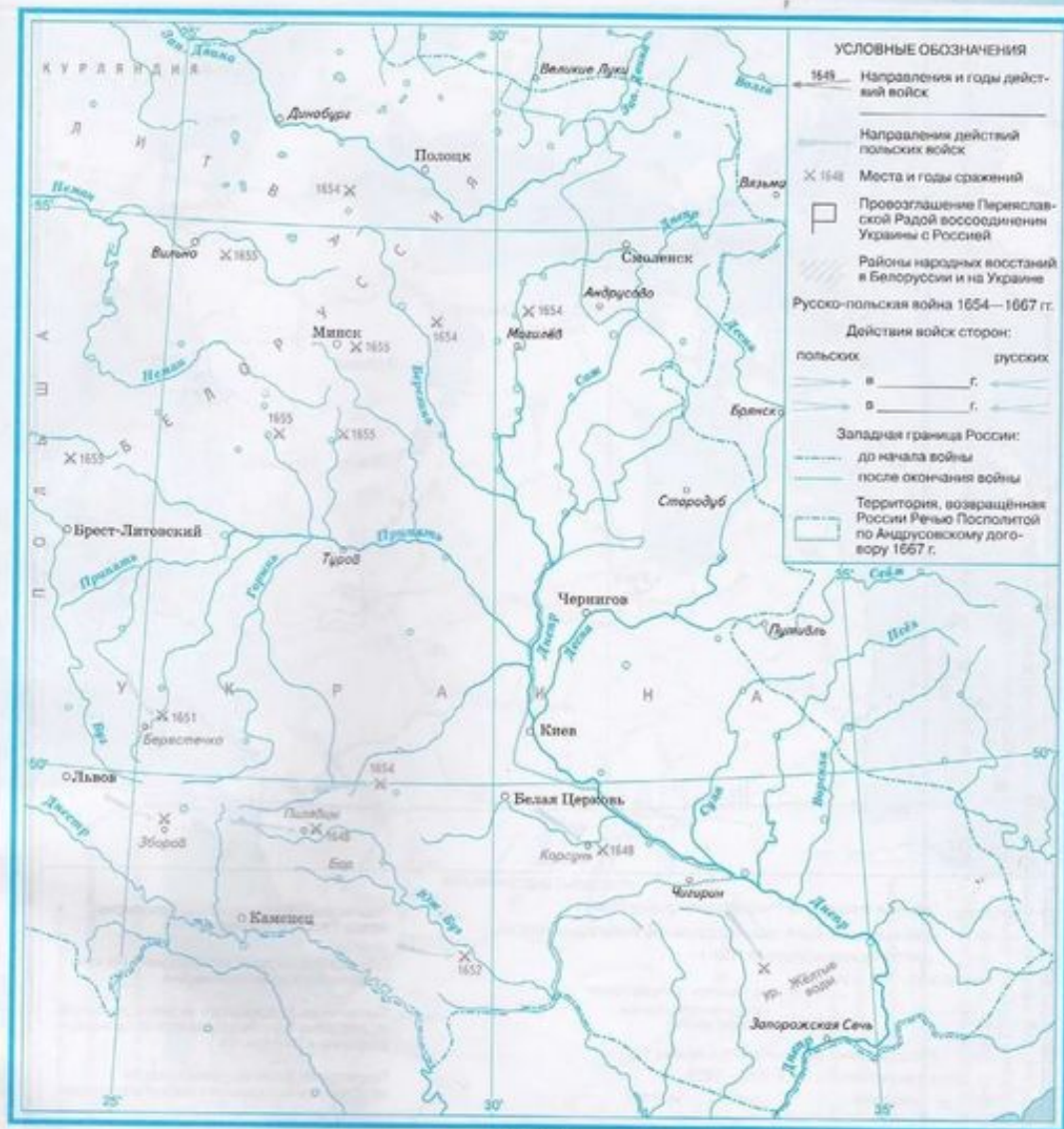






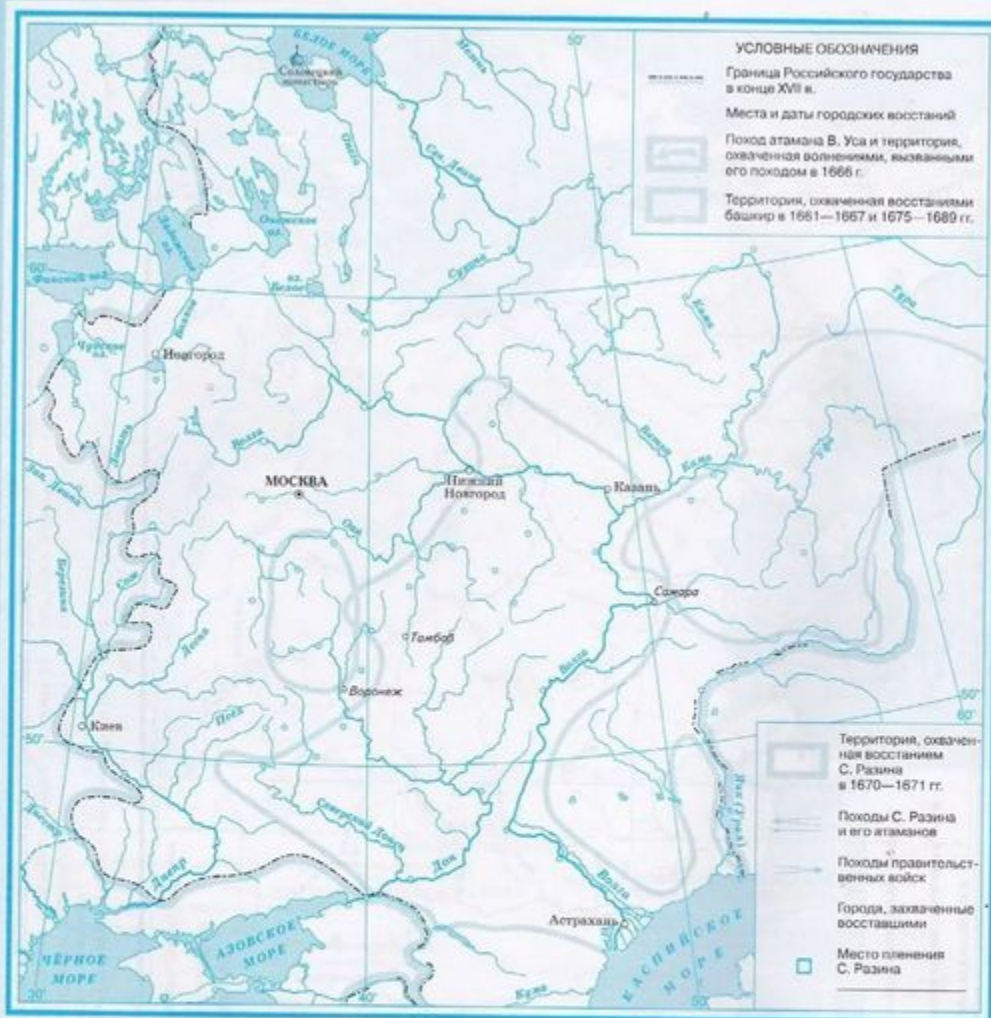


Контурные карты



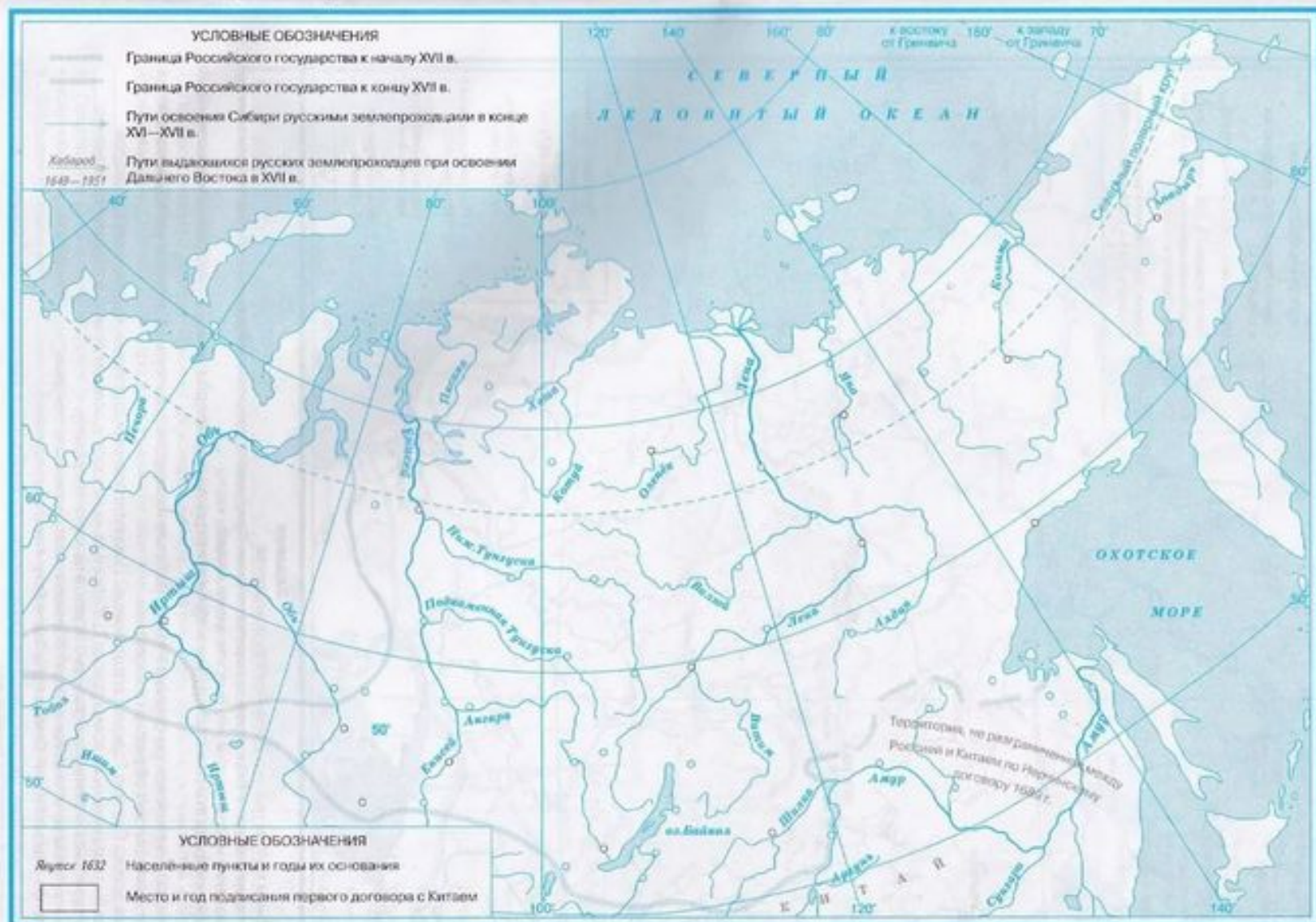
Задания

1. По материалам учебника и атласа определите, кто и когда возглавил освободительную борьбу украинского народа против Речи Посполитой. Подпишите в легенде карты его имя и нанесите направления и годы действий войск, возглавляемых им.
2. Отметьте на карте дату и место, где «...была... у Гетмана тайная Рада с Полковниками, и с Судьями, и с Войсковыми Ясаулы, — и Полковники..., и Судьи, и Ясаулы под Государеву высокую руку подклонилися».
3. Покажите стрелками разного цвета направления действий русских и польских войск в ходе войны 1654—1667 гг. Даты укажите в легенде.
4. Обозначьте штриховкой районы народных восстаний в Белоруссии и на Украине.
5. Используя атлас, сравните западную границу России до начала войны с Польшей и после её окончания и ответьте на вопрос: какие территории были возвращены России по Андрусовскому договору 1667 г.? На карте отметьте разным цветом западную границу России (до и после войны) и заштрихуйте возвращённые территории.



Задания

- Выделите цветным кантом границу Российского государства.
- Определите, в каких городах в XVII в. происходили восстания. Придумайте собственный символ и обозначьте им эти города, подписав их названия и даты восстаний. Внесите знак в легенду карты.
- Покажите стрелками поход атамана Василия Уса и обозначьте границу территории, охваченной волнениями, вызванными этим походом.
- Представьте, что вы участник похода Степана Разина. Ответьте на вопросы и выполните задания, которые позволят вам проиллюстрировать свой рассказ об участии в восстании.
 - Как двигалось войско Степана Разина и его атаманов? Покажите разными стрелками направления их походов.
 - Какие города были захвачены во время похода? Обозначьте их на карте условным знаком и подпишите названия.
 - Какая территория была охвачена восстанием? Укажите на карте её границу.
 - Как действовали правительственные войска? Обозначьте направления их походов.
 - Где был пленён Степан Разин? Отметьте на карте дату и место его пленения.
- Заштрихуйте территорию распространения народных выступлений в XVII в. Оцените масштаб социального протеста и объясните, почему вы сделали такой вывод.



Задания

- Используя атлас и материалы учебника, покажите разным цветом пути освоения Сибири и Дальнего Востока в конце XVI—XVII в. Укажите руководителей и даты проведения известных вам экспедиций.
- Подпишите названия народов Сибири и Дальнего Востока на территории их расселения.
- Подпишите названия и годы основания населённых пунктов, выделенных на карте пунсонами чёрного цвета.
- Укажите место и год подписания первого договора об установлении мирных отношений, границе и торговле с Китаем.
- Выделите границу России в начале и конце XVII в. и объясните значение расширения территории на востоке для развития страны. Свой ответ обоснуйте.