

**Таблица  
сложения.**

**Урок № 105**

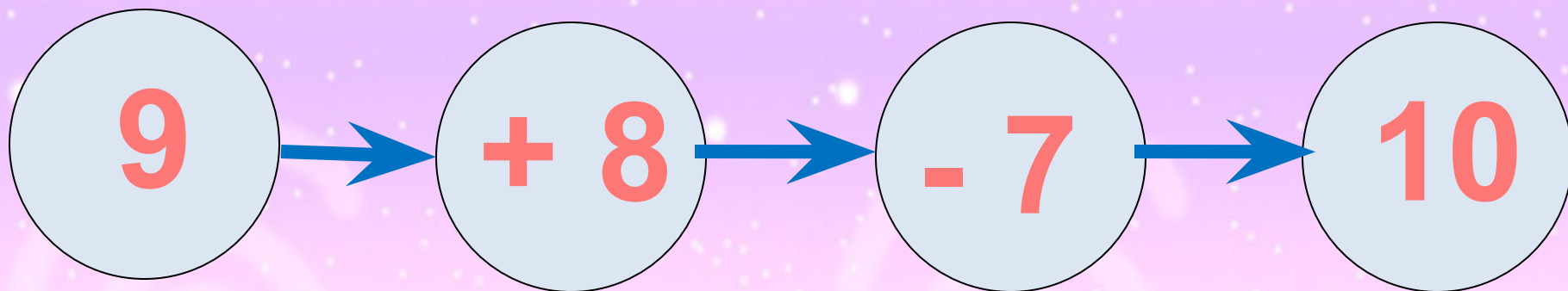
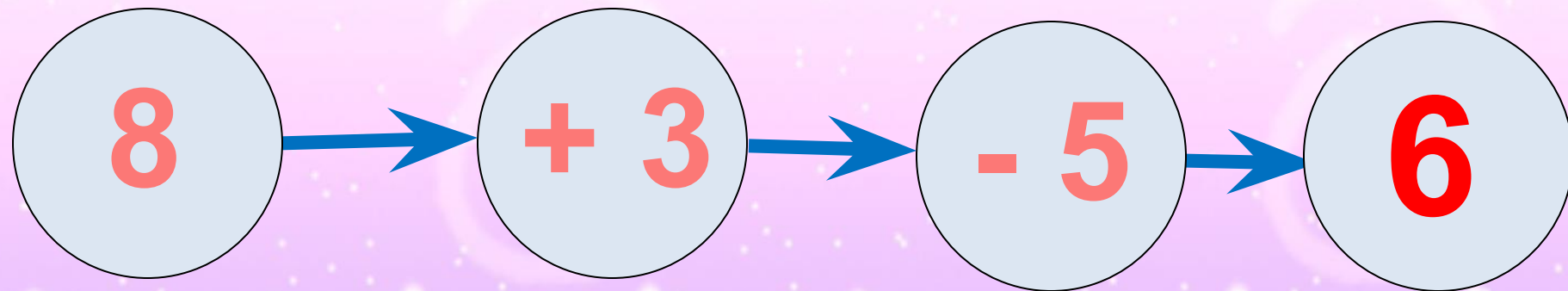
# УСТНЫЙ СЧЁТ





Найди вагончики  
с ответом 14 .

Реши цепочки примеров.






Купили **5** бананов и **7** яблок. За ужином съели **4** фрукта. Сколько всего фруктов осталось?



**8 фруктов**

$$5 + 7 - 4 = 8$$



Составьте задачи по рисункам и выражениям.




$$5 - 3$$

$$5 + 3$$



$$5 + 3 - 2$$

Над рекой летели птицы: голубь, щука, **2** синицы,  
**2** стрижа и **5** угрей. Сколько птиц? Ответ скорей.



**5 ПТИЦ**






**Галя** веселее **Оли**, а **Оля** веселее **Иры**. Кто самый веселый?

**Галя**





# РАБОТА ПО УЧЕБНИКУ



Стр. 72



# Таблица сложения

Проследи, как изменяется первое слагаемое; сумма (рассмотри столбцы, строки).

$9 + 2 = 11$

$8 + 3 = 11$

$7 + 4 = 11$

$6 + 5 = 11$

$9 + 3 = 12$

$8 + 4 = 12$

$7 + 5 = 12$

$6 + 6 = 12$

$9 + 4 = 13$

$8 + 5 = 13$

$7 + 6 = 13$

$9 + 5 = 14$

$8 + 6 = 14$

$7 + 7 = 14$

$9 + 6 = 15$

$8 + 7 = 15$

$9 + 7 = 16$

$8 + 8 = 16$

$9 + 8 = 17$

$9 + 9 = 18$

1. 1) Найди по таблице все примеры с ответом 11, 12, 13, 14, 15, 16, 17, 18.  
2) По каждому примеру на сложение составь и реши два примера на вычитание.
2. Весной Даша и Наташа были одинакового роста. За лето Даша выросла на 5 см, а Наташа — на 2 см. На сколько сантиметров одна девочка стала выше другой? Назови её имя.





3. Подбери недостающие числа. Реши задачи.
- 1) Высота стула  $\square$  дм, а стола  $\square$  дм. На сколько дециметров стол выше стула?
- 2) Миша купил ручку за  $\square$  р. и блокнот за  $\square$  р. Сколько рублей ему должны дать сдачи с 10 р.?
4. Составь верные равенства и неравенства, используя следующие числа:  
13, 8, 7, 15, 9, 6, 5.



# РАБОТА В ТЕТРАДИ

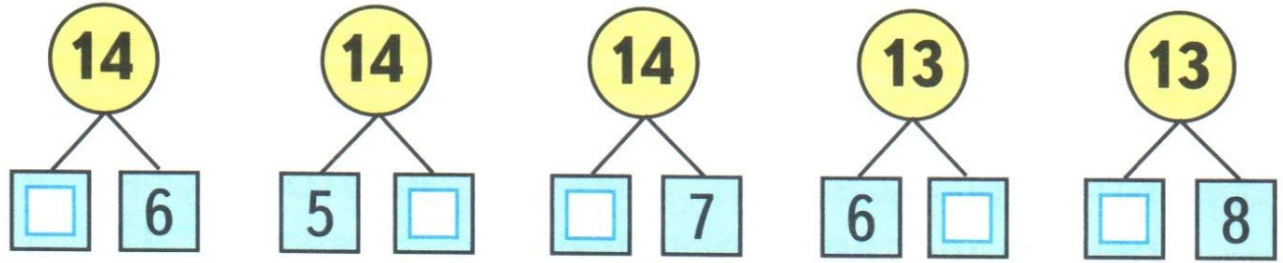


Стр. 38 (1- 3)






2



3

Начерти два отрезка длиной 9 см каждый. На первом отрезке поставь точку так, чтобы получилось два отрезка длиной 4 см и 5 см.



На втором отрезке поставь точку так, чтобы получилось два отрезка, один из которых на 5 см длиннее другого.





Реши примеры.



$$9 + 7 - 4 - 3 =$$

$$8 + 8 + 4 - 10 =$$

$$11 - 2 + 4 - 3 =$$



# ЗАДАНИЯ НА СМЕКАЛКУ





Летела стая гусей. **Один** гусь впереди, **два** - сзади. **Один** гусь между **двумя** и три гуся рядом. Сколько гусей в стае?



3



Сестра старше брата на **5** лет. На сколько лет она будет старше брата через **7** лет?



**на 5**



Двое пошли - **3** гвоздя нашли. Следом **четверо** пойдут - много ли гвоздей найдут?



**Скорей всего  
ничего не найдут.**





Шла баба в Москву и повстречала **3** мужиков.  
Каждый из них нес по мешку, в каждом мешке по **1**  
коту. Сколько существ направлялось в Москву?



**МОСКВА**

**Только баба.**

**конец**

