

Организация внеклассной работы
с обучающимися в рамках авторского
проекта **«Большая переменная»**



Лови момент!

Автор:
Горина Лариса Владимировна
учитель математики
МАОУ «Средняя школа № 1 г. Михайловска»
Свердловской области


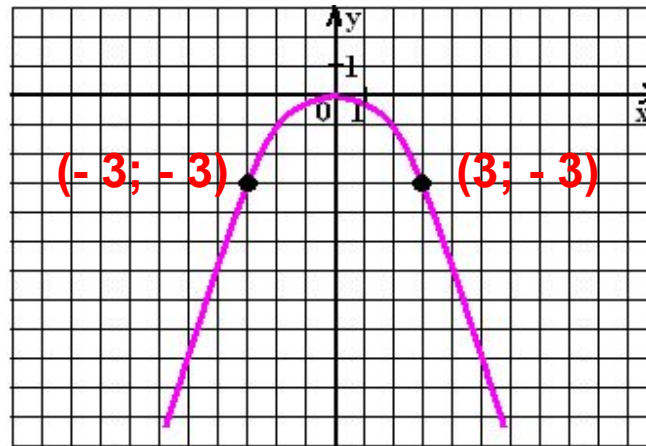
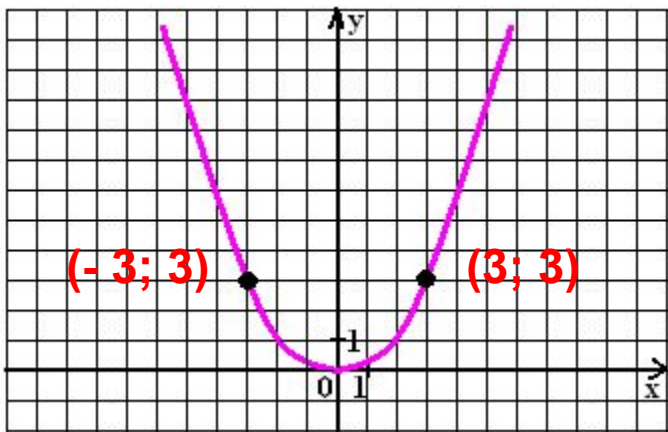
2018



Тема «Функция $y = ax^2$ и её график»

Запишите функцию, график которой изображен на рисунке.
Для нахождения значения «а» используйте контрольные точки

Тип 1. Узнавание - 1 (проверка выполнения домашнего задания)

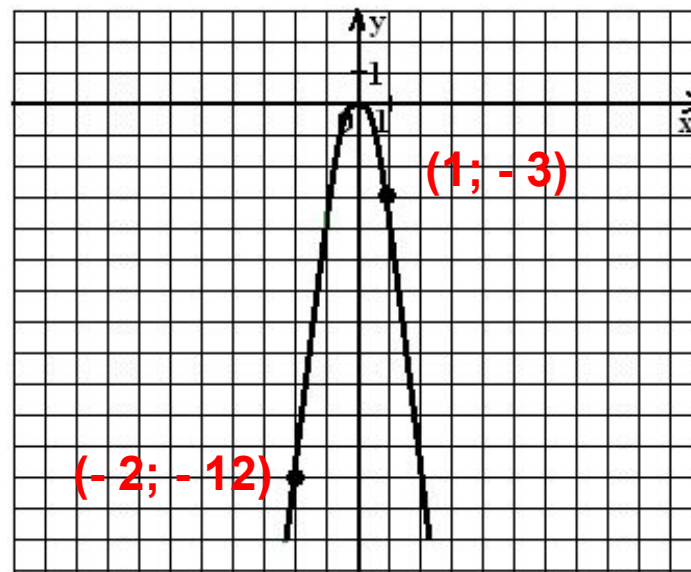
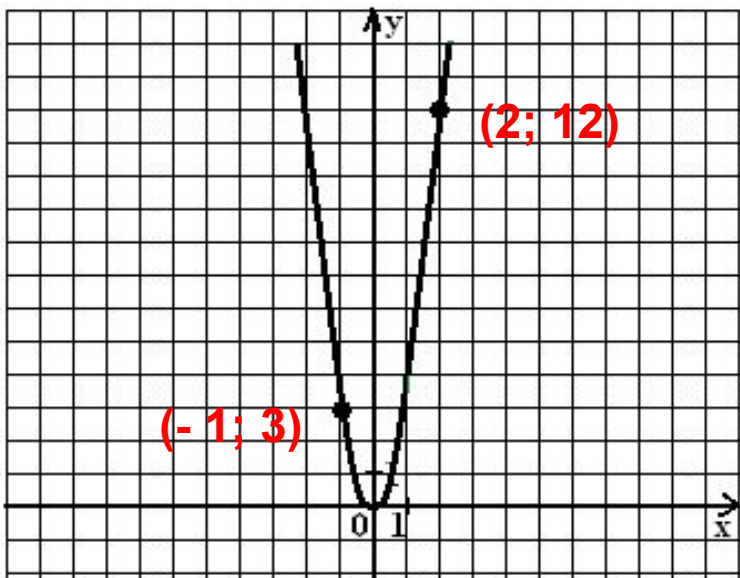




Тема «Функция $y = ax^2$ и её график»

Запишите функцию, график которой изображен на рисунке.
Для нахождения значения «а» используйте контрольные точки

Тип 1. Узнавание - 2 (проверка выполнения домашнего задания)

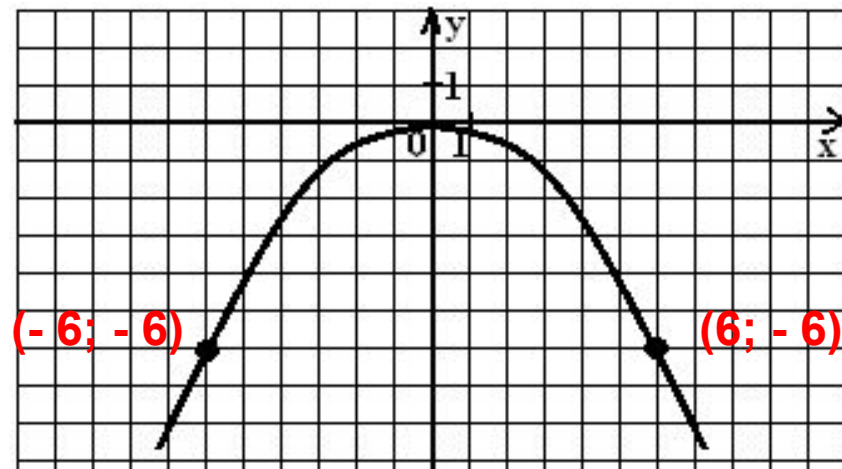
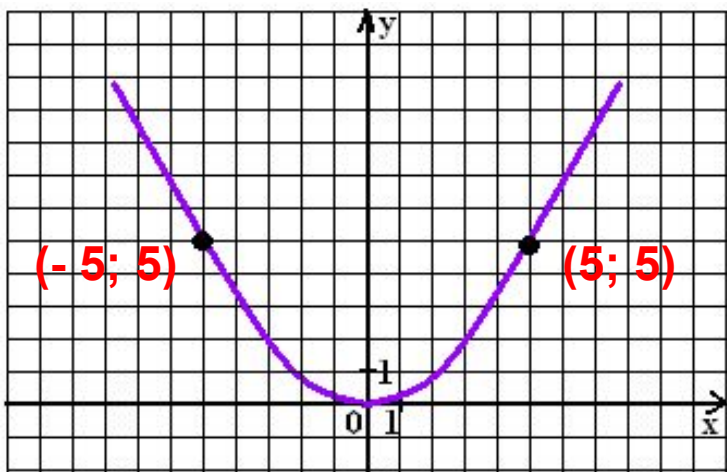




Тема «Функция $y = ax^2$ и её график»

Запишите функцию, график которой изображен на рисунке.
Для нахождения значения «а» используйте контрольные точки

Тип 2. По аналогии - 1

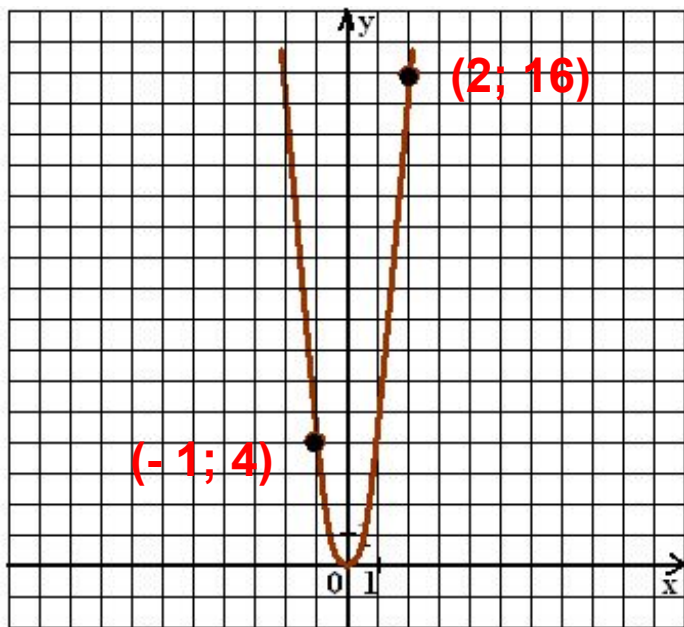


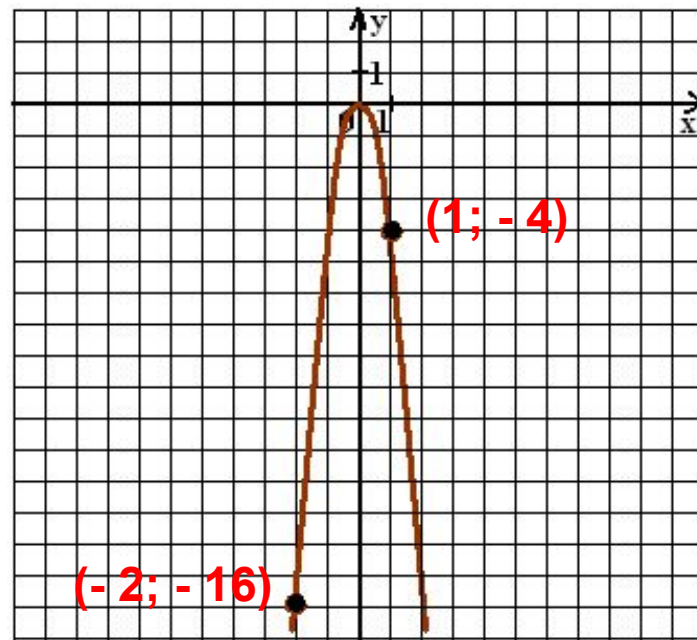


Тема «Функция $y = ax^2$ и её график»

Запишите функцию, график которой изображен на рисунке.
 Для нахождения значения «а» используйте контрольные точки

Тип 2. По аналогии - 2



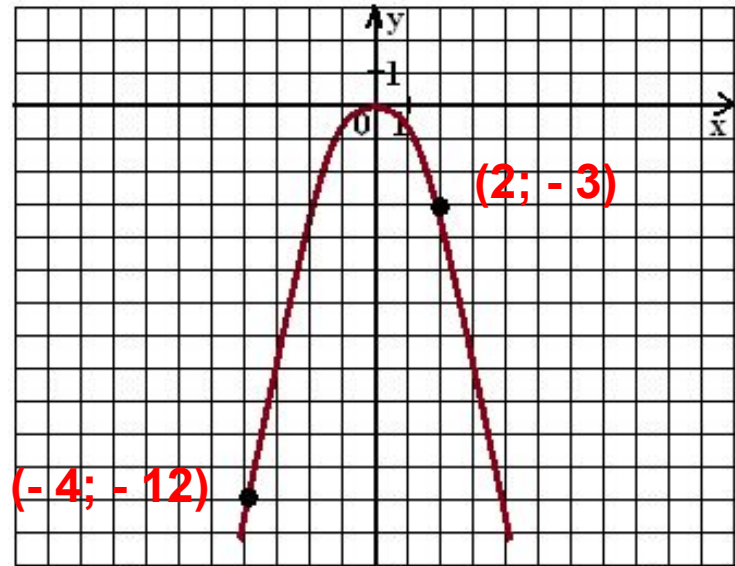
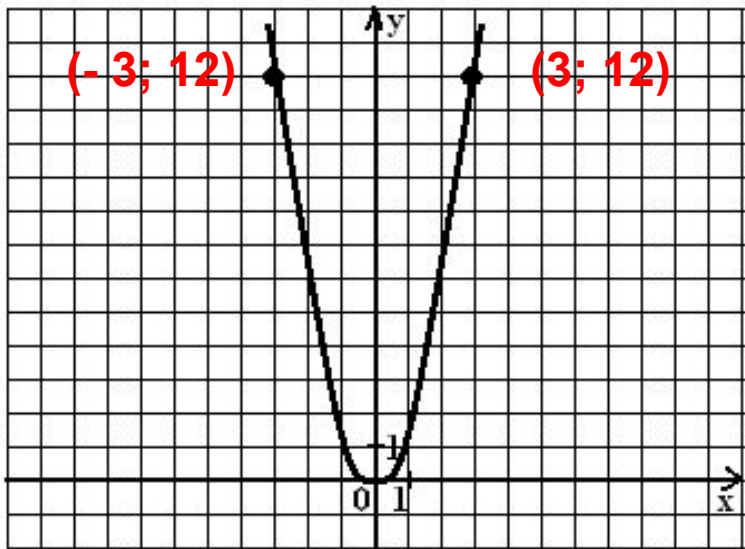




Тема «Функция $y = ax^2$ и её график»

Запишите функцию, график которой изображен на рисунке.

Тип 3. Догадайся, но запиши решение!

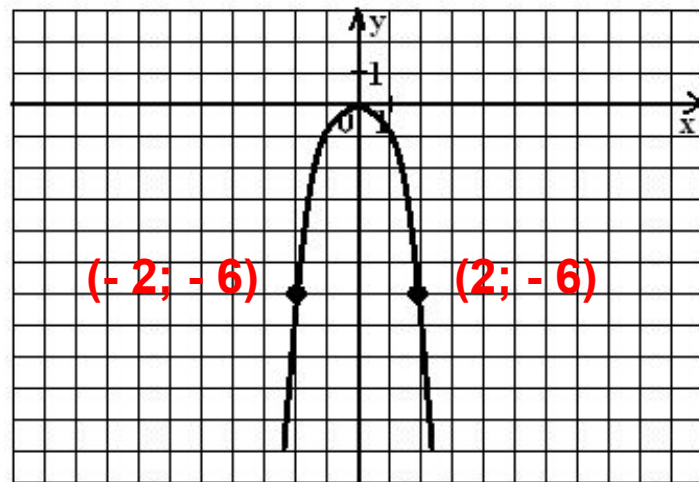
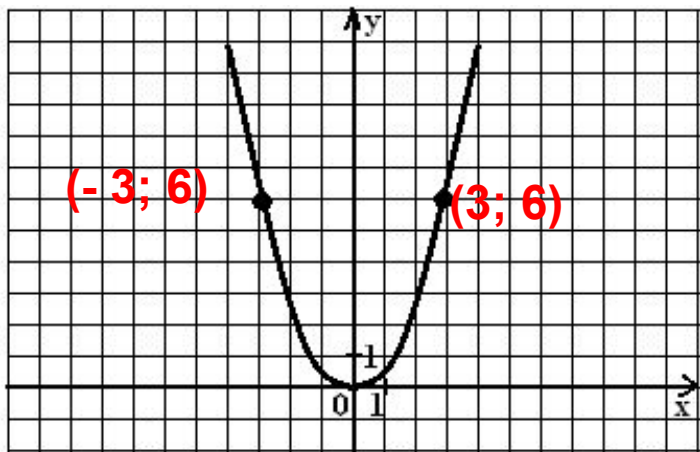




Тема «Функция $y = ax^2$ и её график»

Запишите функцию, график которой изображен на рисунке.
Для нахождения значения «а» используйте контрольные точки

Тип 3. Решите самостоятельно!





Спасибо за работу!



Ссылки



- Логотип серии «Лови момент!»
<http://www.matsuk12.us/cms/lib/AK01000953/Centricity/Domain/3911/butterfly%20boy.gif>