


ТОП-РЕПЕТИТОР

# Любимый скайп

История гвардия



# План работы на сегодня

1-Ответы на ваши вопросы

2-Разбор домашних работ

3-Нарешка и развитие скила



# Домашка за неделю

Царь Алексей Михайлович получил от современников прозвание Тишайший. Царь отличался для своего времени мягким характером, был часто снисходительным к проступкам окружающих и очень религиозным. Но его царствование ознаменовалось страшными социальными потрясениями, из-за которых столетие, на которое пришлось царствование Алексея Михайловича, вошло в историю как «бунташный век».

**Приведите не менее трёх причин социальных потрясений времён царствования Алексея Михайловича.**



**БУНД!**

**Приведите не менее трёх причин социальных потрясений времён царствования Алексея Михайловича.**



Заполните пропуск в предложении:  
«Одна из крупнейших ярмарок России в XVII–XVIII вв. — \_\_\_\_\_ обозначена на схеме цифрой "4"».



Районы товарного производства:

- хлеба
- льна и конопли
- Районы пушного промысла
- Районы соляного промысла

Крупные центры ремесленного производства:

- кузнечного
- кожевенного
- полотняного
- поташного

• Воронеж Крупные торговые города

- Ярмарки
- Важнейшие

Важнейшие мануфактуры, возник-

«Когда теперь увидели, что эта печальная непогода и буря в общем улеглись, и стали полагать, что все подготовлено для мирного, улучшенного положения, его царское величество в день, когда происходит процессия, велел вызвать народ, чтобы он явился перед ним у помоста вне Кремля, причем присутствовал здесь и вельможа Никита Иванович Романов. Его царское величество стал говорить речь. Он выразил сильное сожаление, что народ, без его ведома, испытал такие бедствия со стороны безбожных Плещеева и Тихоновича, ныне получивших заслуженное воздаяние. Он сказал далее, что ныне на их места назначены благочестивые люди, которые будут кротко и справедливо управлять народом и соблюдать пользу и благосостояние народные, находясь под бдительным его, царя, оком. Усиленный налог на соль, по его слову, должен также быть отменен. Царь обещал также, при первой возможности, взять обратно выданные им милостивые грамоты о монополиях; кроме того, он обещал расширить и увеличить их привилегии и те льготы, какие у них были. Кроме того, он сказал, что во всем будет, как отец отечества, в царской своей милости благосклонен народу. После этого народ низко наклонил перед ним свои головы и пожелал царю долгой жизни. Затем царь продолжал: что же касается личности Бориса Ивановича Морозова, которого он также обещал им выдать, то он не желает его вовсе обелять, но тем не менее не может считать его виновным во всем решительно. Он желал бы верить, что народ, у которого он еще ни разу ничего особенного не просил, исполнит эту первую его просьбу и простит Морозову на этот раз его проступки, сам он готов быть свидетелем, что Морозов отныне выкажет им только верность, любовь и все доброе. Если же народу угодно, чтобы Морозов более не занимал



Он выразил сильное сожаление, что народ, без его ведома, испытал такие бедствия со стороны безбожных Плещеева и Тихоновича, ныне получивших заслуженное воздаяние. Он сказал далее, что ныне на их места назначены благочестивые люди, которые будут кротко и справедливо управлять народом и соблюдать пользу и благосостояние народные, находясь под бдительным его, царя, оком. Усиленный налог на соль, по его слову, должен также быть отменен. Царь обещал также, при первой возможности, взять обратно выданные им милостивые грамоты о монополиях; кроме того, он обещал расширить и увеличить их привилегии и те льготы, какие у них были. Кроме того, он сказал, что во всем будет, как отец отечества, в царской своей милости благосклонен народу. После этого народ низко наклонил перед ним свои головы и пожелал царю долгой жизни. Затем царь продолжал: что же касается личности Бориса Ивановича Морозова, которого он также обещал им выдать, то он не желает его вовсе обелять, но тем не менее не может счесть его виновным во всем решительно. Если же народу угодно, чтобы Морозов более не занимал должности

**1. После какого события и в каком году произошла встреча царя с народом, о которой рассказывается в документе? О каком царе идет речь?**

**2. Используя текст, укажите не менее трех обещаний царя народу.**

**3. Какой документ был принят в связи с описываемыми событиями? Как этот**

- 1. После какого события и в каком году произошла встреча царя с народом, о которой рассказывается в документе? О каком царе идет речь?**
- 2. Используя текст, укажите не менее трёх обещаний царя народу.**
- 3. Какой документ был принят в связи с описываемыми событиями? Как этот документ изменил правовое положение населения?**

Как прежние цари, после царя Ивана Васильевича, выбраны на царство: и с них были взяты письма, что им быть не жестоким... без суда и без вины никого не казнить ни за что, и мыслить о всяких делах с боярами и с думными людьми сообща, а без ведомости их тайно и явно никаких дел не делать. А нынешнего царя выбрали на царство, а письма он на себя не дал никакого, что прежние цари давали, и не спрашивали, потому что разумели его гораздо тихим, и потому выше пишется «самодержцем» и государство своё правит по своей воле. И с кем похочет учинить войну и покой, и по покою что кому по дружбе отдать, или какую помощь чинить, или и иные всякие великие и малые своего государства дела по хочет по своей мысли учинить, с боярами и с думными людьми спрашивается о том мало, в его воле, что хочет, то учинить может; однако кого из бояр и из думных, и из простых людей любит и жалует, спрашивает и советуется с ними о всяких делах. А отец его, блаженной памяти царь Михаил Фёдорович, хотя «самодержцем» писался, однако без боярского совету не мог делать ничего...

**1. Укажите имя "нынешнего царя".**

**2. Укажите годы его правления.**

**3. О каком изменении характера власти по сравнению с предыдущим правлением пишет автор? Приведите подтверждение этих изменений с опорой на текст**

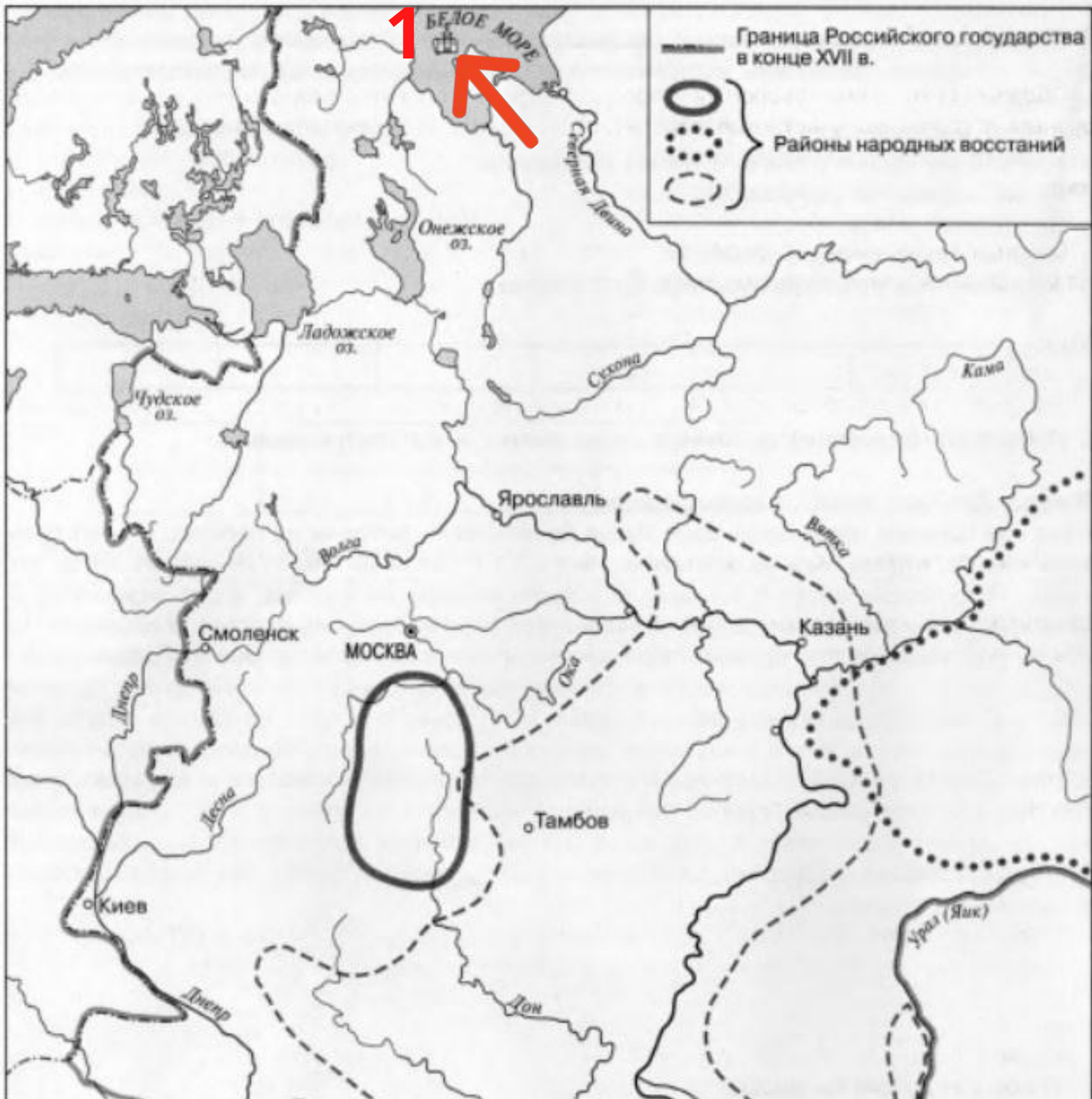
**1. Укажите имя "нынешнего царя".**

**2. Укажите годы его правления.**

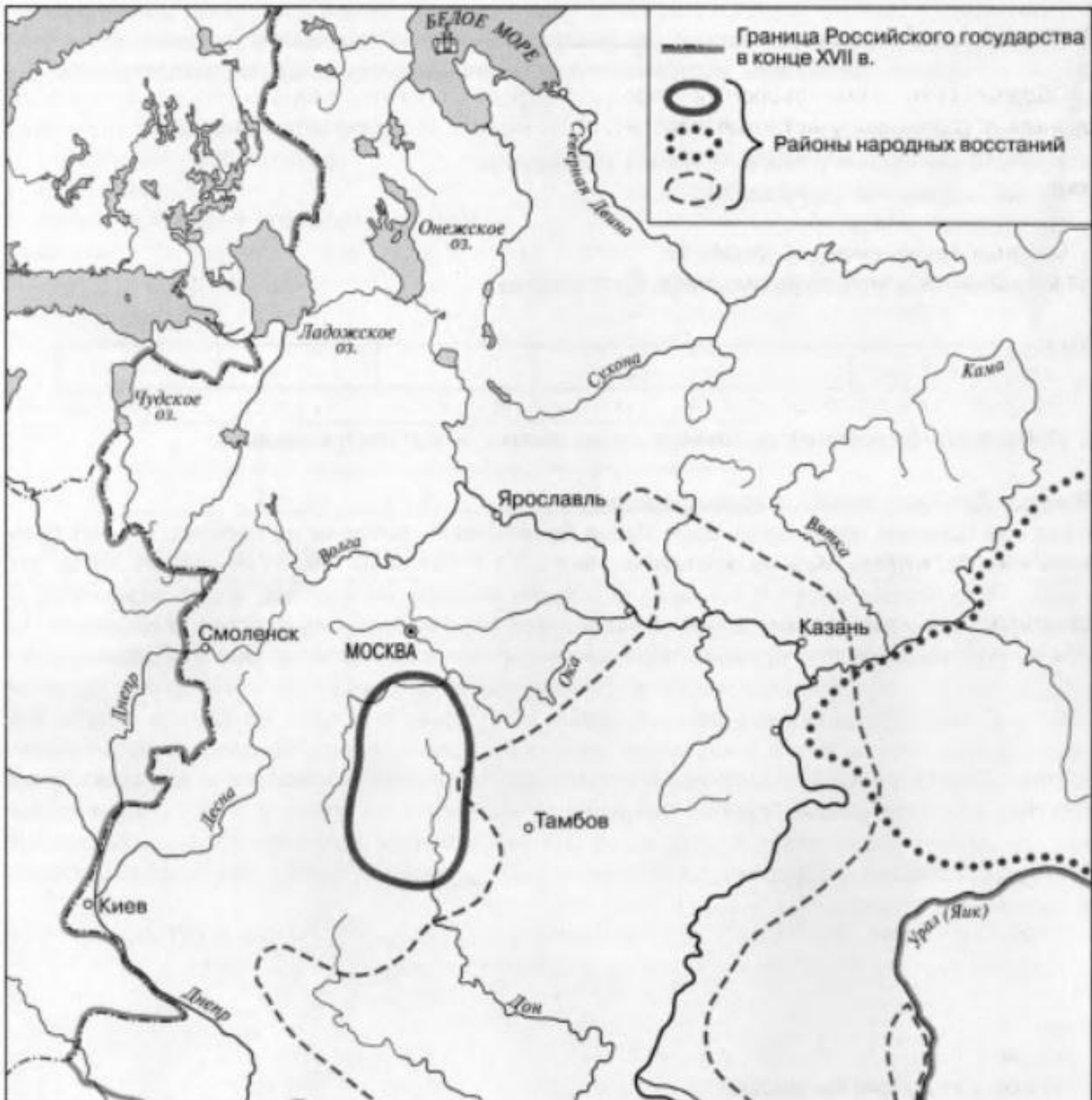
**3. О каком изменении характера власти по сравнению с предыдущим правлением пишет автор?**

**Приведите подтверждение этих изменений с опорой на текст источника.**

**4. Чем автор объясняет данное изменение?**



Напишите название  
объекта под цифрой  
"1".



Укажите предводителя восстания, район которого обозначен на схеме пунктирной линией.



Напишите название ярмарки, проходившей недалеко от города, обозначенного на схеме цифрой "3".



Напишите название города под цифрой "4", который был единственным морским портом Российского государства в период, отражённый на схеме.



Запишите термин, о котором идёт речь.

Нашедшая отражение в Новоторговом уставе политика Российского государства, ставившая цель с помощью ограничительных мер защитить отечественных предпринимателей.

Установите соответствие между путешественниками и их открытиями: к каждой позиции первого столбца подберите соответствующую позицию из второго столбца.

### ПУТЕШЕСТВЕННИКИ

- А) С. И. Дежнёв
- Б) В. В. Атласов
- В) В. Д. Поярков
- Г) Е. П. Хабаров

### ОТКРЫТИЯ

- 1) открыл пролив между Азией и Америкой
- 2) совершил экспедицию на Камчатку
- 3) осуществил поход в Даурию, составил карту земель по Амуру
- 4) исследовал Аляску
- 5) написал «Хождение за три моря»
- 6) провёл экспедицию из Якутска по рекам Лена, Алдан, Амур до Охотского моря

В 15в. российское боярство крепко держалось за право местничества. А бояре говорили: «То им смерть, что без мест быть». Однако в начале 80-х гг. 17в. царь Федор Алексеевич отменил местничество.


**Какими причинами была обусловлена эта мера?**

**Какое значение имела отмена местничества?**



2. 2. Какое значение имела отмена местничества? Не менее 3-х значений.

««Церковная реформа патриарха Никона способствовала прогрессу в развитии русского общества».»



««Церковная реформа патриарха Никона способствовала прогрессу в развитии русского общества.»»

За:

2

4


««Церковная реформа патриарха Никона способствовала прогрессу в развитии русского общества».»

Против:

2

4

# НАРЕШИВАЕМ







Назовите  
российского  
государя, к  
царствованию  
которого относятся  
события,  
обозначенные на  
схеме.



Напишите название города, обозначенного на схеме цифрой «2».



Укажите век, когда произошли события, обозначенные на схеме стрелками.



- 1) Российский государь, в царствование которого происходили обозначенные на схеме события, был первым представителем своей династии на троне.
- 2) Началу войны, событиям которой посвящена схема, предшествовало крупное восстание на территории обозначенного на схеме цифрой «1» государства.
- 3) Война, событиям которой посвящена схема, продолжалась менее десяти лет.
- 4) По условиям перемирия, завершившего войну, событиям которой посвящена схема, обозначенный на схеме цифрой «3» город через два года должен был быть возвращён противнику, но Россия оставила его за собой.
- 5) В период войны, событиям которой посвящена схема, в российской войске были образованы

«...Внутренняя политика Алексея Михайловича отражала двойственный характер его времени. Тишайший царь хотел соблюсти обычаи старомосковской Руси, но он же, видя успехи западных стран, стремился перенять их достижения и укоренить их в Московии. Россия балансировала между отеческой стариной и европейскими новшествами. Алексей Михайлович не провёл реформ, ломающих "московское благочестие", во имя европеизации, как позже сделал его современник и решительный сын Петр Великий. Потомки и историки по-разному оценивали правление Алексея Михайловича: одни негодовали на "слабого Алексея", другие видели в том истинную мудрость правителя».

**Какие аргументы приводят историки, характеризуя**

В 1652 г. на патриарший престол был избран патриарх Никон, пользовавшийся полным доверием молодого царя Алексея Михайловича. Патриарх начал реформы, которые, по его мнению и мнению царя, должны были укрепить российское православие.

**Назовите два**

**преобразования,**

**проведённых Никоном.**

**Укажите один основной**

**итог его преобразований**

**для церкви.**



**Назовите два преобразования, проведённых Никоном. Укажите один основной**

**31**

**итог его преобразований для церкви.**

Ниже приведён перечень терминов. Все они, за исключением двух, относятся к периоду Смутного времени.

- 1) Самозванец
- 2) старообрядец
- 3) семибоярщина
- 4) тушинский вор
- 5) коллегии





Ниже приведён перечень терминов. Все они, за исключением двух, относятся к событиям, явлениям XVI–XVII вв.

- 1) Заповедные лета
- 2) белые слободы
- 3) ордынский выход
- 4) урочные лета
- 5) закупы



Ниже приведён перечень терминов. Все они, за исключением двух, относятся к событиям, явлениям XVI–XVII вв.

- 1) заповедные лета
- 2) погосты
- 3) подворная подать
- 4) урочные лета
- 5) ордынский выход



## Запишите пропущенное понятие (термин).

1) В XVII в. лично свободных крестьян, владевших общинными землями и несших повинности государству, называли \_\_\_\_\_.

2) Важный в истории России процесс, характеризуемый понятиями «Юрьев день», «урочные лета», «бессрочный сыск беглых крестьян», называется \_\_\_\_\_ крестьян.

3) Установленный в конце XVI в. срок сыска беглых крестьян, в течение которого они возвращались прежним владельцам. Был увеличен в 1642 г. и отменён с

7. Установите соответствие между терминами и временем их появления.

ТЕРМИНЫ

ВЕКА

А) баскаки

1) XI в.

Б) вира

2) XIII в.

В) приказы

3) XIV в.

Г) стрельцы

4) XV в.

5) XVI в.

8. Установите соответствие между процессами (явлениями, событиями) и фактами, относящимися к этим процессам (явлениям, событиям): к каждой позиции первого столбца подберите соответствующую позицию из второго столбца.

А) конец Смуты в Российском государстве в начале XVII в.

1) укрепление самодержавной формы правления

Б) результат государственных преобразований Петра I

2) политический кризис в верхах

В) «министерская чехарда» в 1916 г.

3) переход от территориального принципа управления к отраслевому

Г) реформа середины – второй половины XVI в.

4) воцарение новой династии

5) отмена крепостного права

6) изменение порядка престолонаследия



1) на фотографии изображен портрет (парсуна) царя Алексея Михайловича

2) портрет хранится в Золотых кладовых Эрмитажа

3) парсуна создана в XVII в.

4) данная форма живописи получила активное развитие в России XVIII в.

5) в руках царя, изображённого на портрете,  и пет  на его голове — держава.



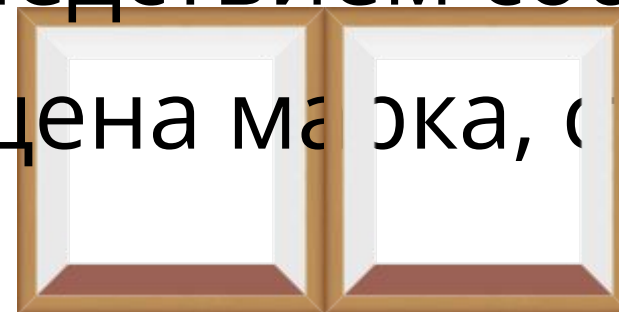
1) Инициатором события, которому посвящена марка, был Б. М. Хмельницкий.

2) Данная марка была выпущена в 1960-х гг.

3) События, отражённые на картине, изображённой на марке, происходили в Москве.

4) В год издания данной марки часть территории РСФСР была передана Украинской ССР.

5) Последствием события, которому посвящена марка, стала Смоленская война.



Вся наша жизнь - это  
экспедиции Российских  
первопроходцев 17  
века.

Мы движемся вперёд, в  
неизведанное, не зная,  
что же нас ждёт  
(завтра)





Спасибо за

TOP-SCHOOL 2020  
Скайп!