


# ГИА ОГЭ БЛОК ВОСЬМОЙ


*Задания, в которых необходимо  
определить географические  
координаты*

1. Определите, какой город, являющийся столицей республики в составе Российской Федерации, имеет географические координаты

62° с. ш., 24° в. д.



2. Определите, какой город, являющийся столицей одной из южноамериканских стран, имеет географические координаты  $34^{\circ}$  ю.ш.,  $58^{\circ}$  з.д.



3. Определите, какой город, являющийся одним из крупнейших на Черноморском побережье России, имеет географические координаты  $44^{\circ}$  с.ш.,  $33^{\circ}$  в.д.



4. Определите, какой город, являвшийся столицей Летних Олимпийских игр, имеет географические координаты  $19^{\circ}$  с.ш.,  $99^{\circ}$  з.д.




5. Определите, какой город, являющийся одним из крупнейших на Дальнем Востоке Российской Федерации, имеет географические координаты  $43^{\circ}$  с ш.  $131^{\circ}$  в д.



6. Определите, какой город, являющийся одной из европейских столиц моды, имеет географические координаты  $48^{\circ}$  с.ш.,  $2^{\circ}$  в.д.



7. Определите, какой город, являющийся  
автомобильным центром Поволжья России,  
имеет географические координаты  
 $56^{\circ}$  с.ш.,  $44^{\circ}$  в.д.





8. Определите, какой город, являющийся столицей страны «утренней росы», имеет географические координаты  $37^{\circ}$  с.ш.,  $126^{\circ}$  в.д.



9. Определите, какой мыс, являющийся  
крайней материковой точкой Российской  
Федерации, имеет географические  
координаты

66° 10' с.ш. 100° 00' в.д.




10. Определите, какой мыс, являющийся  
крайней материковой точкой Австралии,  
имеет географические координаты  
 $28^{\circ}$  ю.ш.,  $153^{\circ}$  в.д.



11. Определите, какой город, являющийся столицей республики в составе Российской Федерации, имеет географические координаты

62° 10' 00" N




12. Определите, какой город, являющийся столицей одной из североамериканских стран, имеет географические координаты  $45^{\circ}$  с.ш.,  $75^{\circ}$  з.д.



13. Определите, какой город, являющийся одним из крупнейших на Балтийском побережье России, имеет географические координаты

50° с. ш., 30° в. д.



14. Определите, какой город, являвшийся столицей Зимних Олимпийских игр, имеет географические координаты  $49^{\circ}$  с.ш.,  $123^{\circ}$  з.д.



15. Определите, какой город, являющийся одним из крупнейших в Западной Сибири Российской Федерации, имеет географические координаты

57° 05' N  
65° 00' E





16. Определите, какой город, являющийся одной из азиатских столиц моды, имеет географические координаты  $35^{\circ}$  с.ш.,  $139^{\circ}$  в.д.



17. Определите, какой город, являющийся химическим центром Сибири России, имеет географические координаты  $54^{\circ}$  с.ш.,  $73^{\circ}$  в.д.



18. Определите, какой город, являющийся столицей страны «картвели», имеет географические координаты  $41^{\circ}$  с.ш.,  $44^{\circ}$  в.д.



19. Определите, какой мыс, являющийся  
крайней материковой точкой Российской  
Федерации, имеет географические  
координаты

77° 10' 10"



20. Определите, какой мыс, являющийся  
крайней материковой точкой Африки, имеет  
географические координаты  
 $34^{\circ}$  ю.ш.,  $20^{\circ}$  в.д.



# БЛОК ВОСЬМОЙ

## Верные ответы:

1. Петрозаводск

2. Буэнос-Айрес

3. Севастополь

4. Мехико

5. Владивосток

6. Париж

7. Н. Новгород

8. Сеул

9. м. Дежнева

10. м. Байрон

11. Якутск

12. Оттава

13. Санкт-

Петербург

14. Ванкувер

15. Тюмень

16. Токио

17. Омск

18. Тбилиси

19. м. Челюскин

20. м. Игольный