

Математика 5-6 лет

«В гостях у зайчика»





Презентацию
подготовили
воспитатели:
Смирнова Е.С.
Урман А.В.


ЗАДАЧИ:

- Закреплять знания цифр первого десятка.
- Закреплять навыки порядкового счета (прямой и обратный порядок в пределах 10), правильно отвечать на вопросы «сколько?» «какой по счету?»
- Совершенствовать умение ориентироваться в пространстве, сравнивать предметы по величине
- Формировать умение понимать отношения рядом стоящих чисел, определять пропущенное число в числовом ряду
- Продолжать учить решать математическую задачу, читать запись задачи.
- Развивать логическое мышление, зрительную память, внимание.

Посчитай сколько друзей пришло к зайчику в гости



10



А теперь друзья зайчонка подготовили для тебя задания, будь внимательным при выполнении заданий!




Сколько
Правильно!
медвежат?
Выбери
правильный
ответ.

2

3

1



Назови цифры по порядку.

(По щелчку мышки они найдут своё место!)

8

4

2

10

6

7

1

9

5

3

Назови цифры в обратном порядке от 10 до 1.
(По щелчку мышки они появятся)

10 9 8 7 6 5 4 3 2 1


На листочке сидели 3 божьи коровки.
Одна улетела.
Сколько божьих коровок осталось на
листочке?

Найди равенство,
соответствующее
картинке. Нажми на
него.



$$2 + 1 = 3$$

$$3 - 2 = 1$$

$$3 - 1 = 2$$



Каким по счёту
справа налево
Правильно
красный кружок?
Нажми на звёздочку
с правильным
ответом



Правильн

О!
Какая фигура
расположена
слева
от ? Нажми на
фигуру.



Какой карандаш
Правильн
длинный?
Нажми на него.



Какое число
пропущено? Нажми
на звездочку с
правильным
ответом


6

8

10




Какое неравенство
Правильн
соответствует
картинке?



$4 > 5$

$3 < 4$

$4 < 5$



Молодец!

**Ты справился со всеми
заданиями!**

