

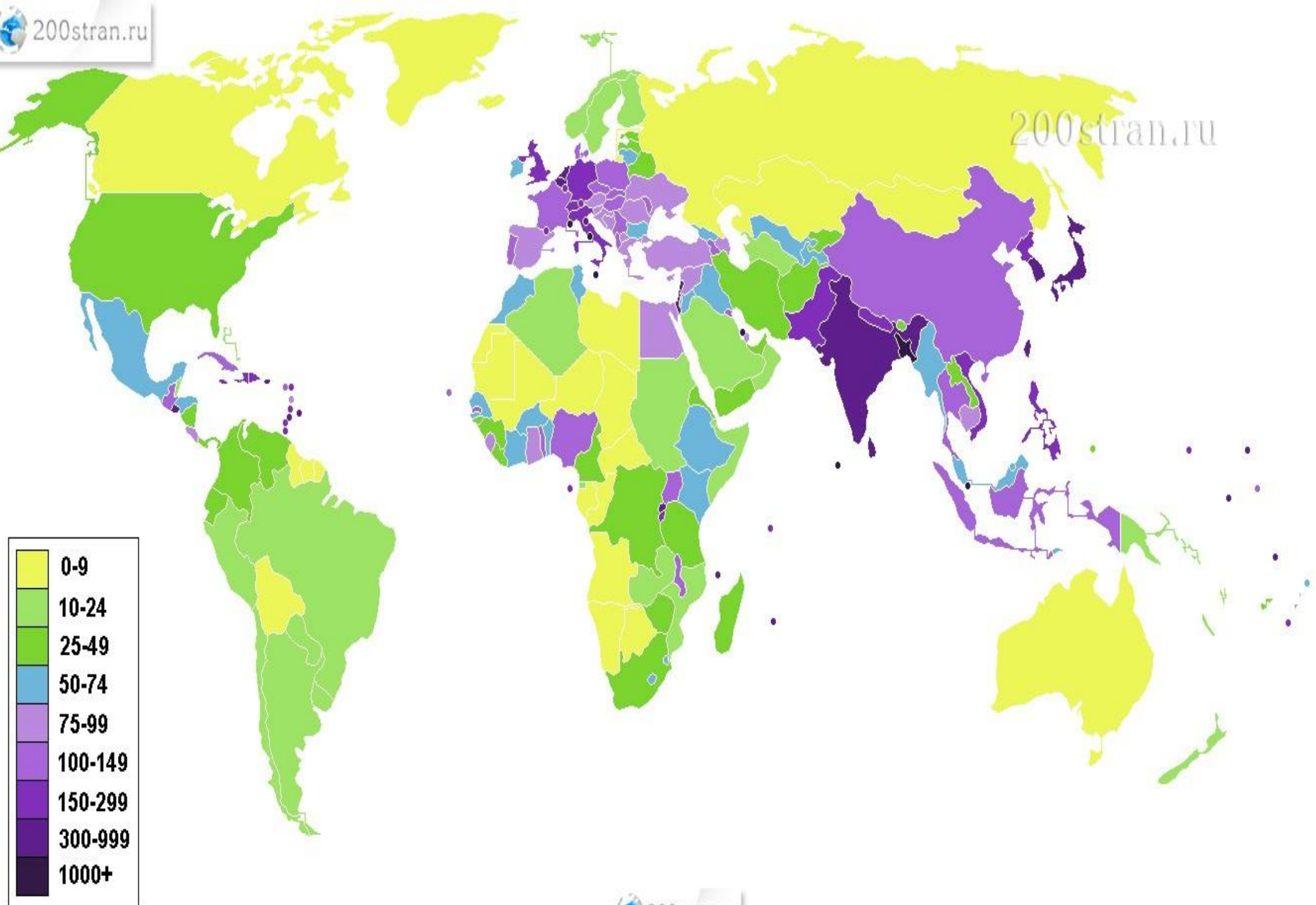
7 сынып

**Тақырып: Картаны қолдана отырып, халық
тығыздығы ең жоғары және ең төмен
аудандарды анықтау**

Оқу мақсаттары

1. Картаны қолдана отырып, халық тығыздығы ең жоғары және ең төмен аудандарды анықтау.
2. Халық тығыздығы картасын талдау.

Халық тығыздығы картасы

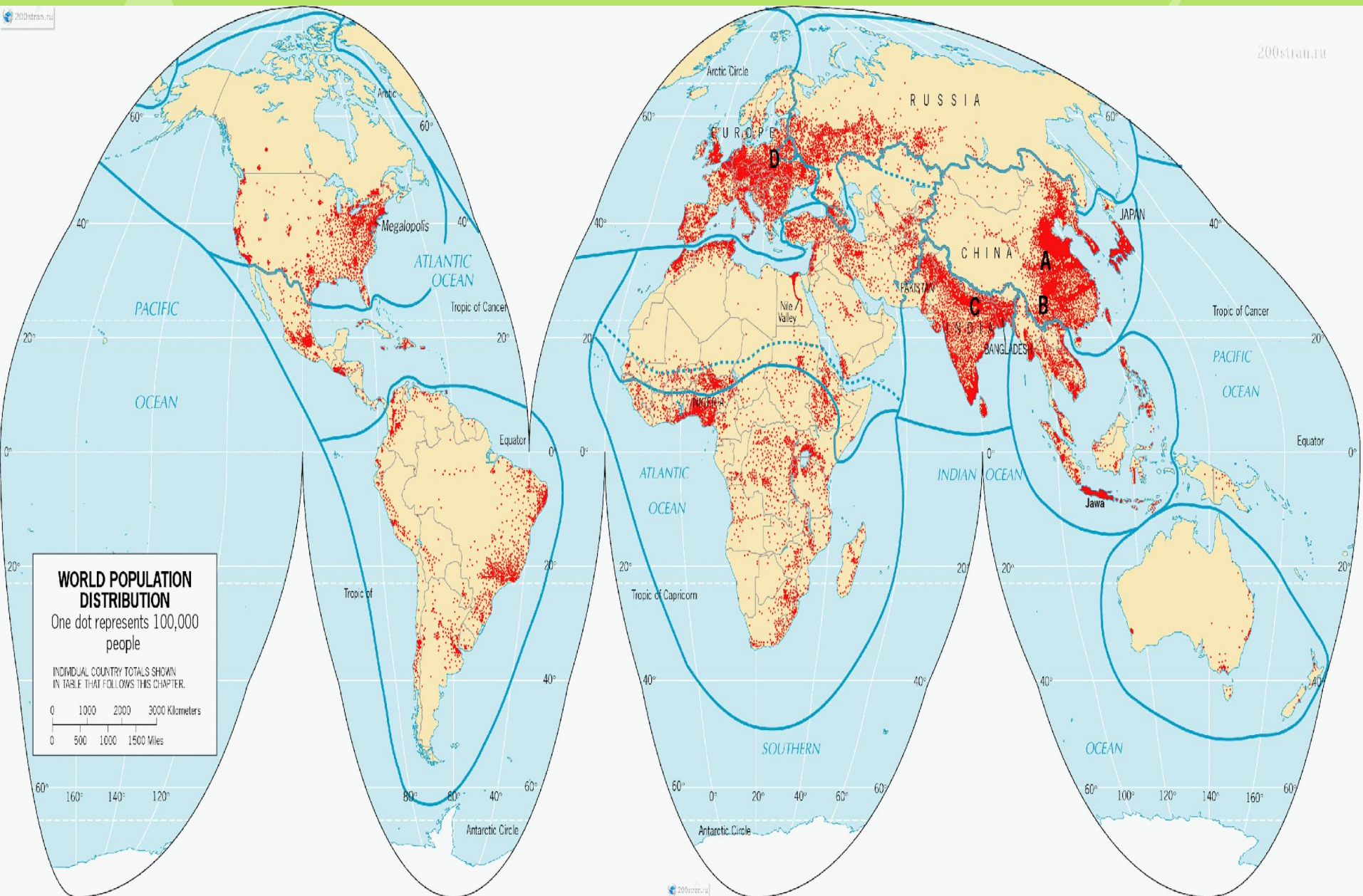


Средняя плотность населения по регионам

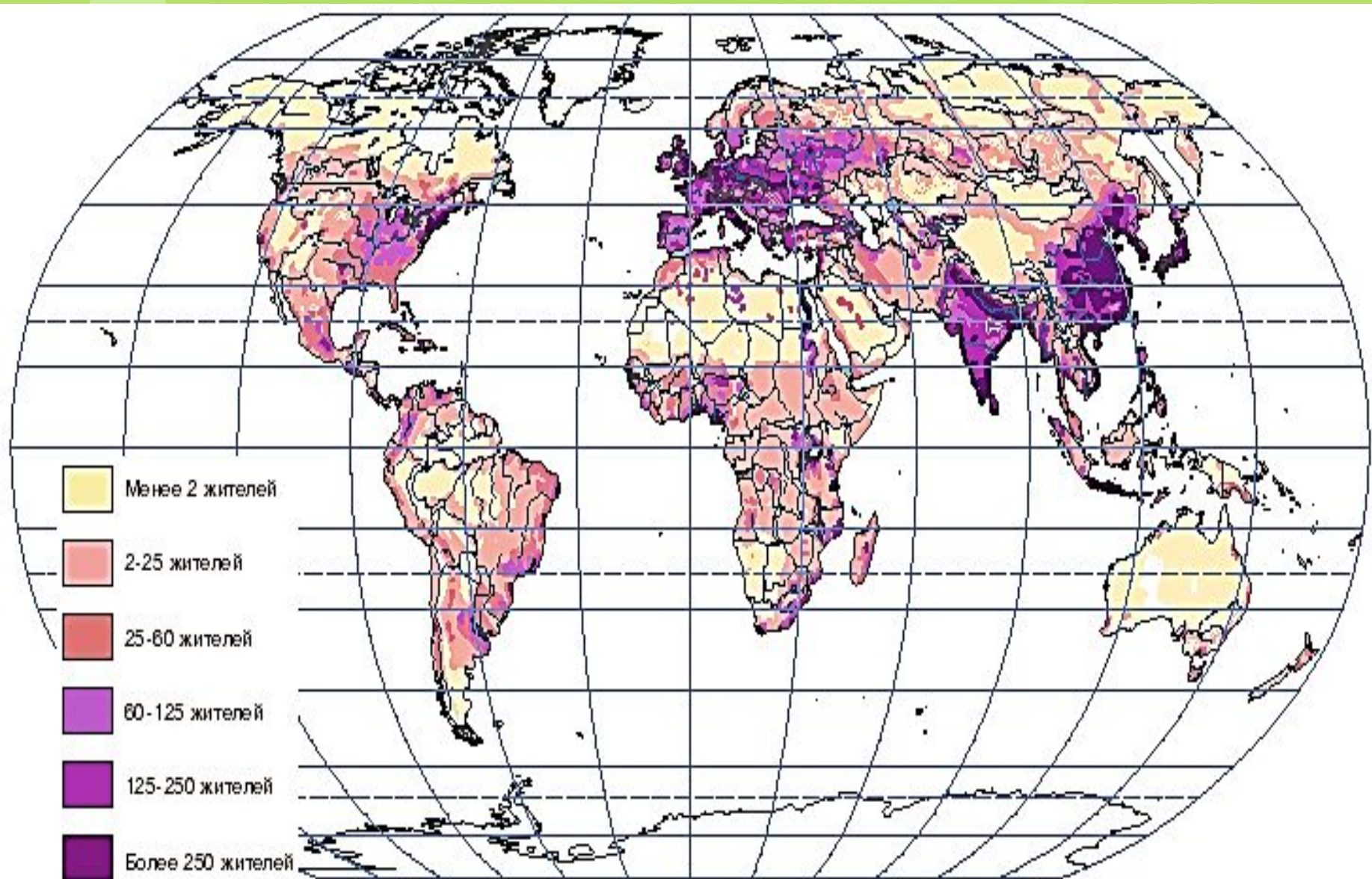
чел/км²



Халық тығыздығы картасын пайдалана отырып халық тығыз орналасқан аумақтарды атаңдар

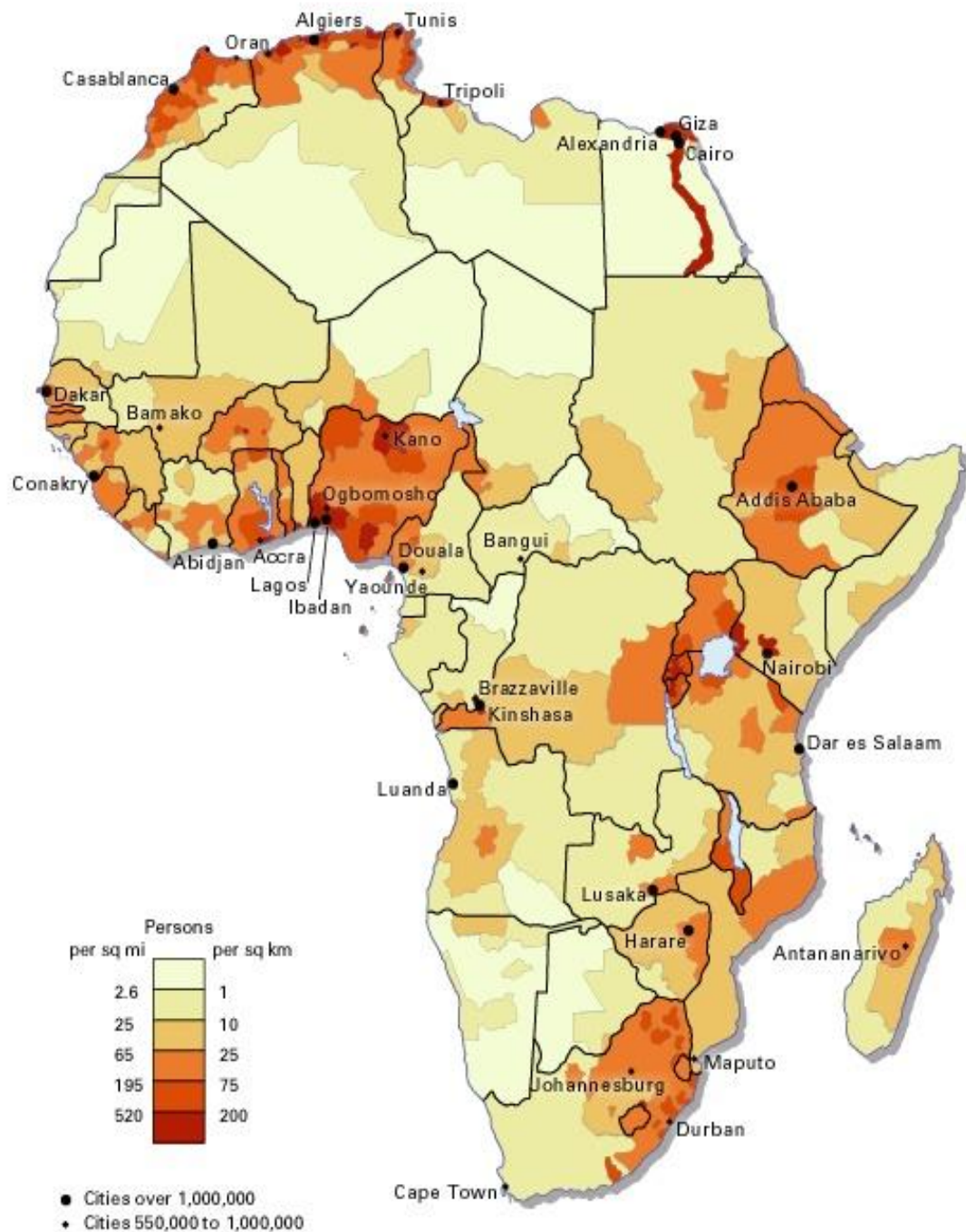


Халық тығыздығы картасындағы тығыздық шкаласын пайдалана отырып аумақтарға сипаттама беріңдер



Тапсырма

Африка материгі
бойынша
тығыздығы ең
жоғары және ең
төмен елдерді
анықтаңдар



Сәйкестендіру тесті «+» және «-» белгісін қойындар

Елдер	Халық тығыздығы төмен	Халық тығыздығы жоғары
АҚШ		
Канада		
Мексика		
Гватемала		



Тапсырма

Материктер бойынша халық тығыздығының өсу ретімен орналастырындар



Үй жұмысы

Төмендегі аймақтар бойынша халық тығыздығын табыңдар

1. Солтүстік Аустралия
2. Еуразия материгінің Азиялық солтүстік бөлігін
3. Оңтүстік Америка орталығын

Пайдаланылған әдебиеттер

1. Интернет сайттары: ru.wikipedia.org/wiki/demography.academic.ru,
www.theglobaleducationprogect.org/earth/human-conditions.php
2. Население мира. Этнодемографический справочник ,С. И. Брук, Издательство: "Наука" (1986)