




В стране математики



Веселые задачи



Белки и орех

Белки для потехи
Щёлкали орехи.
Как расколется орех,
Слышен белок звонкий
смех!

Сосчитать бы только
Раскололи сколько?
Посчитай ещё и те,
Что остались в скорлупе.

Три зайчонка, пять ежеат
Ходят вместе в детский сад.
Посчитать вас попрошу,
Сколько малышей в саду?



8

9

7



Яблочки

Яблоки в саду поспели,
Мы отведать их успели
Пять румяных, наливных,
Два с кислинкой.
Сколько их?

7

8

3



Таня в лукошко грибы
собрала.

В подарок друзьям своим
принесла

Два Сережке, два Антошке,
И еще два брату Лёшке?

Ты сиди, не зевай!

Все грибы пересчитай!




6



Белка-мастерица



Ай да белка-мастерица!
Вяжет деткам рукавицы.
Извязала три клубка,
Два лежат ещё пока.
У кого ответ готов,
Сколько у неё клубков?



My



Во дворе играли дети.
Всех их вместе было десять.
Семь мальчишек среди них.
А девчонок?

Сколько их?

3





Физминутка



Сколько ёлочек зелёных,
Столько сделаем наклонов.

Приседаем столько раз,
Сколько бабочек у нас.

А притопнем столько раз,
Сколько ёжиков у нас.

А прихлопнем столько раз,
Сколько белочек у нас.





В ГОСТЯХ У ПЧЕЛЫ

Пролетела сорока по лесу и сообщила, что пчелы будут зверей медом угощать. Первым к улью прибежал медведь с бочонком. Второй прискакала белочка с кружкой. Третьим примчался заяц с миской. Четвертой пришла лиса с кувшином. Пятым приковылял волк.

Вопросы.

Каким по счету примчался к улью заяц?
У кого была самая маленькая посуда?
У кого была самая большая посуда?



КТО БУДЕТ ПОЧТАЛЬОНОМ

Собрались звери на поляне, чтобы почтальона выбрать. Объявили соревнование: кто прибежит первым к финишу, тот и будет почтальоном. Первым прибежал заяц. Второй была лиса. Третьей прискакала белка. Четвертым домчался лось. Пятым добежал волк. Шестым прикатился еж. Седьмым приковылял медведь.

Вопросы

Кто в лесу будет почтальоном?

Каким по счету прибежали к финишу: лиса? (лось? еж? и т.д.)





Зайцы в огороде

Проголодались зайцы и решили залезть в огород полакомиться. В огороде овощей видимо-невидимо. Один заяц сорвал капусту, другой – свеклу, третий – морковь и репу. Четвертый – огурец и кабачок. Самый маленький зайчонок сорвал лук и чеснок. Вдруг увидели зайцы сторожа и бросились наутек. Добежали до пригорка, стали овощи раскладывать. А старый заяц посмотрел на них и как рассмеется: «Зайчонок, зачем ты лук и чеснок – рвал? Почему зайцы его не едят?»

Вопросы

Сколько зайцев собралось в огород?

Сколько всего овощей сорвали зайцы?



Волк и Лиса на Рыбалке

Собрались лиса и волк на рыбалку. Лиса взяла маленькую удочку с короткой леской, а волк-жадина подумал: «Возьму-ка я самую большую удочку с длинной-предлинной леской – больше рыбы наловлю». Сели ловить рыбу. Лиса только успевает рыбу вытягивать: то карася, то леща, то сома, то щуку. А волк поймал одну плотвичку, стал ее из реки тянуть, да в длинной леске и запутался. Пока распутался, уже и домой пора идти.

Вопросы

Кто больше наловил рыбы, почему?

Сколько всего рыб наловили волк и лиса?



Придумай задачи по картинкам и запиши решения.



--	--	--	--	--

--	--	--	--	--




--	--	--	--	--

--	--	--	--	--




--	--	--	--	--

РАБОТАЕМ В ТЕТРАДЯХ



Нарисуй в тетради синих кругов на один меньше, чем лимонов



Нарисуй в тетради красные квадраты так, чтобы их было на один больше, чем груш

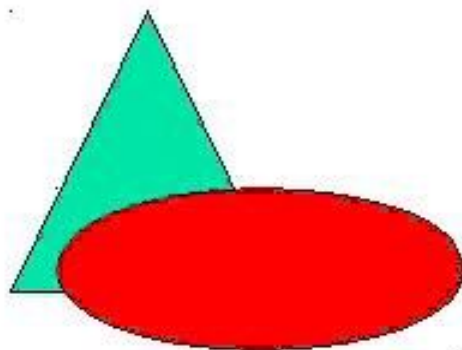


Нарисуй в тетради столько же зеленых
треугольников, сколько грибов





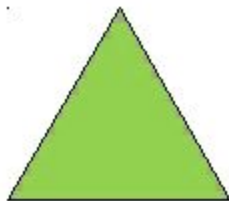



Ориентировка в пространстве.



- Сказать, что слева от треугольника, что справа, что впереди.

Назови фигуры, которые находятся
слева и справа от овала


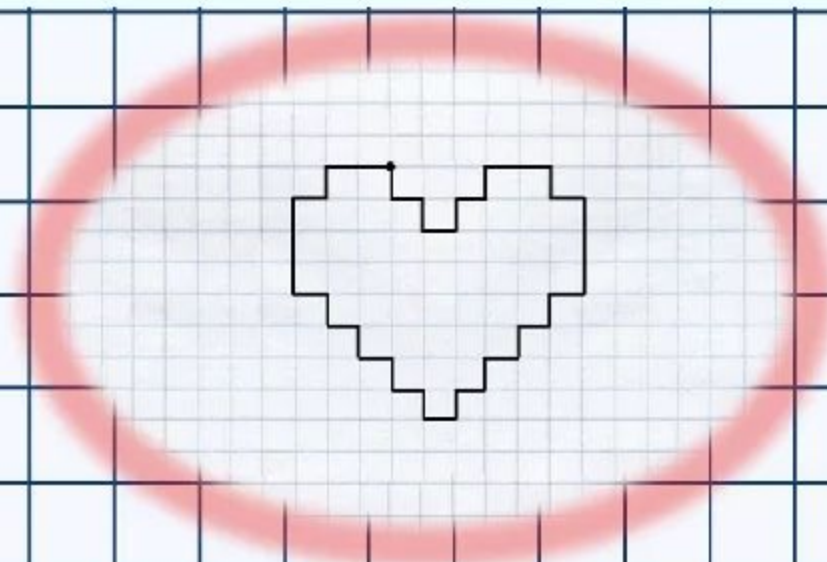


Графический диктант

Отступи 4 клетки сверху и 5 клеток от левого края.

Поставь точку и начинай рисовать.

1 ↓		1 →		1 ↓		1 →		1 ↑		1 →
1 ↑		2 →		1 ↓		1 →		3 ↓		1 ←
1 ↓		1 ←		1 ↓		1 ←		1 ↓		1 ←
1 ↓		1 ←		1 ↑		1 ←		1 ↑		1 ←
1 ↑		1 ←		1 ↑		1 ←		3 ↑		1 →
1 ↑		2 →								



МОЛОДЦЫ!