

Килограмм

Литр

Сантиметр

Дециметр

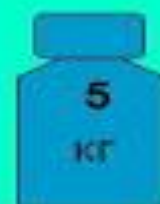
# Общепринятая единица измерения массы.

1 килограмм



1 КГ

Гири



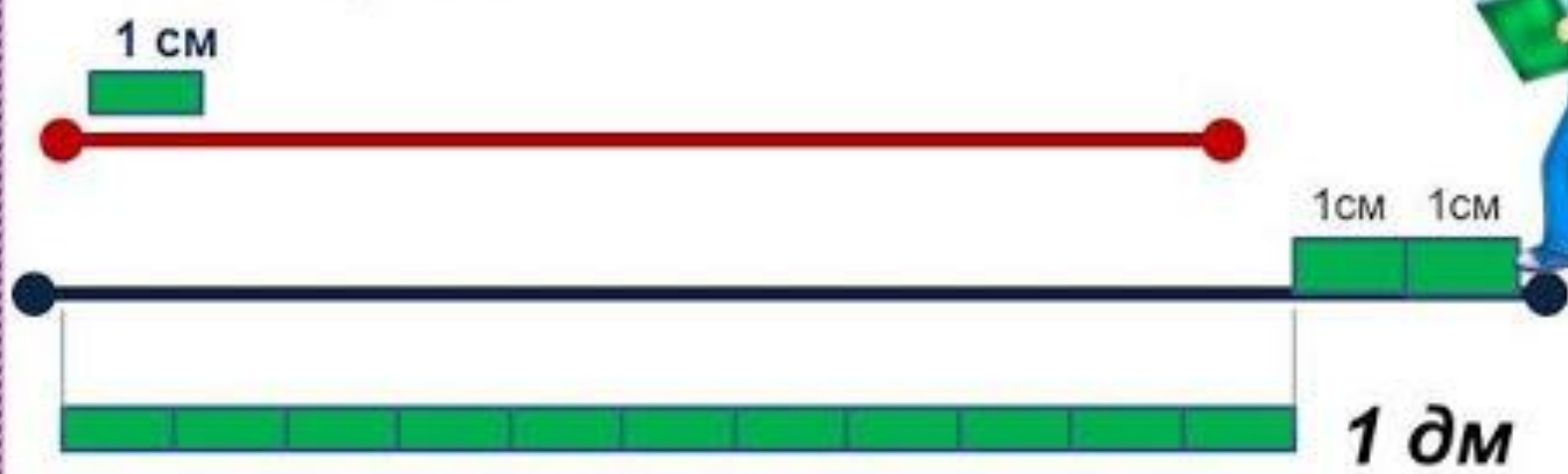
# Единица вместимости - литр



**1л**



1. Помоги Мише измерить длину этих отрезков этой меркой.



**1 дм = 10 см**

**1 дм 2 см = 10 см + 2 см = 12 см**



1 сантиметр – мера длины  
1 дециметр – мера длины



1 Сравни.

12 кг  16 кг

2 л + 5 л  6 л

14 см  11 см

1 дм 5 см  18 см



2 Начерти отрезок АБ длиной 1 дм 2 см и отрезок ДМ длиной 11 см. Какой отрезок длиннее и на сколько сантиметров?

3 Заполни пропуски такими числами, чтобы получились верные записи.

14 см =  дм  см

16 см =  дм  см

12 см =  дм  см

19 см =  дм  см

4 От счёта, полученного в магазине, случайно оторвали кусок (см. рисунок). Попробуй узнать, сколько денег заплатили за карандаш.

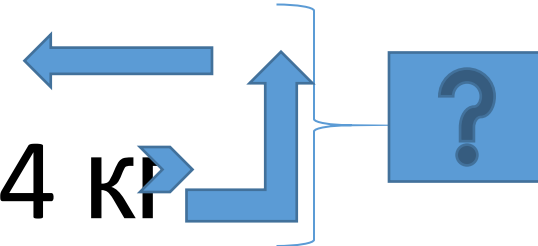
Наименование товара	Стоимость
Ручка	3 р.
Карандаш	
Тетрадь	7 р.
Итого:	15 р.

## **ЗАДАЧА.**

В магазин привезли зелёные и красные яблоки.

Зеленых яблок привезли 5 килограммов, а красных на 4 килограмма больше. Сколько всего килограммов яблок привезли в магазин?

Зеленые – 5 кг  
Красные - ?, на 4 кг



The diagram consists of a horizontal blue arrow pointing left from the text '5 кг' to the text '?'. A vertical blue arrow points upwards from the text '?' to the text '5 кг'. A blue bracket on the right side of these two arrows points to a blue square containing a white question mark.