


Состав числа

5

с 36 — 37



5	
4	
3	
2	
	4



Подготовила учитель начальных классов Аксенова Е.А.

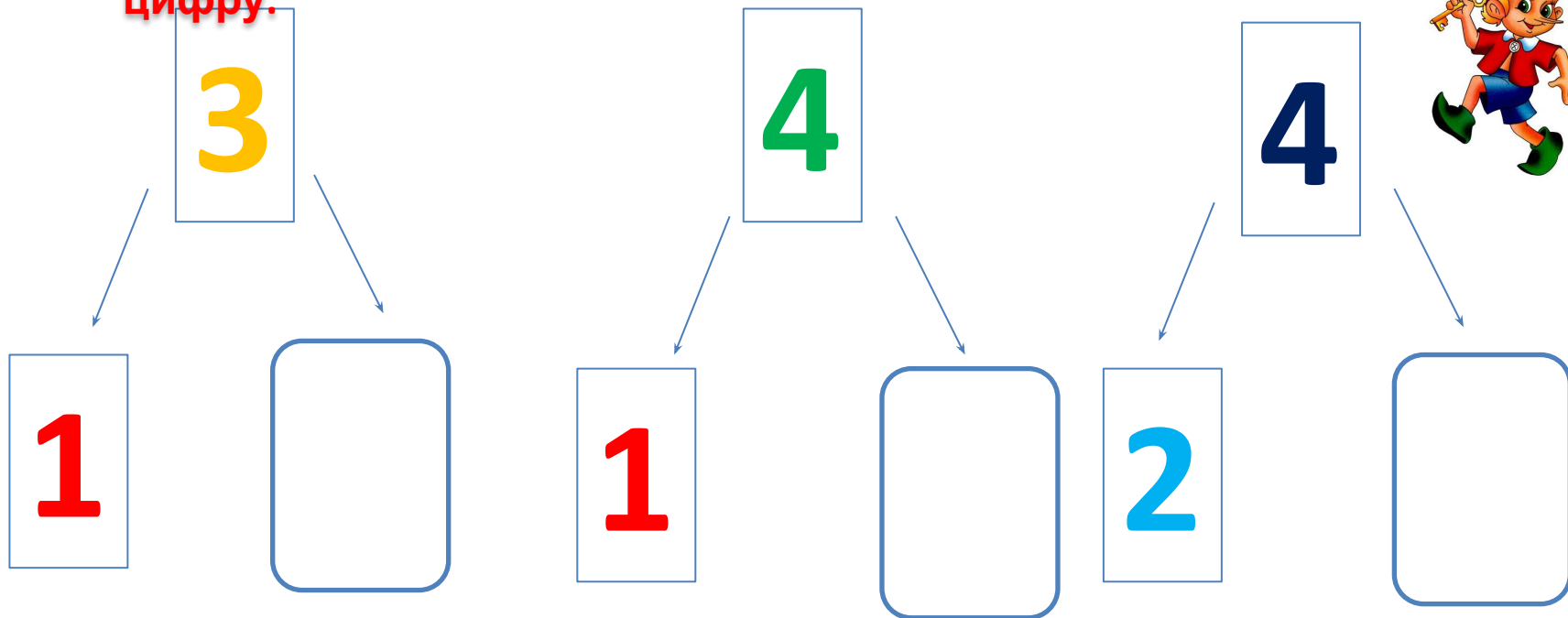
Устный

Счет в прямом и обратном порядке. Щелкни один раз на изображение Буратино.

счет


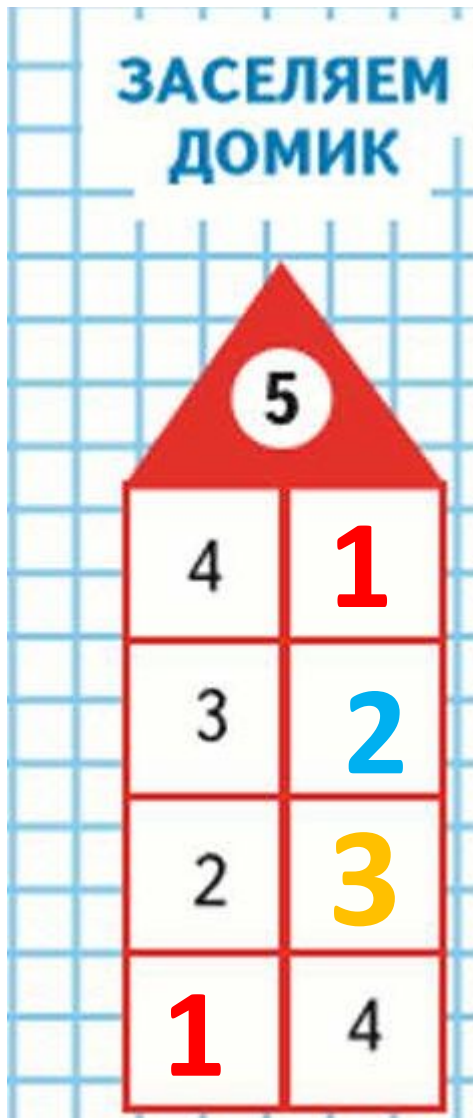


Повтори состав числа 3 и 4. Для проверки щелкни на цифру.



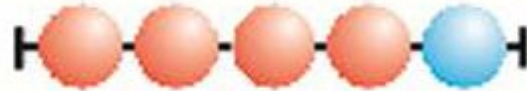
Сначала рассади девочек, а затем засели домик. При проверке щелкай на пустые клеточки.

Объясни по рисунку, как разными способами можно рассадить 5 девочек на 2 скамейки.



В каждой строке рассмотри рисунок и запиши слева и справа от него. Заполни пропуски.

$4 + 1 = 5$



$5 - 1 = 4$

$3 + 2 = 5$



$5 - 2 = 3$

$2 + 3 = 5$



$5 - 3 = 2$

$1 + 4 = 5$



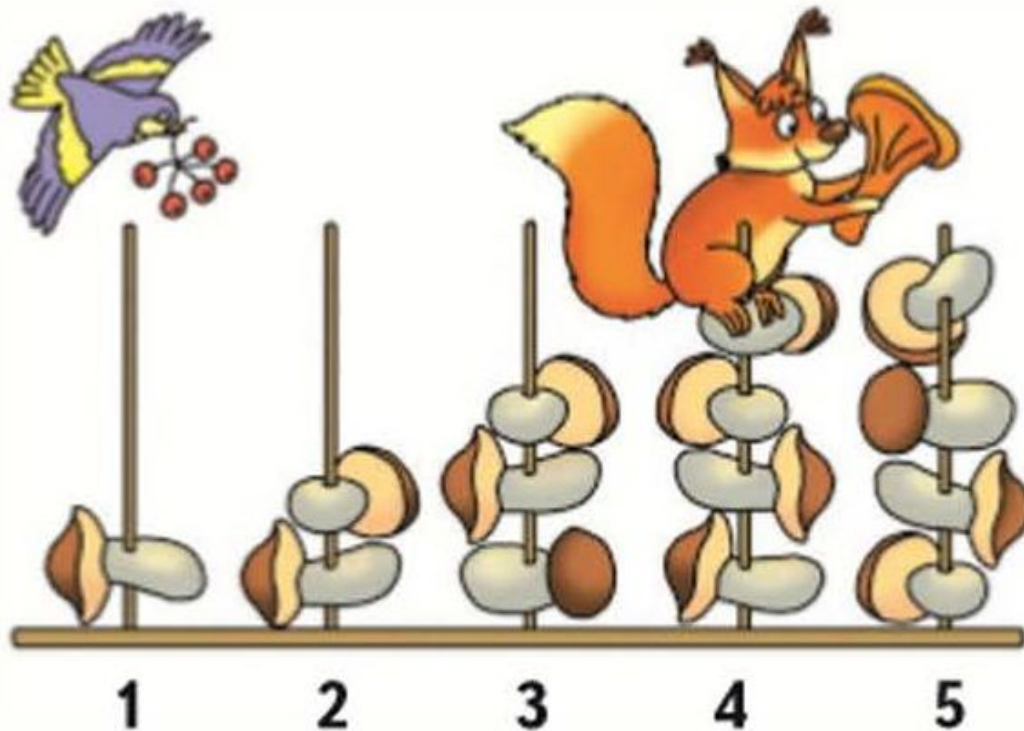
$5 - 4 = 1$

Запиши примеры в два столбика.

Вместо шаров обводи клеточки красным и синим карандашом.

Для проверки щелкни на первый пример.





Используя рисунок, сравни числа 1 и 2;
2 и 3; 3 и 4; 4 и 5; 2 и 4.

Рассуждай так: «1 больше, чем 2», «2 меньше,
чем 4»



Математический

Повтори состав **диктанта**. Запиши в тетрадь по порядку числа, которые

должны быть на вишенках. Для проверки щёлкай на вишенки.

1



3

2

4

2



3

4

2

3



3

4

1

4



2

1

3



Выучи состав числа 5. Повтори состав чисел 2, 3, 4.

Подготовься к проверочной работе.



Спасибо за
урок !

