



Сложение и вычитание вида

$$\square + 3, \quad \square - 3.$$




МОБУ «Усть – Ярульская сош»

Сенчик Галина Петровна




Прозвенел звонок для нас,
Все зашли спокойно в
класс.

Встали все у парт красиво,
Поздоровались учтиво.



Игра «Молчанка»





5





8 6 2





10





3 1 2





6 4 2





92





7





4 2 2





1 3 2





2 4 2





9 7 2



Умницы



2

Самоопределение к деятельности.



$$3 - 1 \quad 3 + 1$$


$$6 - 1 \quad 6 + 1$$

$$9 - 1 \quad 9 + 1$$


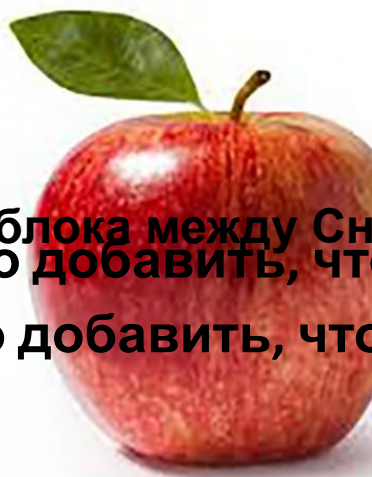
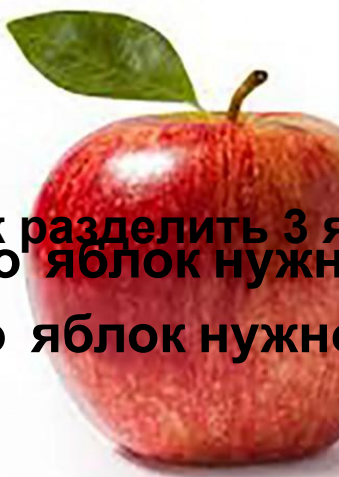
- Что значит « вычесть 1 »?

- Что значит « прибавить 1 »?

- Назовите ответы.



Самоопределение к



Как разделить 3 яблока между Снеговиком и Снегурочкой?
Сколько яблок нужно добавить, чтобы у Снеговика стало 3?
Сколько яблок нужно добавить, чтобы у Снегурочки стало 3?



Самоопределение к деятельности.


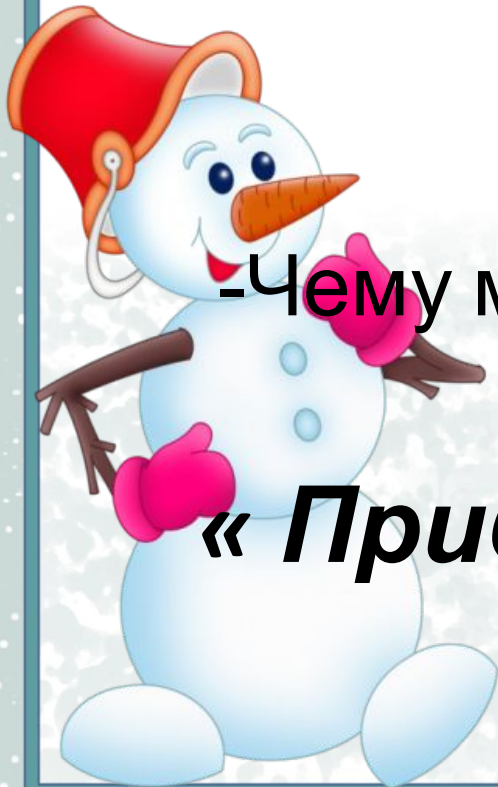
Закончите утверждения:

3 – это 2 и ...

3 – это 1 и ...

-Чему мы будем учиться сегодня на
уроке?

**« Прибавлять и вычитать
число 3 »**





Физминутка

КТО ПОМНИТ ЗАГАДКУ?



*С неба по частям упал,
В три клубка скатался,
С помощью детишек встал.
И стоять остался.*



Практическая работа.



$$6 + 1 + 1 + 1 = 9$$



$$6 + 2 + 1 = 9$$




$$6 + 1 + 2 = 9$$


Сделайте вывод: как можно прибавить число 3?




Практическая работа.



$$7 - 1 - 1 - 1 = 4$$



$$7 - 2 - 1 = 4$$



$$7 - 1 - 2 = 4$$

Сделайте вывод: как можно вычесть число 3?



Работа по учебнику.



ЦЕПОЧКА:

10

+1

-2

-3

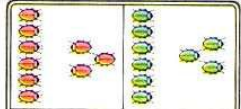
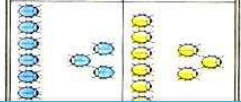
6

$\square + 3$

$\square - 3$

Вспомни, что 3 — это 2 и 1.
Объясни, как можно к числу прибавить 3; как из числа вычесть 3.

Фронтальная работа

$6 + 3$		$9 - 3$
$6 + 2 + 1$		$9 - 2 - 1$
$6 + 3$		$9 - 3$
$6 + 1 + 2$		$9 - 1 - 2$

Работа в парах.

- | | | |
|-----------------------|---------------------|--------------------------|
| 1. $5 + 3$ | $7 - 3$ | $10 - 3$ |
| $5 + 2 = 7$ | $7 - 2 = \square$ | $10 - \square = \square$ |
| $7 + 1 = 8$ | $5 - 1 = \square$ | $\square - 1 = \square$ |
| 2. $7 + 2 \bigcirc 9$ | $6 - 2 \bigcirc 5$ | $5 + 1 \bigcirc 7$ |
| $7 + 3 \bigcirc 9$ | $6 - 3 \bigcirc 3$ | $8 - 1 \bigcirc 7$ |
| $10 - 1 \bigcirc 8$ | $10 - 2 \bigcirc 7$ | $7 + 1 \bigcirc 7$ |



$\square + \square = \square$
 $\square - \square = \square$



Применение новых знаний при решении задач.



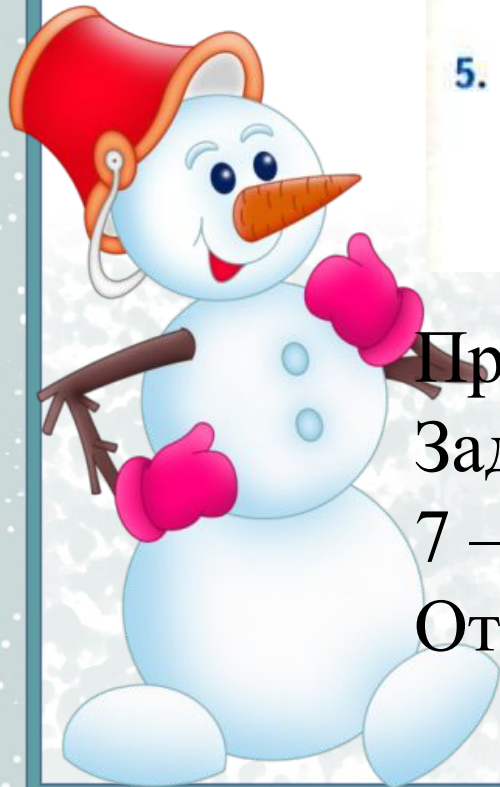
Самостоятельная работа по вариантам

4. Было 

Стало на 3 меньше.
Сколько ягод стало?

5. Было 

Стало на 3 больше.
Сколько желудей стало?



Проверь себя!

Задача 4.

$$7 - 4 = 3 \text{ (я)}$$

Ответ: 3 я.

Проверь себя!

Задача 5.

$$4 + 3 = 7 \text{ (ж)}$$

Ответ: 7 ж.



Закрепление пройденного.



Игра «Составим поезд»

1) Рассмотрим, как составлен поезд.



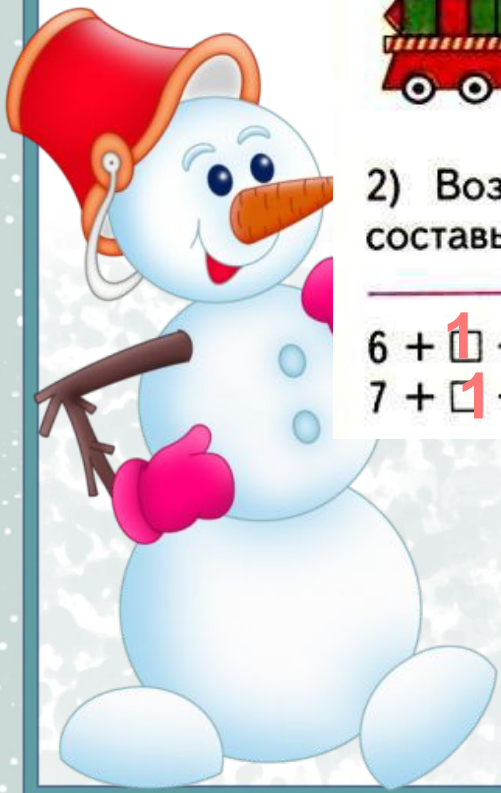
2) Возьми карточки с другими примерами и составь поезд из них.

$$6 + \boxed{1} + 2 = 9$$

$$7 + \boxed{1} + \boxed{2} = 10$$

$$5 + 2 + \boxed{1} = 8$$

$$9 - \boxed{1} - 2 = 6$$



Рефлексия

- Сегодня на уроке я научился...
- Мне было интересно..
- Мне было трудно...
- Я понял, что...
- Я почувствовал, что...
- Больше всего мне понравилось...
- Своей работой на уроке я доволен (не совсем, не доволен), потому что...



Рекомендации для занятий



ДОМА

$\square + 3$

$\square - 3$

• Нарисуй схему к каждой задаче. Реши задачи.

1) У Коли было 5 р. Он купил карандаш за 3 р. Сколько рублей у него осталось?

_____ Ответ: _____

2) На полянке было 4 зайца, а стало на 2 больше. Сколько зайцев стало на полянке?

_____ Ответ: _____

