

Задачи на уменьшение числа на несколько единиц




*Школа России
Математика 1 класс*






Устный счёт




Нарисуй столько кружков, сколько звёздочек.



Убери 1 кружок. Сколько их стало?

4.



$$5 + 2 + 2 =$$

$$8 - 2 - 2 =$$

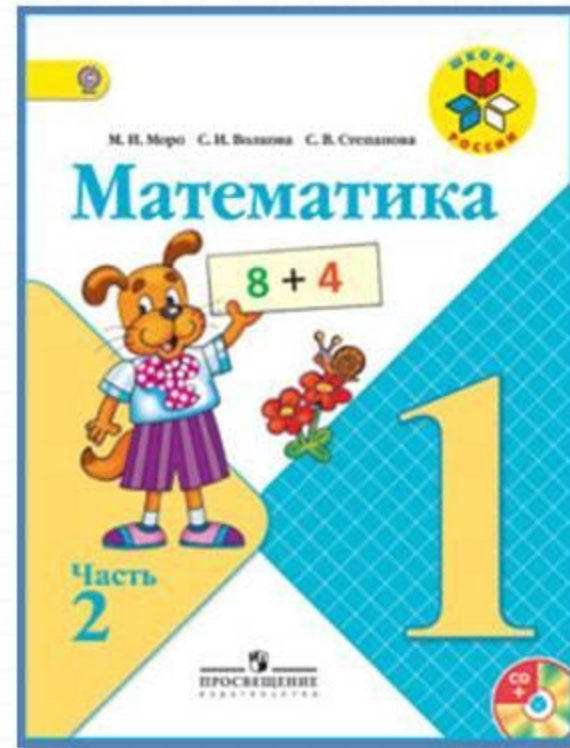

$$10 - 2 - 2 =$$

$$9 - 3 - 1 =$$

$$3 + 3 + 1 =$$

$$6 + 1 + 2 =$$


Работа по учебнику



стр. 6 -

7

Объясни по рисунку, как составлены каждая схема и каждое равенство.



Столько же.
Сколько ... ?
 $4 = 4$



На 1 меньше, или
столько же без одного.
Сколько ... ? $8 - 1 = \square$

1. Положи в один ряд 6 квадратов, а в другой — столько же кругов. Сделай так, чтобы кругов стало на 2 меньше, чем квадратов. Сколько стало кругов?
2. Узнай, сколько стаканов воды входит в кувшин, а сколько — в самовар.



5 стаканов. Столько же. На 4 больше.

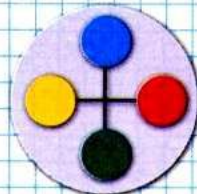
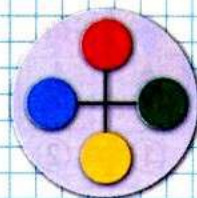
3. $9 - 2 - 2$ $1 + 7 - 5$ $2 + 8 - 0$
 $8 - 1 - 3$ $2 + 8 - 6$ $4 + 6 - 8$
 $7 - 0 - 4$ $6 + 3 - 5$ $7 + 2 - 6$

4. Оля старше Вани, но моложе Коли. Кто из них старше всех? моложе всех?


Валя нарисовала 5 красных треугольников, а синих на 2 меньше. Сколько синих треугольников она нарисовала?



СРАВНИ:



Объясни по рисунку, как составлены каждая схема и каждое равенство.



Столько же.
Сколько ... ?
 $4 = 4$



**На 1 меньше, или
столько же без одного.**
Сколько ... ? $8 - 1 = \square$

1. Положи в один ряд 6 квадратов, а в другой — столько же кругов. Сделай так, чтобы кругов стало на 2 меньше, чем квадратов. Сколько стало кругов?
2. Узнай, сколько стаканов воды входит в кувшин, а сколько — в самовар.



5 стаканов.




Столько же.



На 4 больше.

Работа в тетради

стр.
5

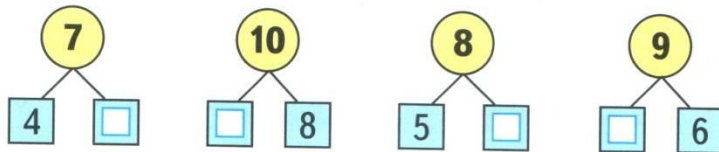


Задание 4, остальные задания не решаем

- 1 У Лены 8 тетрадей в линейку, а в клетку на 2 тетради меньше. Сколько у Лены тетрадей в клетку?

Ответ:

- 2 Какие числа закрыты карточками? Запиши числа.



- 3
- | | | | |
|--------------------------|-------------------|-------------------|-------------------|
| <input type="checkbox"/> | $8 - \square = 6$ | $5 + \square = 6$ | $\square - 3 = 7$ |
| <input type="checkbox"/> | $8 - \square = 5$ | $5 + \square = 7$ | $\square - 2 = 8$ |
| <input type="checkbox"/> | $8 - \square = 4$ | $5 + \square = 8$ | $\square - 1 = 9$ |

- 4 Ира раскрасила

- Аня — на 2 больше .
Сколько ... Аня?

Ответ:

- 5 736 763 3

- 6
- | | | |
|-----------|-----------|-----------|
| $9 - 1 =$ | $7 - 2 =$ | $9 - 3 =$ |
| $8 - 1 =$ | $8 - 3 =$ | $6 - 3 =$ |
| $7 - 1 =$ | $9 - 2 =$ | $8 - 4 =$ |

Рефлексия

Сегодня на уроке я:

- научился...
- было интересно...
- было трудно...
- мои ощущения...
- этот урок дал мне для жизни...
- больше всего понравились задания...



Домашнее задание

РТ стр.5, задание 1

- 1 У Лены 8 тетрадей в линейку, а в клетку на 2 тетради меньше. Сколько у Лены тетрадей в клетку?

Ответ:

